

**COMPOSITION DU 3<sup>ème</sup> TRIMESTRE 2025-2026**

**Epreuves orales CP2**

**JE SAIS LIRE CP2**

Maman a trouvé un papier sur la table-basse sur lequel il est écrit un texte. Elle veut savoir ce qui y est écrit mais elle ne sait pas lire. Elle te demande de lire ce texte pour elle.

**TEXTE:** Samedi est un jour de repos. Papa lit le journal. Ama fait son devoir de maison. Ika aide maman à la cuisine.

**Consigne :** Lis le texte à haute voix puis réponds aux questions suivantes:  
(texte bien lu) 6pts

Questions

- 1-Samedi est un jour de repos : Vrai ou Faux ? 1pts
- 2-Que fait papa ? 2pts
- 3-Qui aide maman à la cuisine ? 1pts

**Critères de notation (je sais lire)**

- Lecture de tous les mots (2pts)
- Lecture courante (2pts)
- Prononciation correcte (2pts)

.....

**COMPOSITION DU 3<sup>ème</sup> TRIMESTRE 2025-2026**

**JE SAIS PARLER CP2**

Tu as assisté à l'anniversaire de ton ami (e) ou de ton camarade. De retour à la maison, tes parents te demandent de leur rendre compte.

**Consigne :**

Fais le compte-rendu de cet anniversaire à tes parents en utilisant au moins cinq phrases dans des situations suivantes :

### Exploitation

- 1- Tu donnes le nom de ton ami (e) ou camarade.
- 2- Tu donnes le jour et le lieu de l'anniversaire.
- 3- Tu dis les repas servis ainsi que la boisson servie.
- 4- Tu décris l'ambiance.
- 5- Tu donnes tes impressions.

### Critères

A chaque numéro, la notation prend en compte :

- La pertinence de la production (1pt)
- La cohérence de la production. (1/2pt)
- La correction de la langue (1/2pt)

Soit, chaque numéro est noté sur (2pts).

Signe plus 2pts

Réponse 5pts

COMPOSITION DU 3<sup>ème</sup> TRIMESTRE 2025-2026 DRE-GL

JE SAIS ECRIRE (C~~ETTE~~) CP2

Dictée

Le directeur (la directrice) veut savoir si tu sais écrire les mots sans les regarder ailleurs. Pour cela, il te demande d'écrire le texte suivant. Ecoute bien et écris les mots sans faire de fautes.

Texte :

Alima est une élève. En classe, elle écoute bien le maître. Papa est content de sa fille. Il la félicite.

Barème : un mot juste vaut 1/2point

COMPOSITION DU 3<sup>ème</sup> TRIMESTRE 2025-2026 DRE-GL

EDUCATION ARTISTIQUE CP2

C'est la saison des mangues. Ta maman rentre du marché avec des mangues. Elle te dit d'en choisir une à ton goût. Tu choisis la plus grosse et bien mûre. Dessine-la et colorie-la avec la couleur qui convient.

**Critères de correction**

Mangue dessinée ; 3 pts

Dessinée grosse 1pt

## EDUCATION ARTISTIQUE (DESSIN) CP1

Bientôt les vacances. Les enfants auront le temps de s'amuser et jouer au ballon. Tu voudrais que ton papa t'offre un ballon. Dessine le joli ballon que tu veux recevoir.

### Critères de notation

- La production est notée sur 10
- Bon dessin : 7
- Dessin passable : 5
- Utilisation de couleurs : 2

## JE SAIS ECRIRE LES MOTS (DICTEE) CP1

Écoute attentivement le maître et écris correctement les mots.

L'école, la robe ; un joli le sac. pana joue avec son camarade

Critère de correction : Chaque mot bien écrit vaut 1 point.

## JE SAIS ECRIRE LES MOTS (COPIE) CP1

Copie correctement ces phrases pour montrer à ton maître que tu sais bien écrire.

Le samedi aï va au marigot. Elle lave sa robe.

### Grille de correction

Consignes	Critères	
	Pertinence de la production	Cohérence de la production
Réécrire	L'élève a le point s'il a écrit (2pts)	L'élève a le point si les formes graphiques sont régulières. (2pts)
		L'élève a le point si les mots écrits sont conformes au modèle à réécrire. (6pts)
Total	2pts	8pts

**MATHEMATIQUE CP1**

1- Range les nombres suivants du plus petit au plus grand (2pts)

4 - 1 - 6 - 8 - 3

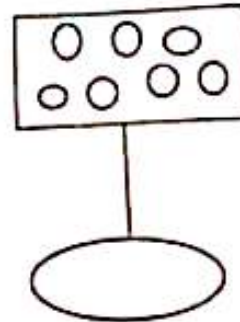
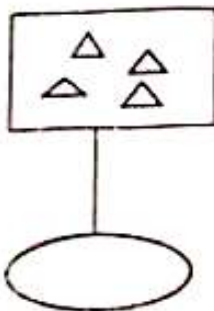
2- Utilise le signe qui convient <, =, > (2pts)

5 - 3 ; 3 + 5 . 8

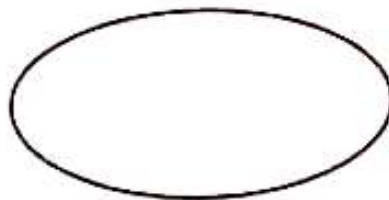
3- Effectue les opérations suivantes (2pts)

5	0
+2	+6
-----	-----
=	=

4- Ecris dans l'étiquette le nombre d'objets (2pts)



5- Voici une ligne fermée. Dessine 3 bâtonnets dedans et 2 bâtonnets dehors.



**CALCUL MENTAL CP1**

1- Une main compte 5 doigts. Deux mains font combien de doigts ?

2- Quel est le nombre qui vient juste après 6 ?

3- Ecris le plus petit nombre entre les nombres suivants :

6 - 2 - 7 - 0

4- Ecris en lettre : 5

5- Le chien a combien de pattes ?

**PROBLEME**

Marie a	5	mangues
Maman lui donne encore	. 4	mangues
<u>Marie a en tout</u>	.	<u>mangues</u>

Maman te demande d'aider Marie à calculer le nombre de mangues qu'elle a.

Critère de correction : le signe (+) équivaut à 3pts et la réponse 7pts.

G/A

4

PROBLEME

Marie a	5	mangues
Maman lui donne encore	. 4	mangues
Marie a en tout	.	mangues

Maman te demande d'aider Marie à calculer le nombre de mangues qu'elle a.

Critère de correction : le signe (+) équivaut à 3pts et la réponse 7pts.

**COMPOSITION DU 3<sup>ème</sup> TRIMESTRE 2025-2026 DRE-GL**

**CP2 JOUR 1- 04 JUIN 2026**

**JE SAIS ECRIRE LES MOTS CP2** *Copie*

Au CE1 on copie les leçons. Ton maître veut savoir si tu es prêt à aller au CE1. Il te demande de copier ce petit texte.

Copie-le proprement sur les lignes en formant bien les lettres.

**Texte :**

Le paysan a acheté une belle chemise bleue à son fils. Tout joyeux, le fils a promis d'avoir une bonne moyenne en fin d'année.

**Critères de notation**

- 1) Un mot juste prend 0,25pt  
Les mots répétés sont comptés une seule fois.
- 2) L'élève écrit sur la ligne 2pts
- 3) L'élève forme bien les lettres 2pts
- 4) La propreté du texte 1pts

.....  
**COMPOSITION DU 3<sup>ème</sup> TRIMESTRE 2025-2026 DRE-GL**

**EXERCICES ECRITS DE MATHEMATIQUES CP2**

Vous avez étudié en classe l'écriture des nombres en chiffres et en lettres. Prouve à ta maman que tu as bien compris la leçon en écrivant en lettre et en chiffres les nombres que voici :

- a) En lettre : 80 1pt
- b) En chiffres : soixante- treize 1pt

.....

**COMPOSITION DU 3<sup>ème</sup> TRIMESTRE 2025-2026 DRE-GL**

**CALCUL MENTAL CP2**

Le maître veut savoir si tu peux faire des calculs rapidement dans ta tête. Ecoute attentivement, réfléchis et trouve mentalement les réponses justes puis écris-les sur ta feuille.

- 1) Kokou a 35 billes. En jouant, il gagne 5 billes. Combien de billes a-t-il en tout ?
- 2) Afi a 25 bonbons. Elle donne 10 bonbons à Ama. Ecris le nombre de bonbons qui lui reste.
- 3) Ecris le nombre qui vient juste après 89.
- 4) Ali a passé une semaine chez son oncle. Ecris le nombre de jours qu'une semaine représente.
- 5) Tu veux acheter un bic . Le boutiquier te dit que le bic coûte 100f. tu n'as que 50f. Combien te manque-t-il pour acheter le bic ? Ecris la réponse.

.....

**COMPOSITION DU 3<sup>ème</sup> TRIMESTRE 2025-2026 DRE-GL**

**PROBLEME CP2**

Maman a ramené ce matin du marché	22 fruits
Elle les dépose dans le panier où il y avait déjà	.. fruits
Tu comptes le contenu du panier et tu trouves	35 fruits

Maman te demande combien de fruits il y avait dans le panier avant son retour du marché. Pose et remplace les pointillés par le nombre de fruits qu'il y avait dans le panier. Mets le signe qui convient.

Critères

L'élève a posé 3pts

2) Pour le quadrillage que tu vois, le maître te dit de colorier les cases (a<sub>2</sub>, c<sub>4</sub> e<sub>6</sub> f<sub>1</sub>) fais le correctement

6						
5						
4						
3						
2						
1						
0	a	b	c	d	e	f

NB : 1/2pt par case trouvée

3) Ton grand frère de CE1 n'arrive pas à faire les opérations d'addition et de soustraction. Tu veux lui montrer que tu maîtrises correctement. Pose et effectue donc les opérations que voici :

a)  $55+27$  1pt

b)  $67-33$  1pt

4) Prouve à ton père que tu as bien compris la leçon sur les dizaines et les unités en complétant :

$98 = \dots\dots\dots d$  et  $\dots\dots\dots u$  (2×1/2pt)

3 dizaines et 7 unités =  $\dots\dots\dots u$  1pt

5) Pour avoir la meilleure note rassure ton maître que tu as maîtrisé la leçon sur la comparaison des nombres en complétant avec les signes  $<$ ,  $=$ ,  $>$

a)  $30+4$  .  $38$  1/2pt

b)  $35$  .  $45-10$  1/2pt

c)  $99$  .  $66$  1/2pt

d)  $35$  .  $53$  1/2pt

# COMPOSITION DU 3<sup>ème</sup> TRIMESTRE 2025-2026 DRE-GI

CP2 JOUR 1- 01 JUIN 2026

## JE SAIS ECRIRE LES MOTS CP2

Au CE1 on copie les leçons. Ton maître veut savoir si tu es prêt à aller au CE1. Il te demande de copier ce petit texte.

Copie-le proprement sur les lignes en formant bien les lettres.

Texte :

Le papa a acheté une belle chemise bleue à son fils. Tout joyeux, le fils a promis d'avoir une bonne moyenne en fin d'année.

Critères de notation :

- 1) Un mot juste prend 0,25pt  
Les mots répétés sont comptés une seule fois.
- 2) L'élève écrit sur la ligne 2pts
- 3) L'élève forme bien les lettres 2pts
- 4) La propreté du texte 1pt.

## CALCUL MENTAL CP2

Le maître veut savoir si tu peux faire des calculs rapidement dans ta tête. Ecoute attentivement, réfléchis et trouve incitalement les réponses justes puis écris-les sur ta feuille.

- 1) Kokou a 3 billes. En jouant, il gagne 5 billes. Combien de billes a-t-il en tout ?
- 2) Afi a 25 bonbons. Elle donne 10 bonbons à Ama. Ecris le nombre de bonbons qu'il lui reste.
- 3) Ecris le nombre qui vient juste après 89.
- 4) Ali a passé une semaine chez son oncle. Ecris le nombre de jours qu'une semaine représente.
- 5) Tu veux acheter un bic. Le boucher te dit que le bic coûte 100F, tu n'as que 50F. Combien de monnaie as-tu pour acheter le bic ? Ecris la réponse.

## PROBLEME CP2

Maman a ramené ce matin du marché

22 fruits

Elle les dépose dans le panier où il y avait déjà

13 fruits

Tu comptes le contenu du panier et tu trouves

35 fruits

Maman te demande combien de fruits il y avait dans le panier avant son retour du marché. Pose et remplis les pointillés par le nombre de fruits qu'il y avait dans le panier. Mets le signe qui convient.

Critères :

L'élève a posé 3pts ; Signe plus 2pts ; Réponse 5pts

## JE SAIS ECRIRE (COPIE) CP2

Le directeur (la directrice) veut savoir si tu sais écrire les mots sans les regarder ailleurs. Pour cela, il te demande d'écrire le texte suivant. Ecoute bien et écris les mots sans faire de fautes.

Texte :

Alima est une élève. En classe, elle écoute bien le maître. Papa est content de sa fille. Il la félicite.

Barème : un mot juste vaut 1/2point

## EDUCATION ARTISTIQUE CP2

C'est la saison des mangues. La maman rentre du marché avec des mangues. Elle te dit d'en choisir une à ton goût. Tu choisis la plus grosse et bien mûre. Dessine-la et colorie-la avec la couleur qui convient.

Critères de correction :

Mangue dessinée 3 pts ; Dessinée grosse 1pt ; Couleur utilisée : 3 points ; Propreté : 3 points

EXERCICES ECRITS DE MATHÉMATIQUES CP2

1) Vous avez étudié en classe l'écriture des nombres en chiffres et en lettres. Prouve à ta maman que tu as bien compris la leçon en écrivant en lettre et en chiffres les nombres que voici :

a) En lettre 80 1pt

b) En chiffres soixante-treize 1pt

2) Pour le quadrillage que tu vois, le maître te dit de colorier les cases (a, c, e, f) fais le correctement

6						
5						
4						
3						
2						
1						
0	a	b	c	d	e	f

NB : 1/2pt par case trouvée

3) Ton grand frère de CE1 n'arrive pas à faire les opérations d'addition et de soustraction. Tu veux lui montrer que tu maîtrises correctement. Pose et effectue donc les opérations que voici :

a)  $55 + 27$  1pt

b)  $67 - 33$  1pt

4) Prouve à ton père que tu as bien compris la leçon sur les dizaines et les unités en complétant :

$98 = \dots\dots\dots d$  et  $\dots\dots\dots u$  ( $2 \times 1/2pt$ )

$3$  dizaines et  $7$  unités =  $\dots\dots\dots u$  1pt

5) Pour avoir la meilleure note rassure ton maître que tu as maîtrisé la leçon sur la comparaison des nombres en complétant avec les signes  $<$ ,  $=$ ,  $>$

a)  $30 + 4$  .  $38$  1/2pt

b)  $35$  .  $45 - 10$  1/2pt

c)  $99$  .  $66$  1/2pt

d)  $35$  .  $53$  1/2pt