

Je sais parler

Tu n'as pas de crayon pour travailler en classe. Ton tamarade de banc est à deux.

Consigne :

- demande-lui de te donner un.

Après le travail, tu t'amuses avec le crayon et tout à coup, il est tombé et cassé.

-présente lui tes excuses.

Critère de notation :

- respect des consignes (3pts)
- cohérence des idées (3pts)
- correction de la langue (3pts)
- autonomie (1pt)

Je sais lire

Tu dois lire correctement et à haute voix pour montrer à ton directeur que tu es prêt pour passer au CP2.

« t, va, pu, maman, afi va à l'école. »

Consigne : lire le texte à haute voix.

Questions

Réponds aux questions suivantes :

- 1- Où va afi ? (1pt)
- 2- montre-moi le mot « maman », le mot « va » (1pt x 2)

Lecture bien faite (7pts)

NB : Ne pas copier le texte au tableau. Remettre le texte de lecture à l'élève.

Je sais dire

Choisir 5 morceaux enseignés, les numéroter sur des bouts de papier que l'élève va tirer au sort.

Critère de notation :

- Respect de groupe de souffle (3pts)
- Cohérence des gestes (3 pts)
- Bonne diction (articulation des mots) (4pts)

Education musicale

Choisir 5 morceaux enseignés, les numéroter sur des bouts de papier que l'élève va tirer au sort.

Critère de notation :

- Respect du groupe de souffle (3pts)
- Cohérence des gestes (3 pts)
- Bonne diction (articulation des mots) (4pts)

DRE MARITIME

EXAMENS DE PASSAGE 2022-2023

CP1 au CP2

JE SAIS ECRIRE LES MOTS (Dictée)

C'est la fin de l'année. Ton maître veut voir si tu sais écrire les mots que vous avez appris à lire et à écrire en classe. Il te demande d'écrire les mots suivants :

Mon ami joue au ballon dans la cour de l'école.

DRE MARITIME

EXAMENS DE PASSAGE 2022-2023

CP1 au CP2

CALCUL MENTAL

- 1- Montrer 5 gros bâtonnets et demander aux élèves d'écrire le nombre de bâtonnets. (2pts)
- 2- Quel est le nombre qui vient juste après 6 ? (2pts)
- 3- Parmi les deux nombre 7 et 9, quel est la plus grand ? écris-le. (2pts) **15**
- 4- Bila a 6 mangues. Maman lui ajoute encore 2 mangues. Aide-la à faire la somme. (2pts)
- 5- Notre rue est bordée d'arbres. Sur un côté tu comptes 10 arbres et sur l'autre tu trouves encore 10 arbres. Ecris le nombre total d'arbres. (2pts) **18**

DRE MARITIME

EXAMENS DE PASSAGE 2022-2023

CP1 au CP2

JE SAIS ECRIRE (copie)

Papa est parti en voyage. Maman t'annonce que papa va revenir demain. Tu veux décorer la chambre de papa avec le message suivant : « papa, tu nous as manqué, sois le bienvenu. nous sommes contents. »

Consigne : recopie bien et sans faute le message en minuscule cursive.

NB : Copier le texte en cursive sur une portée au tableau

-Respect du corps des lettres (5pts)

-Ecriture sur la ligne et sans faute (5pts)

DRE MARITIME

EXAMENS DE PASSAGE 2022-2023

CP1 au CP2

ART PLASTIQUE (dessin)

Ta maman veut faire la sauce. Pour couper la viande qu'elle a achetée, elle utilise un couteau. Dessine ce couteau.

DRE MARITIME

EXAMENS DE PASSAGE 2022-2023

CP1 au CP2

PROBLEME

Kokou a

6 mangues

Son ami lui donne

• 2 mangues

Kokou a en tout . mangues

EXERCICES ECRITS DE MATHÉMATIQUES

NOM et PRENOMS.....NUMERO DE TABLE :.....


EXERCICES ECRITS DE MATHÉMATIQUES

1) Pour décorer votre chambre, ton frère ALOU fabrique une guirlande avec des objets de formes différentes alignés comme suit :




Ton frère veut les objets les plus nombreux qui ont la même forme

Consigne : Dessine cette forme dans le cadre.



(2pts)

2) Ton maître a mis tes camarades en rang pour le défilé, du plus petit au plus grand. Certains portent déjà un numéro d'ordre ; complète les numéros sur les étiquettes.



(2pts)

3) Je mets le signe qui convient : = ; < ; >

$1 + 2 . 3 ;$

$4 . 2 ;$

$1 . 7$ (3pts)

4) Anani a mangé du riz et du poisson ce matin.

A midi il a mangé du riz, puis de la banane.

Le soir il a mangé du macaroni au poulet.

Le tableau suivant indique ce que Anani a mangé dans la journée

matin					
midi					
soir					
	riz	macaroni	poulet	poisson	banane

Consigne : Marque par une croix dans la case qui convient ce que Anani a mangé à chaque moment de la journée.

DRE MARITIME

EXAMENS DE PASSAGE DU CP2 AU CE1

2022-2023

PROBLEME

Dans une classe de CP2, il y a 37 garçons et 28 filles. Pose l'opération et trouve l'effectif de la classe.
Le jour de l'examen, 12 élèves sont absents. Calcule le nombre d'élèves présents.

* Critère de notation :

Chaque opération = 5 points dont 2 points pour l'opération bien posée et 3 points pour la réponse juste.

DRE MARITIME

EXAMENS DE PASSAGE CP2 au CE1 2022-2023

EPREUVES ORALES

JE SAIS PARLER

Un étranger te rencontre et veut connaître l'école que tu fréquentes.

Présente-lui ton école, dis-lui le chemin à suivre pour y arriver. Situe ta classe et donne-lui le nom de ton maître.

Critères de notation

- Pertinence de la production (respect des consignes : 1 point par élément de réponse) 4pts
- Cohérence de la langue (Les réponses sont conformes) 4pts
- Correction de la langue (les prononciations et la syntaxe sont correctes) 2pts

DRE MARITIME

EXAMENS DE PASSAGE CP2 au CE1 2022-2023

JE SAIS LIRE

Ton père veut savoir si tu as appris à bien lire cette année à l'école. Lis le texte suivant pour lui montrer que tu sais bien lire puis réponds aux questions :

J'ai un chien au pelage noir. Il s'appelle Médor. Tous les soirs, à mon retour de l'école, il agite sa queue pour me saluer. Je vais déposer mon sac dans la chambre et je l'emmène en promenade dans le quartier. Tous les amis qui nous voient nous admirent.

Critères de notation :

- L'élève a lu correctement les cinq phrases (8 pts)
- L'élève a réussi à lire trois phrases (5 pts)
- L'élève a juste réussi à lire quelques mots (0,5 pt par mot ; 3 pts au maximum)

Questions

- 1- Quel est le nom du chien ? (1pt)
- 2- Que fait le chien lorsqu'il veut saluer ? (1pt)

DRE MARITIME

EXAMENS DE PASSAGE CP2 au CE1 2022-2023

EPREUVES ORALES

JE SAIS DIRE

L'élève récite au choix un texte de *j'apprends à dire* étudié en classe.

Critères de notation :

- Maîtrise du texte (4 pts)
- Expressivité orale (4 pts)
- Expressivité gestuelle (2pts)

EXERCICES ECRITS DE MATHEMATIQUES

Nom et prénoms.....Numéro de table :.....

1) Observe le tableau et complète :

a) Dessine un ballon en haut et à gauche. (1pt)

b) Ecris 9 en bas et à droite. (1pt)

2) Tu veux prouver à maman que tu sais écrire les nombres en chiffres et en lettres ; écris donc :

a) En lettres : 75 (1pt)

b) En chiffres : soixante-neuf (1pt)

3) Tu as appris ta leçon sur les dizaines et les unités. Ton maître te demande de compléter :

a) 6 dizaines et 8 unités =unités. (1pt)

b) 45 unités =dizaines etunités. (1pt)

4) Tu as appris en classe avec ton maître à comparer des nombres. Compare les nombres suivants en mettant le signe qui convient : < ; = ; >

65 . 50 (0.5 pt)

25 . vingt-cinq (1pt)

35 . 81 (0.5 pt)

5) Voici les étiquettes-nombres indiquant les âges de certains membres de ta famille. Range-les du plus petit au plus grand sur ta feuille :

18 . 52 . 41 . 14 . 83 . 90(2pts)

DRE MARITIME

EXAMENS DE PASSAGE DU CP2 AU CE1 2022-2023

JE SAIS ECRIRE LES MOTS (DICTEE)

Ton frère veut savoir si tu sais bien écrire. Il te demande d'écrire ce texte. Ecoute bien et écris :

Ali est un bon élève. Il travaille bien en classe. Il aide ses parents à la maison et au champ.

NB : un mot mal écrit enlève 0,5 point.

DRE MARITIME

EXAMENS DE PASSAGE DU CP2 AU CE1

2022-2023

CALCUL MENTAL

- 1) Dans une classe de CP2, il y a 45 élèves. Ce matin le maître fait l'appel et 5 élèves sont absents. Combien d'élèves sont présents ? (2pts)
- 2) Papa veut partager 100f entre Ama et Afi. Combien aura chaque fille ? (2pts)
- 3) Baba a 10 mangues. Son ami Anani en a le double. Combien de mangues Anani a en tout ? (2pts)
- 4) Combien de capsules faut-il ajouter à 6 capsules pour avoir une dizaine de capsules ? (2pts)
- 5) Quel nombre vient juste après 69 ? (2pts)

DRE MARITIME

EXAMENS DE PASSAGE DU CP2 AU CE1 2022-2023

JE SAIS ECRIRE (COPIE)

Prouve à ton père que tu t'appliques bien en classe en recopiant le texte suivant :

Le village se réveille tôt le matin. Les hommes et les femmes vont au champ. Les élèves vont à l'école.

NB :

Copier le texte en cursive sur une portée au tableau

-Respect du corps des lettres (5pts)

-Ecriture sur la ligne et sans faute (5pts)

DRE MARITIME

EXAMENS DE PASSAGE DU CP2 AU CE1

2022-2023

EDUCATION ARTISTIQUE (DESSIN)

Papa revient du champ avec de belles mangues bien mûres. Dessinez-en une.

SCIENCES ET TECHNOLOGIES

1-Prouve à ton maître en complétant les phrases suivantes que tu connais bien les leçons :

Une maladie microbienne est causée par (1pt)

L'adémé est cultivé pour ses (1p)

2- Ton petit frère est malade ta mère le conduit à l'hôpital, le médecin affirme qu'il a le paludisme.

- Dis- lui quel insecte lui a transmis cette maladie. (1pt)

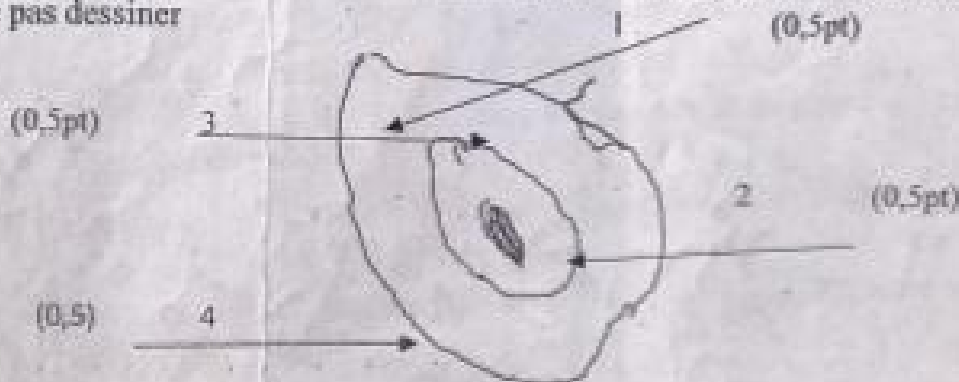
- Donne-lui un conseil pour l'éviter. (1pt)

3- Maman t'envoie dans la chambre la nuit. Cite deux moyens que tu peux utiliser pour t'éclairer. (2pts)

4- les habitants de ton village boivent de l'eau du marigot (non potable) que risquent-t-ils ? (2pts)

5- Pour prouver à ton maître que tu as bien compris ta leçon sur les fruits à noyau, complète ce croquis en écrivant les noms des différentes parties correspondantes aux numéros. (2pts)

NB : ne pas dessiner



Coupe d'une mangue

DRE MARITIME

EXAMENS DE PASSAGE CE1 au CE2

2022-2023

JE SAIS ECRIRE LES MOTS

Lors d'une émission à la radio « A nous les enfants » ton petit frère écoute ce message et veut l'écrire. Aide-le.

Une écolière

Ina est une bonne écolière. Elle se lève tôt le matin. Elle va au marigot, se lave et va vite à l'école. En classe elle, écoute bien son maître.

N.B. Une faute enlève un point

Questions

1 - Recopie la bonne phrase :

« Elle se lève tôt le matin » veut dire :

- Elle se lève à 10 heures
- Elle se lève de bonne heure (2pts)
- Elle se lève tard

2 - Complète les phrases suivantes : « Elle va au marigot »

Je au marigot (1pt)

Nous au marigot (1pt)

3 - Ina va au marigot. Souligne d'un trait le GNS et entoure le GV (2pts)

4 - Réponds par vrai ou faux : « Ina ne fait rien à la maison avant d'aller à l'école » (2pts)

5 - La dictée compte phrases. (2pts)

.....

DRE MARITIME

EXAMENS DE PASSAGE CE1 au CE2

2022-2023

CALCUL MENTAL

Ton frère veut savoir si tu sais calculer mentalement. Ecoute bien et écris les réponses correctes. (2pts)

1 - Maman vend 25 bananes le matin et 10 l'après-midi. Combien de bananes sont vendues dans cette journée ? (2pts)

2 - Séna a 15 ans. Son frère Josué a le double de son âge. Quel est l'âge de Josué ? (2pts)

3 - Ali a 8 dizaines et 4 unités de billes. Combien de billes a-t-il en tout ? (2pts)

4 - Avec une pièce de 500 F, tu achètes une chemise qui coûte 300F. Combien te rend-t-on ? (2pts)

5 - Alima a 4 pièces de 50 F. Quelle somme possède Alima ? (2pts)

.....

DRE MARITIME

EXAMENS DE PASSAGE CE1 au CE2

2022-2023

EDUCATION SOCIALE

1 - Complète la phrase suivante :

Mon école se trouve dans l'IEPP (2pts)

2 - Relève la bonne réponse (2pts)

- Le préfet dirige une école
- Le chef du village dirige une école
- Le directeur d'école dirige une école

3 - Sur une route, les élèves marchent à leur gauche. Vrai ou faux (2pts)

4 - la devise du Togo est (2pts)

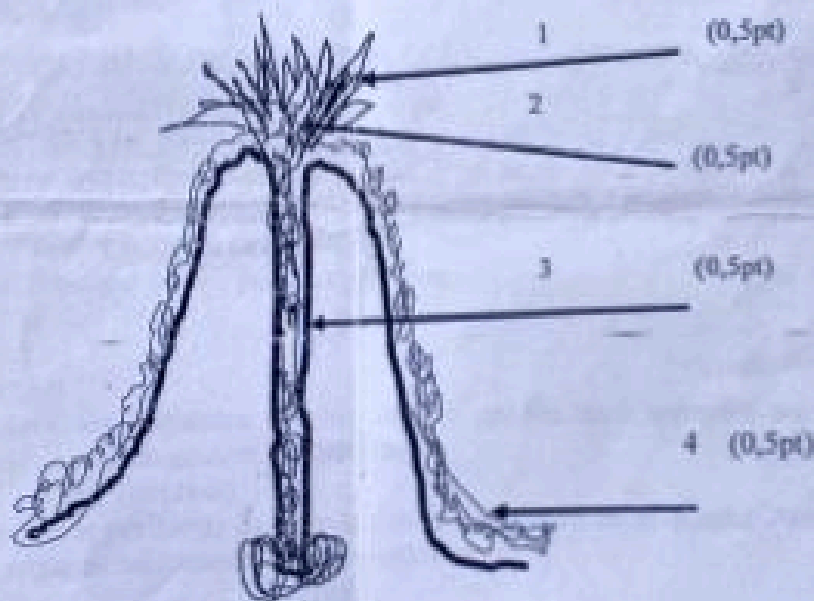
5 - Recopie la bonne manière

- a - Je jette les papiers dans la cour de l'école. (1pt)
- b - Je jette les papiers dans la poubelle. (1pt)

B2

SCIENCES HUMAINES

- 1) Tu as appris en classe l'histoire des peuples du Togo. Relie par un trait chaque roi à son peuple :
- | | |
|------------------|-----------|
| Agokoli | Quin |
| Na Biéma Bonsafo | Ewé |
| Kotokro | Kotokoli |
| Folly Bébé | Tchokossi |
- 2) Dans le mois d'avril de cette année, ton pays le Togo a célébré le 63ème anniversaire de son indépendance. Ecris la date de cette indépendance. (2pts)
- 3) Réponds à ton oncle en complétant la phrase suivante : Le..... juillet 1884, Gustav Nachtigal a signé le traité de protectorat avec le roi de Togoville à Baguida. (2pts)
- 4) Je fais face au soleil le matin. Devant moi c'est ? Derrière moi, c'est ? (2pts)
- 5) Voici le schéma d'un volcan. Complète-le en écrivant les différentes parties qui correspondent aux numéros ci-dessous.
- N.B. Ne pas dessiner. Schéma



Le volcan

EDUCATION ARTISTIQUE

Ton papa a acheté un coupe-coupe et une houe pour nettoyer autour de la maison. Dessine l'un de ces outils et écris son nom.

JE PRODUIS UN TEXTE

- 1) En classe ton maître ou ta maîtresse vous a appris à construire des phrases avec des mots ou des expressions.

Prouve à ton maître ou à ta maîtresse que tu as bien compris ta leçon et complète les phrases suivantes avec les mots ou expressions qui conviennent : au-dessus de ; pendant.

L'avion est des cases. (1pt)

..... la récréation, les élèves mangent du riz. (1pt)

- 2) Ton frère te présente la phrase suivante avec des mots, mais tu constates qu'elle n'a pas de sens. Ordonne ces mots pour avoir une bonne phrase ayant un sens : « La maison-le-chien-garde-de-papa ». (2pts)

- 3) Ton camarade fait une phrase affirmative et te demande de la transformer en phrase négative. Transforme alors en phrase négative la phrase qui suit : « Tété a des oranges dans son sac ». (2pts)

- 4) Vous aviez appris en classe la structure d'une phrase. Pour prouver à ton père que tu sais construire des phrases, construis une phrase sur le modèle : GNS + V + GN(COD) (2pts)

- 5) Dans une discussion, ton camarade dit que tu ne fais rien le matin à la maison avant de venir à l'école.

Prouve-lui le contraire ; et dis par écrit en deux phrases ce que tu fais chaque matin avant de venir à l'école. (2pts)

DRE MARITIMEEXERCICES ECRITS DE CALCUL

- 1 - Prouve à ton maître ou à ta maîtresse que tu sais écrire en lettres et en chiffres :

a- Écris en lettres : 205 (1pt)

b- Écris en chiffres : trois cent cinquante-deux (1pt)

- 2 - Montre à ton grand frère que tu sais poser et effectuer.

Pose et effectue

a- 130×3 (1pt)

b- $914 + 109$ (1pt)

- 3 - Aide papa à ranger les étiquettes nombre de ses articles en t'appuyant sur la leçon de mathématiques qui porte sur le rangement des nombres :

66 ; 0 ; 59 ; 95 ; 1000, 101 (2pts)

- 4 - Papa voudrait connaître le périmètre de sa cour carrée qui mesure 16 m de côté. Aide-le. (2pts)

- 5 - Prouve à ton maître que tu sais convertir, en complétant.

$45 \text{ hm} + 14 \text{ dam} = \dots\dots\dots \text{m}$ (2pts)

DRE MARITIMEJE SAIS RESOUDRE UN PROBLEME

Maman va au marché avec deux billets de 2000 F. Elle achète des condiments pour 1450 F et des poissons pour 1500 F.

- 1 - Combien maman possède en tout ? (3pts)

- 2 - Combien a-t-elle dépensé en tout ? (3pts)

- 3 - Combien lui reste-t-il ? (4pts)

N.B. : Questions 1 et 2, le signe (+) vaut 1pt pour chacune. Chaque bonne réponse vaut (2 pts). Le signe (-) vaut 2pts ainsi que la bonne réponse.

DRE-MARITIME

EXAMENS DE PASSAGE CE2 au CM1

2022-2023

SCIENCES ET TECHNOLOGIE

- 6) Koffi de retour de l'école, trouve une mangue et la suce sans la laver. 2pts
- c) A-t-il bien fait ?
 - d) Que devrait-il faire ? dis pourquoi ?
- 7) C'est la saison des pluies. Il y a multiplication des moustiques ; ils piquent et nous donnent le paludisme. Pour éviter le paludisme, dis parmi les comportements à adopter les bons : 2pts
- d) Je dors sous une moustiquaire imprégnée.
 - e) Je couvre la nourriture.
 - f) Je nettoie les alentours de ma maison.
- 8) Au cours d'un match de football, Adjôa tombe et se casse la jambe. 2pts
- Comment appelle-t-on cet accident ?
 - Tu as appris des notions de secourisme en classe dis ce que tu fais avant de l'amener à l'hôpital ?
- 9) Ton oncle vient de construire une nouvelle case. Il te demande de lui proposer deux moyens d'éclairage. 2pts
- 10) Maman revient du marché avec un gros tilapia. Dessine-le à ton ami en indiquant les différentes parties. 2pts

DRE-MARITIME

EXAMENS DE PASSAGE CE2 au CMI

2022-2023

J'APPRENDS A LIRE

Texte : Le travail de groupe

Douti est un élève soucieux de son avenir. A l'école, il écoute ses maîtres et respecte tous ses camarades. Malheureusement, au premier trimestre, il a de mauvaises notes en mathématiques. Pendant les congés de Noël, Douiti et ses camarades décident de former un groupe de travail. Ensemble, ils établissent un calendrier.

Chaque après-midi, après le déjeuner, le groupe se retrouve chez Ina, une des camarades, qui habite tout près de l'école. Là, ils traitent les exercices et étudient leurs leçons.

QUESTIONS DE COMPREHENSION

- 1) Dans quelle leçon Douiti a-t-il de mauvaises notes ?
- 2) A quel moment le groupe se retrouve-t-il pour travailler ?
- 3) Qu'est-ce qu'ils ont décidé pendant les congés ?
- 4) Où Douiti et ses camarades se retrouvent-ils pour travailler ?

NB : Lecture bien faite équivalent à (6 points)

DRE MARITIME

EXAMENS DE PASSAGE CMI au CM2

2022-2023

JE SAIS DIRE CE2 : (10points)

Ton maître ou ta maîtresse t'a enseigné au cours de cette année scolaire des textes à dire.

Consigne : Dis un texte qui t'a plu.

NB : Critères d'évaluation

- Maîtrise du texte : (4 pts)
- Expressivité orale : (3pts)
- Expressivité gestuelle : (3pts)

DREMARITIME

EXAMENS DE PASSAGE CE2 au CMI

2022-2023

EDUCATION MUSICALE CE2 : (10points)

Au cours de l'année scolaire, votre maître ou maîtresse vous a appris des chants.

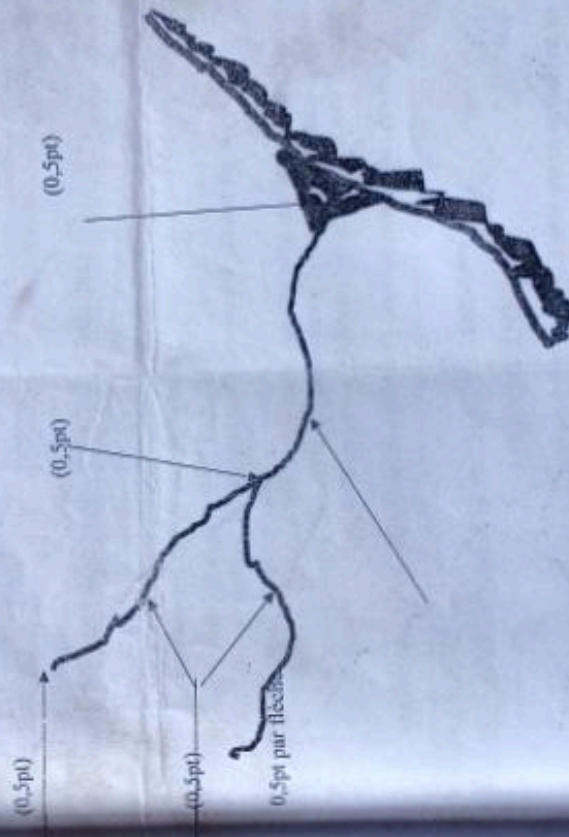
Consigne : Exécute un chant de ton choix.

NB : Critères d'évaluation

- Maîtrise du chant : (4 pts)
- Expressivité orale : (3pts)
- Expressivité gestuelle : (3pts)

SCIENCES HUMAINES

1. Vous avez appris avec le maître les peuples du Togo. Prouve cela à ton papa en citant un peuple venu de l'ouest et un peuple venu du nord ? **2pts**
2. Jean Gutenberg a fait une invention qui a est encore utilisé aujourd'hui par le monde dans la production des livres. De quelle invention s'agit-il ? **1,5pts**
3. Ton petit frère du CE1 a constaté que le 27 avril de chaque année une fête nationale est célébrée. Il veut savoir de quelle fête il s'agit. Dis-lui l'évènement qui est célébré à cette date ? **1,5pts**
4. La terre effectue des mouvements que voici : la **rotation** et la **révolution**. **2pts**
Choisis les bonnes réponses :
 - La révolution est le mouvement de la terre autour du soleil en 360 jours $\frac{1}{4}$.
 - La rotation est le mouvement de la terre sur elle-même en 24 heures.
 - La révolution est le mouvement de la terre autour du soleil pendant 365 jours $\frac{1}{4}$.
 - La rotation est le mouvement de la terre lorsqu'elle tourne sur elle-même en 36 heures.
5. Reproduis et complète les différentes parties d'un cour d'eau. **3pts**



Texte : Un match de football
C'est la fin de l'année. L'école a organisé un tournoi d'interclasse. Au cours du jeu, les joueurs très
engagés, courent à toute vitesse. À la pause, fatigués, ils prennent tous des cannettes de sucrerie.
À la fin du match, le score est resté vierge.

Questions :

1. Choisis la bonne réponse : « l'école a organisé un tournoi » veut dire :
- « l'école est fermée ».
- « L'école a préparé un tournoi ». (2pts)
1. Donne la structure de la phrase suivante : Ils prennent tous des cannettes de sucrerie. (2pts)
2. Mets le verbe de la phrase suivante à l'imparfait de l'indicatif : les joueurs courent à toute
vitesse. (2pts)
3. Les joueurs sont très engagés, courent à toute vitesse. Remplace les joueurs par le maître et
récris correctement la phrase. (2pts)
4. Selon toi quel est le score final du match ? (2pts)

N.B. une faute enlève 0,5pt

CALCUL MENTAL

1. Ta maman dispose 45 cuillères sur la table à manger. Ton petit frère fait tomber 2. Combien
de cuillères reste-t-il sur la table ?
2. Pour son anniversaire, Koffi donne 25 bonbons à chacun de ses 4 amis. Combien de
bonbons a-t-il donné en tout ?
3. Le maire veut installer 408 lampadaires dans sa ville. La moitié sera installée dans le
quartier le plus peuplé. Trouve le nombre de lampadaires à installer dans ce quartier ?
4. Une classe de CE1 compte 25 garçons et 19 filles. Quel est l'effectif total de cette classe ?
5. Papa achète 25 bics à 100F l'un. Combien a-t-il dépensé pour l'achat des bics ?

ÉDUCATION SOCIALE

1. Complète l'affirmation suivante pour prouver à ton maître que tu as maîtrisé les emblèmes
du Togo : Le titre de l'hymne nationale du Togo est 2pts
2. Nina a réussi pour la classe de CE2 et veut comprendre ce que signifie CE2. Aide Nina à
définir le sigle. 2pts
3. Arrivé le premier dans ta classe, tu trouves un Bic qui ne t'appartient pas. Que fais-tu ? 2pts
4. A un carrefour, toutes les voitures se sont arrêtées au feu rouge allumé mais l'ambulance ne
s'est pas arrêtée. Ali présent sur les lieux soutient que l'ambulance n'a pas le droit de passer.
Dis si c'est vrai ou faux? Pourquoi ? 2pts
5. C'est la fin de l'année scolaire, démontre à ta maîtresse que tu maîtrises les découpages
administratifs suivants en classant du plus grand au plus petit:
village, commune, quartier, préfecture et canton. 2pts

JE PRODUIS UN TEXTE

1. Tu veux savoir si ta maman est revenue de son voyage. Pose la question à ta sœur en employant bien l'expression suivante « est-ce que » 2pts
 2. Démontre à ton grand frère du collège que tu sais bien employer « on et ont » en complétant les phrases suivantes : 2pts
 - Nina et Tété Joué au ballon.
 - Ce soir, est allé au marché.
 3. Ton camarade fait une phrase affirmative et te demande de la transformer en phrase négative. Transforme alors en phrase négative la phrase de ton camarade qui suit : « Ika aime l'avocat » 2pts
 4. Bientôt les vacances ! où comptes-tu les passer et chez qui ? Que penses-tu faire pendant cette période ? 2pts
-

EXERCICES ÉCRITS DE CALCUL

- 1) Aide ta sœur Marie à écrire : 2pts
 - a) En lettres : 2004
 - b) En chiffres : trois mille cinq cent trois
 - 2) Ton frère a mis en désordre les nombres suivants, range-les du plus grand au plus petit : 136 ; 989 ; 503 ; 998 ; 1502pts
 - 3) Ta sœur qui est au CM2 te demande de poser et d'effectuer les opérations suivantes : 2pts
 - a) $8020 - 4735$
 - b) $378 + 105$
 - 4) Komlan achète un livre à 625f. pour payer, il a donné trois pièces. 2pts
Complète les pièces :
1 Pièce de 500F 1 Pièce de et 1 pièce de
 - 5) Au cours d'une partie de jeu de quadrillage avec tes camarades Adjovi se positionne sur (5 ; 7), Yaovi sur (8 ; 2) et Ablavi sur (3 ; 2). Place les points correspondants à la position de tes camarades ; joins-les par une règle et nomme la figure obtenue. 2pts
-

JE SAIS RÉSOUDRE UN PROBLÈME

La mairie de ta commune a construit un bâtiment pour le jardin d'enfants sur un domaine de 400 m^2 de surface et de 10 m de largeur. Pour peindre le bâtiment, les parents d'élèves ont acheté le seau de peinture à 9500 F et payé 3500 F au peintre.

- 1- Combien les parents d'élèves ont-ils dépensé pour peindre le bâtiment ? 4pts

Les parents d'élèves te demandent de les aider à trouver le périmètre du domaine afin de le clôturer.

EXERCICES ECRITS DE CALCUL

1. Aide ton ami à :
 - a. écrire en chiffres : un million trois cent vingt-quatre mille (2pts)
 - b. ranger les fractions suivantes par ordre décroissant : $\frac{2}{17}$; $\frac{11}{17}$; $\frac{7}{17}$; $\frac{4}{17}$; $\frac{16}{17}$ (2pts)
2. Ali reçoit en composition du deuxième trimestre les notes suivantes : 8 ; 7 ; 2 ; 9 ; 7 ; 3. Il te demande de l'aider à trouver sa moyenne. Aide-le à calculer cette moyenne. (4pts)
3. Le jardin de ton oncle a une forme carrée de 200m de périmètre. Aide ton oncle à calculer :
 - a. le côté de ce jardin. (2pts)
 - b. l'aire de ce jardin. (2pts)
4. Prouve à ton maître que tu maîtrises l'addition des nombres décimaux. Pose et effectue : $760 + 0,48 + 27,248$ (4pts)
5. A l'aide de ta règle et de ton compas, construis un triangle ABC dont le côté $AB=AC=6\text{cm}$. Donne la nature de ce triangle. (4pts)

SCIENCES HUMAINES

1. Dans la liste suivante, relève les noms de deux souverains africains qui ont résisté contre l'occupation de leurs royaumes par les Européens : Christophe Colomb, Ménélik II ; Magellan, Béhanzin. (2pts)
2. Une invention du 15^e siècle a favorisé le développement de l'école en fournissant beaucoup de livres pour l'instruction.
 - a. De quelle invention s'agit-il ? (1/2pt)
 - b. Qui est l'auteur de cette invention ? (1/2pt)
3. Le Togo exploite aujourd'hui des ressources minières. Cites-en deux et dis la préfecture dans laquelle chacune est exploitée ? (1/2pt x 4)
4. Relie convenablement les événements historiques à leurs dates : (2pts)

Indépendance du Togo *	*20 septembre 1960
Signature du traité de protectorat *	*27 avril 1960
	*5 juillet 1884
5. Sur une carte du Togo au contour bien défini : (3pts)
 - trace le fleuve Mono et place le barrage de Nangbéto
 - indique la direction des deux grands vents ;

Je produis un texte

Sujet : La pluie tant attendue est enfin tombée un vendredi soir. Le lendemain, tu accompagnes tes frères et sœurs dans un champ.

Dis ce que tu as fait, ce que tes frères et sœurs ont fait, ce que tu as vu et entendu au cours de cette journée.

ETUDE DE TEXTE

Les enfants ont le droit mais ils ont aussi des devoirs. Ils doivent aimer et respecter leurs parents et leurs enseignants. Ils doivent aussi participer aux travaux domestiques, apprendre leurs leçons pour réussir leurs études. Tous les enfants, garçons comme filles, sont égaux en droits et en devoirs. Donc, ce n'est pas la fille seule qui doit balayer, laver les assiettes, les verres, les fourchettes, puiser de l'eau et aider à la cuisine. Le garçon et la fille doivent faire les mêmes travaux. J'ai alors changé de comportement. Le lendemain matin déjà, j'ai commencé à accomplir moi aussi des tâches domestiques. Ma sœur est très contente et me dit : « Je te remercie, mon frère. »

Mon livre de Français CE1, P.235

QUESTIONSI- J' utilise des mots nouveaux (6pts)

1. Choisis la bonne réponse :

a. J'ai changé de comportement veut dire : (1pt)

- j'ai changé de domicile.

- j'ai changé d'attitude.

b. J'ai commencé à accomplir les travaux domestiques veut dire : (1pt)

- j'ai commencé à faire les travaux domestiques.

- j'ai commencé à négliger les travaux domestiques.

2. Relève dans le texte un synonyme de « tâches » (1pt)

3. Trouve un mot de la même famille que : « matin » et utilise ce mot dans une phrase. (1pt x2)

4. Donne deux homonymes de « verre » (½ pt x 2)

II- Je manipule les phrases (8pts)

1. Réécris de deux manières différentes la phrase suivante : « Le lendemain matin déjà, j'ai commencé à accomplir moi aussi des tâches domestiques. » (1pt x2)

2 a. Donne la structure de la phrase suivante : « Le garçon et la fille font les mêmes travaux » (3pts)

b. Remplace le GNS de cette phrase par le pronom personnel sujet qui convient puis réécris la phrase. (1pt)

3. « Je te remercie ». Ecris cette phrase à l'imparfait et au futur simple de l'indicatif. (1pt x 2)

III- Je comprends le texte (6pts)

1. Donne un titre au texte. (2pts)

2. Cite deux droits et deux devoirs des enfants. (2pts)

3. Selon le texte, qui doivent faire les tâches domestiques ? Pourquoi ? (1pt x 2)

EDUCATION SOCIALE

1. Parmi les comportements suivants, relève les bons. (1pt x 2)

- jeter les sachets et papiers dans la cour de l'école ;
- respecter ses maîtres ;
- apprendre ses leçons.

2. Comment appelle-t-on l'organe spécialisé de l'ONU qui s'occupe :

- de l'éducation dans le monde ; (1pt)
- de l'enfance. (1pt)

3. Ton petit frère a lu les sigles suivants dans ton cahier mais il ne les comprend pas.

Définis-lui ces sigles (1pt x 2)

-IEPP

-OMS ;

4. Mets une croix devant les personnalités suivantes selon qu'elles soient élues ou nommées. (1/2 x 4)

Personnalités	Elues	Nommées
Le préfet		
Le maire		
Le président de la République		
Le Premier Ministre		

5. En te promenant à vélo, tu te trouves proche d'une école.

Dessine ce panneau qui te confirme la présence d'une école.

SCIENCES ET TECHNOLOGIES

1. Au cours d'un jeu de football, ton camarade tombe et se casse le bras.

- a. Comment appelle-t-on cet accident des os ? (1pt)
- b. Quel secours peux-tu lui apporter avant de le conduire à l'hôpital ? (1pt)

2. Choisis les bonnes réponses. (2pts)

Pour protéger le sol contre l'érosion :

- a. je plante les gazons.
- b. je coupe les arbres.
- c. je plante les arbres.

3. Les balances sont souvent utilisées pour déterminer la masse des corps. Rappelle à ton frère deux qualités d'une bonne balance. (2pts)

4. L'émail d'une dent de ton petit frère est rongé. Il a de la peine à mâcher les aliments.

a. De quelle maladie souffre-t-il ? (1pt)

b. Fais le schéma annoté de la coupe d'une dent saine. 3pts

DRE MARITIME

EXAMENS DE PASSAGE CM1 au CM2

2022-2023

Je sais écrire les mots : Le village à midi

Le village était vide à midi. Un soleil implacable brillait très haut dans le ciel. Les animaux domestiques s'étaient réfugiés tous sous les cases.

Une chèvre debout sur ses pattes de derrière faisait de vains efforts pour atteindre et broter les feuilles les plus proches d'un arbre de la place.

La grande rue qui divisait le village en deux était déserte.

QUESTIONS :

1. Choisis la bonne réponse. « Les animaux se sont réfugiés sous les cases » veut dire (2pts)
 - les animaux brotent les herbes.
 - les animaux se sont cachés.
2. a) Trouve le contraire de « rue déserte » (1pt)
b) Comment appelle-t-on les habitants d'un village ? (1pt)
3. « La grande rue qui divisait le village en deux était déserte ». Ecris cette phrase en mettant les verbes au présent de l'indicatif. (2pts)
4. Réécris la première phrase du texte de deux autres manières avec les mêmes mots. (2pts)
5. Pourquoi les animaux se sont-ils réfugiés tous sous les cases ?

DRE MARITIME

EXAMENS DE PASSAGE CM1 au CM2

2022-2023

CALCUL MENTAL

1. Une école compte 149 garçons et 105 filles. Quel est l'effectif total de cette école ?
2. Combien vais-je payer pour 11 gommes à 45F l'une ?
3. Ama quitte la maison à 6h 45min et arrive à 7h 00. Quelle est la durée de son trajet ?
4. Pour payer une facture de 4750F, Papa remet un billet de 5000F. Combien doit-on lui rendre ?
5. Calcule l'aire d'un jardin rectangulaire de 65m de large et 100m de long.

DRE MARITIME

EXAMENS DE PASSAGE CM1 au CM2

2022-2023

PROBLEME

Un éleveur achète 7 moutons à 25000F l'un. Il les garde pendant un an et durant ce temps, 2 moutons sont morts. Il revend le reste à 48000F l'un.

1. Calcule le prix d'achat des moutons. (3pts)
2. Calcule le nombre des moutons vendus. (2pts)
3. Quel est le prix de vente total des moutons ? (3pts)
4. L'éleveur a-t-il gagné ou perdu ? Combien ? (1pt x 2)

DRE MARITIME

EXAMENS DE PASSAGE CM1 au CM2

2022-2023

EDUCATION ARTISTIQUE

Papa est parti au champ avec un panier. Il a cueilli des mangues et rempli le panier. Dessine le panier rempli de mangues.

Le JOUF DE L'ARTISTE. Les élèves sont au cœur de toutes les activités artistiques.