

DRE MARITIME

EXAMENS DE PASSAGE DU CP2 AU CE1

ANNEE SCOLAIRE 2024-2025

J'APPRENDS A LIRE

Lors d'un concours de lecture, on te présente le texte suivant :

NB : Recopier les textes de lecture au tableau ou sur papier kraft.

**TEXTE** : Fais attention ! En ville, on a beaucoup de voitures et de motos. La circulation est dense. Ce n'est pas comme au village. Tu dois regarder à gauche et à droite.

**Consigne** : Fais une lecture à haute voix et réponds aux questions suivantes :

- 1- Le texte parle de la ville. Vrai ou faux ? 1pt
- 2- Comment est la circulation en ville ? 1pt
- 3- Que dois-tu faire avant de traverser la route ? 1pt

Critères de notation :

Grille de correction

Consignes	Critère		
	Pertinence de la production	Cohérence de la production	Correction de la langue
Lire	L'élève a lu une phrase sans buter sur les mots 1pt	L'élève a lu distinctement le tiers des mots 1pt	L'élève a le point si : -La ponctualité est correcte ; 1/2pts -La prononciation est respectée. 1/2pts
	L'élève a lu deux phrases sans buter sur les mots 1pt	L'élève a lu distinctement les deux tiers des mots 1pt	
	L'élève a lu trois phrases sans buter sur les mots 1pt	L'élève a lu distinctement la totalité des mots 1pt	
Compréhension	-Bonne réponse à la question N°1 (1pt) -Bonne réponse à la question N°2 (1pt) -Bonne réponse à la question N°3 (1pt)		
Total	6pts	3pts	1pt

DRE MARITIME

EXAMENS DE PASSAGE DU CP2 AU CE1

ANNEE SCOLAIRE 2024-2025

J'APPRENDS A PARLER

« Un étranger te rencontre en chemin et veut connaître l'école que tu fréquentes ».

Consigne :

- a) Présente-lui ton école (en donnant son nom, le nom du directeur, les noms de ton maître et celui du titulaire de CE2 puis le nombre de classes)
- b) Dis-lui le chemin à suivre pour y arriver et situe-lui ta classe.

Critères de notation

- Pertinence : l'élève présente l'école et indique le chemin à suivre. 3pts
  - Cohérence : présentation de l'école et description conforme à la situation. 3pts
  - Correction de la langue : prononciation et la syntaxe correctes. 2pts
  - Autonomie : l'élève formule les phrases sans l'aide du maître. 2pts
- 

DRE MARITIME

EXAMENS DE PASSAGE DU CP2 AU CE1

ANNEE SCOLAIRE 2024-2025

JE SAIS DIRE

L'élève récite au choix un texte de récitation étudié en classe.

Critère de notation :

- Maîtrise du texte (4pts)
  - Expressivité orale (4pts)
  - Expressivité gestuelle (2pts)
- 

DRE MARITIME

EXAMENS DE PASSAGE DU CP2 AU CE1

ANNEE SCOLAIRE 2024-2025

EDUCATION MUSICALE

L'élève exécute au choix un chant du répertoire enseigné de la classe

Critère de notation :

- Maîtrise du texte (4pts)
- Expressivité orale (4pts)
- Expressivité gestuelle (2pts)

## DRE MARITIME

### EXAMENS DE PASSAGE DU CP2 AU CE1

#### EPREUVE D'ANGLAIS (ENGLISH TEST)

1. Ask the students to sing Hello song
2. Answer the following questions to your teacher
  - What is your name?
  - How old are you ?
  - What is today's date?
3. Choose from the following list, fruits and vegetables : Apple, cassava, cabbage, yam, pizza, banana, school bag
4. Human body: Ask the student to show : head, shoulder, eyes, mouth, foot.

#### BONUS

What is your school's name?

DRE MARITIME

EXAMENS DE PASSAGE DU CE1 AU CE2

ANNEE SCOLAIRE 2024-2025

EPREUVE ORALE

JE SAIS DIRE

CONSIGNE

Tu as appris en classe des textes à dire. Récite à ton camarade un qui te plaît.

CRITERE D'EVALUATION :

- Maitrise du texte : (4 pts)
  - L'expressivité orale : (3 pts)
  - L'expressivité gestuelle : (3 pts)
- .....

DRE MARITIME

EXAMENS DE PASSAGE DU CE1 AU CE2

ANNEE SCOLAIRE 2024-2025

EPREUVE ORALE

EDUCATION MUSICALE

CONSIGNE

Tu connais un chant qui t'intéresse beaucoup. Exécute-le.

CRITERE D'EVALUATION :

- Maitrise du texte : (4 pts)
  - L'expressivité orale : (3 pts)
  - L'expressivité gestuelle : (3 pts)
-

DRE MARITIME

EXAMENS DE PASSAGE DU CE1 AU CE2

ANNEE SCOLAIRE 2024-2025

EPREUVE ORALE

JE SAIS LIRE

CONSIGNES :

Ton petit frère au CP2 n'arrive pas à bien lire ce texte. Il te demande de l'aider. Aide-le en lisant correctement le texte.

TEXTE : L'importance de l'arbre

L'arbre donne de l'ombre, des fruits et du bois. Les arbres, tout comme les animaux, l'eau et l'air sont indispensables à la vie de l'homme. Protégeons notre environnement en plantant des arbres.

COMPREHENSION

- 1- Réponds par vrai ou faux
  - a- L'arbre donne des maladies.
  - b- L'arbre donne des fruits.
- 2- Que dois-tu faire pour protéger ton environnement ?

CRITERE DE NOTATION

- Lecture courante : (8 pts)
- Compréhension du texte : (2 pts)

NOM ET PRENOMS DE L'ELEVE.....

CLASSE .....

EXERCICES ECRITS DE MATHÉMATIQUES

1- Voici les objets de formes différentes. Entoure ensemble les objets de forme ronde. 2 pts




2- Montre à tes camarades que tu maîtrises l'utilisation des signes suivants : < ; = ; > en remplaçant les points par le signe qui convient.

8 • 5 ;

4 • 7 ;


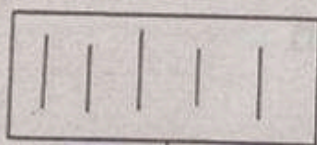
6 • 6 2 pts

3- Voici trois bâtonnets de différentes tailles.



Mets une croix sur le bâtonnet le plus long. 2pts

4- Observe attentivement les collections d'objets ci-dessous et écris dans chaque case le nombre qui convient 2pts



5- Voici une liste de nombres : 3 - 0 - 5 - 2 - 7. Ta grande sœur te demande de les ranger du plus grand au plus petit. Range-les correctement. 2pts

**DRE MARITIME**

**EXAMENS DE PASSAGE DU CPI AU CP2**

**ANNEE SCOLAIRE 2024-2025**

**JE SAIS ECRIRE LES MOTS** (Dictée)

Dans ta classe, le maître veut savoir si tu sais bien écrire les mots. Ecris correctement les mots suivants pour le lui prouver :

**me, ta, bo, lu, une banane. doudou à un vélo.**

**Critères de notation**

- ✓ La production est notée sur 10
  - ✓ Un mot mal écrit enlève 1pt
- 

**DRE MARITIME**

**EXAMENS DE PASSAGE DU CPI AU CP2**

**ANNEE SCOLAIRE 2024-2025**

**CALCUL MENTAL**

- 1- Le maître montre 6 gros bâtonnets puis dit : écris le nombre de bâtonnets que tu vois. **2 pts.**
  - 2- Quel est le nombre qui vient juste avant 5 ? **2pts**
  - 3- Ali a 6 billes dans sa poche. En jouant, il a perdu 3 billes. Combien de billes lui reste-t-il ? **2pts**
  - 4- Une main compte 5 doigts. Combien de doigts comptent deux mains ? **2pts**
  - 5- Ina a 6 mangues. Maman lui donne encore 2 mangues. Combien de mangues a-t-elle en tout ? **2pts.**
- 

**DRE MARITIME**

**EXAMENS DE PASSAGE DU CPI AU CP2**

**ANNEE SCOLAIRE 2024-2025**

**PROBLEME**

Anani a	5 mangues
Napo lui ajoute encore	• <u>2 mangues</u>
Anani a en tout	• mangues

**Critères de notation**

- ✓ Bonne disposition : 5pts
- ✓ Signe correct : 2pts
- ✓ Bonne réponse : 3pts

DRE MARITIME

EXAMENS DE PASSAGE DU CP1 AU CP2

ANNEE SCOLAIRE 2024-2025

EDUCATION ARTISTIQUE (Dessin)

Maman revient du champ avec une grosse mangue mûre. Dessine-la.

**Critère de notation**

- ✓ Forme : 5pts
  - ✓ Utilisation des couleurs : 3 à 4 pts
- 

DRE MARITIME

EXAMENS DE PASSAGE DU CP1 AU CP2

ANNEE SCOLAIRE 2024-2025

JE SAIS ECRIRE (Copie)

Recopie correctement ce texte pour montrer à ton père que tu sais écrire sans faute :

**ika joue au ballon avec douiti dans la cour de l'école.**

**Critères de notation**

- ✓ La production est notée sur 10
- ✓ Un mot mal écrit enlève un point

DRE MARITIME

EXAMENS DE PASSAGE DU CP2 AU CE1

ANNEE SCOLAIRE 2024-2025

JE SAIS ÉCRIRE (Copie)

un jour de fête

c'est un jour de fête au village. les villageois ont tué un gros taureau. ils se servent de couteaux pour découper l'animal en morceaux.

NB : copier le texte en cursive sur une portée au tableau.

Critères de notation :

Respect du corps des lettres : 5pts

Ecriture sur la ligne et sans fautes : 5pts

DRE MARITIME

EXAMENS DE PASSAGE DU CP2 AU CE1


ANNEE SCOLAIRE 2024-2025

ÉDUCATION ARTISTIQUE (Dessin)

dessine un joli sac que tu désires avoir à la rentrée scolaire prochaine.

Nom et Prénoms de l'élève : ..... 44/A .....

EXERCICES ÉCRITS DE MATHÉMATIQUES

1. tu veux prouver à ton maître que tu sais écrire les nombres.
- a) Écris en lettres :  $80 =$  ..... (1pt)
- b) Écris en chiffres : quatre-vingt-dix-neuf ..... (1pt)
2. en classe avec ton maître, tu as appris à comparer des nombres. compare les nombres suivants en utilisant le signe qui convient :  $<$  ;  $=$  ;  $>$
- a)  $67 \bullet 55$  (1pt)
- b)  $25 + 3 \bullet 30$  (1pt)
3. aujourd'hui, le poussin de Ama a 29 jours. Complète en reliant par une flèche le nombre de jours aux temps correspondants. (2pts)
- 29 jours  $\bullet$    $\bullet$  hier  
 30 jours  $\bullet$   $\bullet$  aujourd'hui  
 28 jours  $\bullet$   $\bullet$  demain
4. observe le tableau ci-dessous.

	1	2	3	4	5	6
a						
b						
c						
d						

dessine un ballon dans la case ( 2 ; c ) et un bâtonnet dans la case ( 5 ; a ) (2pts)

5. pose et effectue les additions suivantes :

a)  $31 + 25$  (1pt)

b)  $18 + 26$  (1pt)

DRE MARITIME

EXAMENS DE PASSAGE DU CP2 AU CE1

ANNEE SCOLAIRE 2024-2025

JE SAIS ÉCRIRE LES MOTS (Dictée)

Ton maître veut savoir si tu sais bien écrire les mots. Il te demande d'écrire ce texte. Ecoute bien et écris correctement les mots.

la table du maître est dans un coin de la classe. un joli livre se trouve sur cette table.

Critère de notation : un mot mal écrit enlève 0,5 pt.

.....

DRE MARITIME

EXAMENS DE PASSAGE DU CP2 AU CE1

ANNEE SCOLAIRE 2024-2025

CALCUL MENTAL

1. Fati compte ses billes une à une. Elle arrive à 39. Quel nombre va-t-elle compter après 39. Écris ce nombre.
  2. Dans une classe il y a 15 garçons et 10 filles. Combien y a-t-il d'élèves en tout dans cette classe ?
  3. Abidé a 6 ans. Sa grande sœur en a le double. Quel âge a sa grande sœur ?
  4. René a 26 bâtonnets. Combien de bâtonnets lui manque-t-il pour avoir 29 ?
  5. Écris le grand nombre entre 75 et 20.
- .....

DRE MARITIME

EXAMENS DE PASSAGE DU CP2 AU CE1

ANNEE SCOLAIRE 2024-2025

PROBLÈME

ta maman vend des volailles au marché. elle a vendu 23 poules et 25 coqs. Elle veut connaître le nombre total de volailles vendu. Calcule ce nombre.

solutions

résultats

--

opérations

Critères de notation : Opération bien posée : 5pts ; Signe : 2pts ; Réponse juste : 3pts



DRE MARITIME

EXAMENS DE PASSAGE DU CE1 AU CE2

ANNEE SCOLAIRE 2024-2025

JE PRODUIS UN TEXTE

- 1) Voici une phrase avec des mots collés. Démontre à ton ami que tu peux les séparer pour avoir une phrase correcte : **Inaetsonfrèrerangentlesmarchandises.** 2pts
- 2) Le maître te remet ce texte : « Naka est malade. Sa mère l'amène à l'hôpital. Le médecin AFFO lui prescrit des médicaments ». Relève un nom propre et un nom commun dans ce texte. 2pts
- 3) Après la leçon sur la phrase interrogative, ton maître te demande de réécrire la phrase suivante à la forme interrogative : **Abidé a un joli cartable.** 2pts
- 4) Voici des mots et groupes de mots : ordonne-les, pour avoir une phrase correcte : « ses camarades – Abidé – son anniversaire – invite – à. » 2pts
- 5) Remplace les points par les mots suivants : devant – pendant
  - a) ..... la récréation, les élèves jouent dans la cour de l'école. 1pt
  - b) Le tableau se trouve ..... les élèves. 1pt

DRE MARITIME

EXAMENS DE PASSAGE DU CE1 AU CE2

ANNEE SCOLAIRE 2024-2025

EXERCICES ECRITS DE MATHEMATIQUES

1)- Ta sœur de CM2 t'aide à faire ton devoir de maison en mathématiques et te demande d'écrire correctement en lettres et en chiffres :

- a) 168 = ..... 1pt
- b) cent quinze = ..... 1pt

2)- a)- Le boucher a reçu une commande de 100 kg de viande de bœuf. Il a livré 60 kg et te demande de l'aider à calculer la masse de viande restante à livrer. Observe et complète la quantité de masse manquante :

$$\begin{array}{r}
 60 \text{ kg} \\
 + \dots \text{ kg} \\
 \hline
 100 \text{ kg}
 \end{array}$$

1pts

b) - Pose et effectue cette opération pour prouver à ton maître que tu maîtrises ta table de multiplication:  $74 \times 2 = \dots$  1 pts

3)- Ton école reçoit ce jour des documents. Le CE1 reçoit 47 livres de lecture et 33 livres de mathématiques. Le directeur te demande de lui calculer la somme totale de livres reçus au CE1. 2 pts

4)-Ton frère te donne cet exercice d'entraînement de comptage ci-dessous pour t'aider à réussir au concours du meilleur mathématicien organisé par l'inspection : complète ce tableau. 2pts

Avant le nombre	Le nombre	Après le nombre
99	-	-
-	-	78

5)- Montre à ton oncle le géomètre que tu maîtrises les leçons de géométrie. Construis un rectangle qui mesure 5 carreaux de long et 3 carreaux de large. 2pts

DRE MARITIME

EXAMENS DE PASSAGE DU CE1 AU CE2

ANNEE SCOLAIRE 2024-2025

JE SAIS ECRIRE LES MOTS

Ali est un enfant poli. A la maison, il aide sa mère à faire la cuisine. A l'école, il apprend bien ses leçons. Son maître est content de lui.

Questions

1/ Recopie la bonne réponse selon le texte. (2pts)

- a) Ali est un enfant impoli
- b) Ali aide sa mère à la maison
- c) Son maître est mécontent de lui

2/ Combien de phrases compte le texte ? (2pts)

3/ « Ali apprend ses leçons ». Ecris le GNS et le GV. (2pts)

4/ Mets cette phrase à la forme interrogative : « Ali est un enfant poli. » (2pts)

5/ Dis ce que Ali fait de bon. (2pts)

.....

DRE MARITIME

EXAMENS DE PASSAGE DU CE1 AU CE2

ANNEE SCOLAIRE 2024-2025

CALCUL MENTAL

1/ Dans une classe de CE1, il y a 20 garçons et 20 filles. Combien y a-t-il d'élèves dans cette classe ? (2pts)

2/ Combien de pièces de 100F faut-il rassembler pour avoir 1000F ? (2pts)

3/ Ali a 15 ans. Son frère en a le double. Quel est l'âge de son frère ? (2pts)

4/ Pour se rendre à l'école, Jean quitte la maison à 7h 00min. Il marche pendant 20 minutes. A quelle heure Jean arrive-t-il à l'école ? (2pts)

5/ Naka a 50 billes. En jouant, elle en perd 20. Combien a-t-elle de billes maintenant ? (2pts)

.....

DRE MARITIME

EXAMENS DE PASSAGE DU CE1 AU CE2

ANNEE SCOLAIRE 2024-2025

Education artistique

Tu aimes certains fruits. Dessine un de ton choix pour ton ami et précise le nom du fruit dessiné.

- Dessin 6pts
- Propreté : 1pt
- Nom du fruit 3pts

DRE MARITIME

EXAMENS DE PASSAGE DU CE1 AU CE2

ANNEE SCOLAIRE 2024-2025

Problème

Tu aides souvent un commerçant de ton quartier. Il a vendu successivement 13 m, 5 m et 19 m de tissu. En fin de journée, il te demande de lui calculer : la longueur totale de tissu vendue. (4pts)  
Si le rouleau de tissu mesure en tout 65 m, quelle longueur de tissu lui reste-t-il à vendre ? (4pts)

NB : - signe approprié 2pts

---

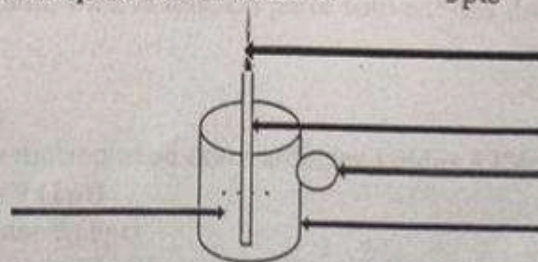
DRE MARITIME

EXAMENS DE PASSAGE DU CE1 AU CE2

ANNEE SCOLAIRE 2024-2025

Sciences et technologies

- 1)- Tes camarades ont oublié les moyens d'éclairage. Cites-en deux pour eux. 2pts
- 2)- Après la leçon sur les maladies parasitaires, ton maître veut savoir si tu as bien compris et te demande de compléter cette phrase : Le ..... et la ..... sont des maladies parasitaires. 2pts
- 3)- Ton ami ne soigne pas ses dents.
  - a) Quelle maladie risque-t-il d'avoir ? 1pt
  - b) Donne-lui un conseil pour corriger ce mauvais comportement 1pt
- 4)- Ton petit frère Paul joue au ballon et se casse la jambe. Il a la ..... Je vais lui placer les ..... et le conduire à l'hôpital le plus proche. 1pt
- 5)- Complète le schéma ci-dessous après l'avoir dessiné. 3pts



Un .....

## DRE MARITIME

### EXAMENS DE PASSAGE DU CE2 AU CM1

ANNEE SCOLAIRE 2024-2025

#### JE SAIS ECRIRE LES MOTS

Consigne : Ecris chaque mot sans faute puis réponds correctement aux questions.

#### Dictée :

Dans notre jardin, maman plante des patates, du manioc, des oignons. Nous élevons aussi des poules. Chaque semaine, maman se rend au marché... Elle nous achète de la craie, des gommes et des habits. Nous sommes très contents de notre maman.

#### Questions :

- 1- Que veut dire : maman se rend au marché ?
- 2- Pourquoi les enfants sont contents de leur maman ?
- 3- Maman plante des patates. Donne la structure de cette phrase.
- 4- Nous élevons des poules. Mets cette phrase à la forme négative.
- 5- Nous sommes contents. Remplace « nous » par « tu », puis par « les élèves » et réécris la phrase.

---

## DRE MARITIME

### EXAMENS DE PASSAGE DU CE2 AU CM1

ANNEE SCOLAIRE 2024-2025

#### CALCUL MENTAL

- 1) Dans une classe, on compte 40 élèves. Le lundi, 34 élèves sont présents. Ecris le nombre des absents.
- 2) Amina a une boutique de forme carrée qui mesure 25 m de côté. Quel est le périmètre de sa boutique ?
- 3) Afi quitte la maison à 6h 30min et arrive à l'école à 7h 00. Quelle est la durée de son parcours ?
- 4) Pendant que tu aides ta maman dans la boutique, un client vient faire un achat de 1500 F. Il paie avec un billet de 2000 F. Combien lui rends-tu comme reliquat (monnaie) ?
- 5) Dans un jeu de mathématiques sur les nombres, donne le nombre qui vient juste avant 1000.

---

## DRE MARITIME

### EXAMENS DE PASSAGE DU CE2 AU CM1

ANNEE SCOLAIRE 2024-2025

#### EDUCATION SOCIALE

- 1- A la maison, à l'école, à la radio ou à la télé, on parle souvent des droits et devoirs de l'enfant. En tant qu'enfant, donne-nous :
  - a) Un de tes droits
  - b) Un de tes devoirs. (2pts)
- 2- Ton petit frère de CPI revient à la maison avec deux ardoises volées à l'école.
  - a) Est-ce un bon comportement ? (1pt)
  - b) Quel conseil peux-tu lui donner ? (1pt)
- 3- Complète les trous par les mots justes. (4pts)

La mairie est dirigée par .....

Mon école se trouve dans la commune de .....

Le directeur / La directrice de mon école s'appelle monsieur/madame.....

Le..... dirige une préfecture.
- 4- Complète la phrase pour montrer à ton camarade que tu maîtrises tes cours de prévention routière. Lorsque le feu rouge s'allume, les véhicules..... et les piétons ..... la chaussée.
- 5- Quelles sont les couleurs qui composent le drapeau de notre pays le Togo ? (2pts)

DRE MARITIME

EXAMENS DE PASSAGE DU CE2 AU CM1

ANNEE SCOLAIRE 2024-2025

SCIENCES HUMAINES (HISTOIRE-GEOGRAPHIE)

- 1- Voici deux affirmations. Ton maître te demande de relever celle qui est juste. **1,5pt**
- a) Le soleil tourne autour de la terre.
  - b) La terre tourne autour du soleil.
- 2- Ton petit frère te demande de l'aider à compléter les phrases suivantes. Aide-le.
- a) .....divise la terre en deux parties égales. **1,5pt**
  - b) Le Togo est indépendant le .....**1,5pt**
- 3- Après la leçon sur l'imprimerie, ton maître te donne le devoir suivant. Traite-le :
- a) Qui a inventé l'imprimerie ? **1pt**
  - b) En quelle année ? **1pt**
- 4- Ecris le nom de la capitale du Togo. **1,5pt**
- 5- Relie chaque peuple à son roi. **2pts**
- |               |   |                  |
|---------------|---|------------------|
| Les Tchokossè | • | ATAKPA           |
| Les Ana       | • | AGOKOLI          |
| Les Ewé       | • | NA BIEMA Bonsafo |
| Les Guin      | • | FOLLY Bébé       |

DRE MARITIME

EXAMENS DE PASSAGE DU CE2 AU CM1

ANNEE SCOLAIRE 2024-2025

ARTS PLASTIQUES

Après avoir pilé du fougou, maman a laissé le pilon dans le mortier. Dessine ce pilon dans le mortier.

Critères :

- Le pilon dans le mortier **5pts**
- Coloriage **2pts**
- Propreté. **2pts**
- Encadrement **2pts**

DRE MARITIME

EXAMENS DE PASSAGE DU CE2 AU CMI

ANNEE SCOLAIRE 2024-2025

PROBLEME

Le père de Koffi a un terrain rectangulaire qui mesure 40 m de long sur 35 m de large. Il te demande de lui calculer :

1- Le demi-périmètre du terrain. 4pts

2- Le périmètre de ce terrain. 4pts

Il veut clôturer (le périmètre de) ce terrain avec du grillage valant 1000 F le mètre.

3- Calcule la somme qu'il va dépenser pour l'achat du grillage. 2pts

---

DRE MARITIME

EXAMENS DE PASSAGE DU CE2 AU CMI

ANNEE SCOLAIRE 2024-2025

SCIENCES ET TECHNOLOGIE

1) Après la tornade l'eau de boisson est devenue sale. Maman demande ton aide pour rendre cette eau potable. Donne-lui deux moyens que ton maître t'a appris. (2pts)

2) Ika soutient que "C'est le moustique qui donne le paludisme" ; mais pour Napo "C'est plutôt le soleil qui donne le paludisme". En qualité d'un bon élève de CE2 choisis et recopie la bonne phrase. (1pt)

3) L'ampoule électrique n'est pas le seul moyen d'éclairage. Ecris les noms de deux autres moyens d'éclairage que tu peux utiliser en l'absence d'électricité. (2pts)

4) Pendant les fêtes de fin d'année, on tue beaucoup de bêtes. Donne deux moyens qui permettent de conserver les viandes pour les utiliser après les fêtes. (2pts)

5) La poule de maman pond des œufs. Cela te rappelle la leçon sur les œufs de la poule. Reproduis la coupe d'un œuf puis marque les différentes parties. (3pts)

JE PRODUIS UN TEXTE

1. Au cours d'une discussion, ta petite sœur fait les phrases suivantes :  
Je vais à l'école. Je me lave. Je prends mon petit déjeuner. Le matin, je me réveille tôt.  
Range ces phrases dans un ordre pour avoir un texte cohérent. (2pts)

2. Ton petit frère a des difficultés à utiliser correctement les expressions :  
à côté de ... ; au-dessus de...

Aide-le à compléter les phrases suivantes : (2pts)

- a) Les oiseaux volent ..... nos têtes.  
b) Ma maison est ..... l'école.

3. Transforme la phrase suivante à la forme négative Les élèves mangent en classe. (2pts)

4. Voici des modèles de phrases :

- Je t'offre un sac, prends-le.
- Maman te donne une robe, prends-la.

Je complète sur le même modèle les phrases suivantes : (2pts)

- Ton maître te donne un bic, .....
- Papa t'offre une ardoise, .....

5- Ton ami te demande de lui dire en trois phrases ce que tu fais chaque samedi matin. (2pts)

EXERCICES ECRITS DE MATHEMATIQUES

1- Montre à ton frère du collège que tu sais écrire les nombres. Ecris :

- a. En lettres : 1157 = ..... 1pt  
b. En chiffres : trois mille un = ..... 1pt

2- Tu as appris en classe à effectuer des opérations. Montre à ta sœur que tu peux le faire seul.

Pose et effectue :

- a.  $1468 - 679$  1pt  
b.  $105 \times 3$  1pt

3- Tu as accompagné ta mère au marché. Elle a acheté des perles pour 1325F, des Calebasses pour 475F et des ananas pour 2050f. Trouve le montant de la somme dépensée par ta mère. 2pts

4- Je complète les égalités : 2pts

- a)  $1\text{kg } 500\text{g} = 500\text{g} + 500\text{g} + \bullet \text{ g}$   
b) 1 litre =  $\bullet$  quarts de litre.

5- Ton père veut savoir si tu maîtrises les figures géométriques. Dessine un triangle rectangle pour le convaincre  
2pts

ETUDE DE TEXTE : Une femme laborieuse

Ma grand-mère est une femme laborieuse. Elle déteste la paresse. Sa grande plantation nourrit toute la famille. Grand-mère est toujours occupée par les travaux. Ses cheveux ont blanchi au fil des années. Les rhumatismes dans ses genoux ne l'empêchent pas de travailler. Elle nous a donné un coin de terre à côté de sa plantation. Là, nous apprenons les travaux des champs. Cela fait plaisir à grand-mère et elle nous encourage en nous donnant de temps en temps des cadeaux.

QUESTIONSI- J'UTILISE DES MOTS NOUVEAUX (7pts)

- 1) « **Ma grand-mère est une femme laborieuse** » veut dire :
  - Ma grand-mère est une femme paresseuse.
  - Ma grand-mère travaille beaucoup. Choisis la bonne réponse. (1pt)
- 2) a) Que veut dire : « **Elle déteste la paresse** » ? (1pt)  
b) « **Elle nous encourage.** » Réécris cette phrase en remplaçant « **encourage** » par son contraire. (1pt)
- 3) Trouve un homonyme de « **champ** » et fais une phrase avec le mot trouvé. (2pts)
- 4) Donne deux mots de même famille que « **terre** ». (2pts)

II- JE MANIPULE LES PHRASES (8pts)

- 1) « **Elle nous encourage en nous donnant de temps en temps des cadeaux.** »  
Réécris cette phrase d'une autre manière en gardant les mêmes mots. (1pt)
- 2) « **Sa grande plantation nourrit toute la famille.** »  
Donne la structure de cette phrase. (2pts)
- 3) Mets la phrase suivante à la forme négative :  
« **Grand-mère est toujours occupée par les travaux.** (2pts)
- 4) Reprends les phrases ci-après en mettant les verbes conjugués à l'imparfait de l'indicatif : (3pts)
  - Ma grand-mère est une femme laborieuse.
  - Les rhumatismes dans ses genoux ne l'empêchent pas de travailler.
  - Nous apprenons les travaux des champs.

III- JE COMPRENDS LE TEXTE (5pts)

- 1) Ma grand-mère n'aime pas travailler. Vrai ou faux ? (1pt)
- 2) Comment sont les cheveux de grand-mère ? (2pts)
- 3) Que fait grand-mère quand nous travaillons au champ ? (2pts)

EXERCICES ECRITS DE MATHEMATIQUES

- Aide ton ami à :
  - a.) écrire en chiffres : un million six cent vingt-quatre mille (2pts)
  - b.) ranger les nombres suivants du plus grand au plus petit : 47,07 - 57,35 - 37,45 - 75,04 - 37,75 - 47,53 (2pts)
- Prouve à ton père que tu maîtrises les opérations d'addition. Pose et effectue :  $850 + 0,47 + 26,358$  (4pts)
- Ali reçoit en composition du deuxième trimestre les notes suivantes : 8 ; 7 ; 2 ; 9 ; 7 ; 3. Il te demande de l'aider à trouver sa moyenne. Aide-le à calculer cette moyenne. (4pts)
- Papa a un jardin rectangulaire dont la longueur est 54 m et la largeur 27 m. Il veut l'entourer avec un grillage en laissant une ouverture de 3 mètres. Aide papa à calculer :
  - a.) le périmètre du jardin ; (2pts)
  - b.) la longueur de grillage à utiliser. (2pts)
- Ta mère a acheté 25 poulets dans une ferme avicole au prix total de 72500 F tous frais compris. Elle les revend à 3500 F l'un aux restaurateurs de la ville. Aide ta mère à calculer :
  - le prix de vente total des poulets (2pts)
  - le bénéfice réalisé. (2pts)

JE PRODUIS UN TEXTE

entôt les grandes vacances. Où désires-tu les passer ? Dis en quelques lignes ce que tu penses faire pendant ces vacances.

EDUCATION ARTISTIQUE

Ta mère veut savoir si tu sais bien dessiner. Pour cela, elle te demande de lui dessiner un animal domestique que tu aimes bien. Dessine l'animal domestique et écris son nom.

IE SAIS ECRIRE LES MOTS (Dictée)

Pour le repas de midi, maman prépare une sauce de poisson aux légumes et du bon fufou. Déjà, une odeur appétissante se dégage de la cuisine. Le repas n'est pas encore prêt mais les enfants salivent. Ils mettent la table et n'oublient pas le vin de palme que tante Ama a apporté ce matin à papa.

Maintenant le repas est prêt. Tout le monde se lave les mains à l'eau et au savon et se met à table.

**N.B.** Une faute enlève ½ point

Questions

- 1) Propose un titre à la dictée (2pts)
- 2) « Le repas de midi » s'appelle : - le petit déjeuner - le déjeuner - le dîner  
Choisis la bonne réponse. (2pts)
- 3) « Le repas n'est pas encore prêt » Ecris cette phrase à la forme affirmative. (2pts)
- 4) « Maman prépare une sauce de poisson. » Réécris cette phrase en remplaçant le GN(COD) par le pronom personnel qui convient. (2pts)
- 5) « Ils mettent la table et n'oublient pas le vin de palme » Réécris cette phrase à l'imparfait et au passé composé de l'indicatif. (2pts)

DRE MARITIMECALCUL MENTAL

- 1) Ta mère te donne un billet de 1000 F pour lui acheter un savon qui coûte 625F. Combien lui rend-on ?
- 2) Trouve le périmètre d'un jardin carré de 30m de côté.
- 3) Fati fait des pas de 0,5m. Quelle distance parcourt-elle si elle fait 30 pas ?
- 4) Combien de pièces de 100F y a-t-il dans un billet de 1000F ?
- 5) Ali achète 11 crayons à papier à 45F l'un. Combien paie-t-il ?

EDUCATION SOCIALE

- 1) Parmi les personnalités suivantes, cite celles qui détiennent le pouvoir législatif : le Maire, le Député, le Préfet, le Ministre. (2pts)
- 2) Dans ton école, on voit des papiers et des sachets plastiques qui traînent dans la cour.  
Propose une mesure pour maintenir la cour propre. (2pts)
- 3) L'un des emblèmes de la nation togolaise est le drapeau. Cite les couleurs qui composent ce drapeau. (2pts)
- 4) Chaque enfant a des droits mais aussi des devoirs envers ses parents. Cite :  
a- un droit de l'enfant ; (1pt)  
b- un devoir de l'enfant envers ses parents. (1pt)
- 5) Ton jeune frère ne connaît pas le panneau de sens interdit. Dessine-lui ce panneau. (2pts)

**SCIENCES HUMAINES**

- 1- Une invention du 15ème siècle a permis le développement de l'école.  
a) De quelle invention s'agit-il ? (1pt)  
b) Qui est son auteur ? (1pt)
- 2- Un commerce a fait perdre à l'Afrique plusieurs millions de personnes  
a) Comment s'appelle ce commerce ? (1pt)  
b) Quels sont les continents impliqués dans ce commerce ? (1pt)
- 3- Voici une liste de personnalités dont les noms sont liés à l'histoire. Kaya Magan Cissé ; Béhanzin ; Soundiata Kéita ; Christophe Colomb ; Ménélik II ; Kankan Moussa ; Magellan.  
Classe-les dans le tableau suivant : (2pts)

Chefs féodaux	Navigateurs	Empereurs

- 4- Voici une liste de produits agricoles et miniers qu'on trouve au Togo : maïs ; café ; clinker ; coton ; manioc ; haricot ; fer ; phosphate ; cacao.  
a) Choisis un produit agricole que le Togo exporte (0,5pt)  
b) Choisis un produit minier que le Togo exporte (0,5pt)
- 5- Sur une carte du Togo, place le cours d'eau Oti, les régions économiques. (3pts)

DRE MARITIME

EXAMENS DE PASSAGE DU CMI AU CM2

ANNEE SCOLAIRE 2024-2025

PROBLEME

Un commerçant est allé au marché pour acheter 6 chèvres à 11500 F l'une et 15 coqs à 3500 F l'un.

- a) Quel est le prix d'achat des chèvres ? (3pts)
- b) Quel est le prix d'achat des coqs ? (3pts)
- c) Combien a-t-il dépensé en tout ? (2pts)
- d) Combien avait-il avant de partir au marché s'il lui reste encore 2575 F après toutes les dépenses ? (2pts)

N.B. La démarche doit être notée

---

DRE MARITIME

EXAMENS DE PASSAGE DU CMI AU CM2

ANNEE SCOLAIRE 2024-2025

SCIENCES ET TECHNOLOGIE

- 1- Ton ami vit dans une maison où il y a beaucoup de moustiques.
  - a) De quelle maladie risque-t-il de souffrir ? (1pt)
  - b) Donne-lui un conseil pour lui permettre d'éviter la maladie. (1pt)
- 2- Pour le repas de midi, ton père te demande de proposer un menu équilibré à partir des aliments de chez vous. Fais ta proposition de menu équilibré. (2pts)
- 3- Ta sœur vient d'accoucher d'un joli bébé. Quel mode d'allaitement lui recommandes-tu ? Pourquoi ? (2pts)
- 4- Ton petit frère du CE2 n'aime pas se brosser les dents. Dis-lui la maladie de la dent à laquelle il s'expose. (1pt)
- 5- Fais le schéma de la coupe d'une dent saine avec ses différentes parties. (3pts)