

PREMIER TRIMESTRE

PREMIER TRIMESTRE

COMPOSITION N°1

JE SAIS ECRIRE LES MOTS (DICTEE)

Ecoute et écris bien sur la ligne les mots suivants :

Titi, tito, tata, toti, tita, toto, atati, toti tâte tito.

CALCUL MENTAL :

1. Ecris en chiffre le nombre qui vient juste avant 6.
2. Montrer 4 bâtonnets et demander d'écrire en chiffre le nombre correspondant
3. Entre 6,4 et 5, écris en chiffre le nombre le plus grand.
4. Donner cinq coups de règle à la table et demander d'écrire en chiffre le nombre de coups correspondants.
5. Quel est en chiffre le nombre qui vient juste après 5 ?

DESSIN :

C'est la fête. Maman t'a acheté un joli jouet. Dessine-le en utilisant bien les couleurs.

Critères de notation

- Ballon bien dessiné : 7pts
- Couleurs bien choisies : 3pts

J'APPRENDS A PARLER (Language)

Réponds aux questions suivantes :

1. Sur la route de l'école, tu rencontres une personne âgée. Que fais-tu ?
2. Tu travailles bien à l'école et le maître te donne un cadeau. Que lui dis-tu ?
3. Maman était partie au village. Elle est de retour. Que lui dis-tu pour l'accueillir ?
4. Fais une phrase avec chacun des mots suivants : salue ; matin.
5. Quelle école fréquentes-tu ? Es-tu content d'aller à l'école ?

JE SAIS LIRE

1. Donne 2 mots dans lesquels on entend « l ».
2. Donne un mot dans lequel on entend « o » et un autre dans lequel on entend « l ».
3. Observe et lis bien le texte suivant :
Tita, toto, titi, tito, tati, toti, une patate, atati tâte toti.

Critères de notation en compte :

- Bonne prononciation, bonne articulation, respect de la ponctuation, bon débit ;
- Le lecteur doit éviter d'ânonner (action de réciter ou de lire avec peine et en hésitant sur les mots ; paroles prononcées avec peine et en hésitant, lors d'une lecture ou d'une récitation)



COMPOSITION N°2

CHAMP LANGUE ET COMMUNICATION

COPIE

Le maître écrit la phrase suivante au tableau :

« Papa tape le petit toto »

Observe-la puis reproduis-la correctement sur ta feuille

JE SAIS ECRIRE LES MOTS (DICTEE)

Ta sœur te soumet une dictée pour s'assurer que tu maîtrises l'orthographe des sons étudiés en classe

Ecoute-la puis écris correctement tous les sons et mots qu'elle prononce

a - o - i - toto - papa

CHAMP ARTISTIQUE

Dessin

Observe puis dessine un joli sac



Calcul mental

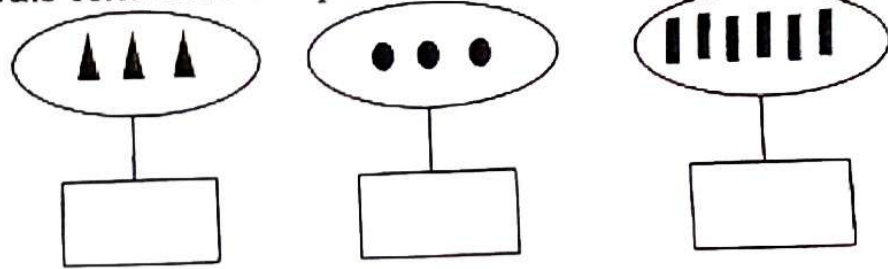
- 1) Papa a un mouton. Ton petit frère te demande de lui écrire le nombre sur ta copie
- 2) Ali veut construire une case, trace une ligne fermée représentant la fondation de la case
- 3) Ton père veut s'assurer que tu maîtrises les notions mathématiques "dedans" et "dehors", te demande de tracer une ligne ouverte et un bâtonnet dehors. Fais-le
- 4) Le maître te montre sa main. Il te demande de lui donner le nombre de doigts sur ta feuille
- 5) Ama a 3 bananes, son père lui ajoute une banane. Elle veut connaître le nombre total de bananes qu'elle possède. Compte puis écris le nombre sur ta copie

EXERCICES ECRITS DE CALCUL

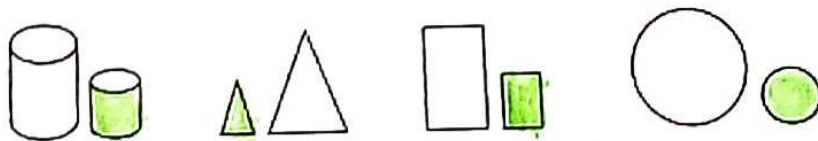
1) Observe la ligne

-
- Dessine un ballon au-dessus de la ligne
 - Dessine un sac au-dessous de la ligne

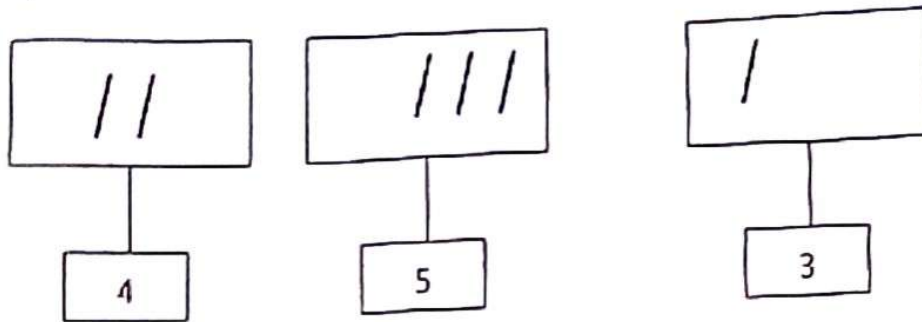
2) Observe puis écris dans chaque cas le nombre qui convient



3) Colorie l'objet le plus petit



4) Complète les cases en dessinant les bâtonnets manquants



COMPOSITION N°3

JE SAIS ECRIRE LES MOTS (DICTEE)

o, a, i, o, i

consigne : Ecris correctement les lettres de la dictée

Copie

o, i, o, a i


consigne : reproduis correctement les lettres de la copie

Calcul mental

- 1) Présente trois bics rouges et demande aux élèves combien de bics rouges je tiens ?
- 2) Tu as combien de bouche ?
- 3) Tu as trois bonbons. Tu donnes un bonbon à ton ami. Combien de bonbons te reste-t-il ?
- 4) Trace une ligne fermée
- 5) Ecris le nombre « 4 » dedans

EXERCICES ECRITS DE CALCUL

1) Voici les objets de formes différentes. Entoure ensemble les objets de forme ronde



2) Papa dessine un cercle et te demande d'écrire la lettre « a » dedans et « o » dehors.

3) Trace une ligne ouverte.

4) Complète les étiquetées suivantes :



Dessin

Tu as vu au supermarché un joli ballon et tu demandes à papa de te l'acheter. Dessine ce joli ballon et montre le à papa afin qu'il te l'achète.

Consigne : Dessine ce joli ballon

COMPOSITION N°4

JE SAIS ECRIRE LES MOTS (DICTEE)

Maman veut savoir si tu sais écrire les lettres étudiées en classe. Elle les lit et te demande de les écrire correctement sur ta feuille. a, d, l, i t.

Consigne : Ecris correctement les lettres de la dictée.

COPIE

Pour avoir une bonne note, tata te demande d'écrire sans faute les lettres et les mots ci-après

n, ama, c moto, a

Problème

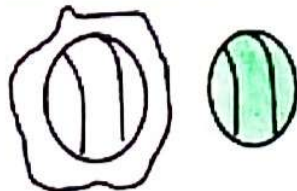
Ama a	4 bics.
Un jour papa lui donne	1 bic
Elle a en tout bics

EXERCICES ECRITS DE CALCUL

1) Entoure le plus grand nombre

2, 0, 5, 3, 1

2) Colorie le ballon qui est au dehors en vert



3) Complète par le nombre qui convient

$$\begin{array}{r} 0 \\ + 4 \\ \hline \end{array}$$

$$\begin{array}{r} 2 \\ + 2 \\ \hline \end{array}$$

4) Trace une ligne fermée qui « entoure » le point ci-dessous



Calcul mental

- 1) regarde tata et écris le nombre d'yeux qu'elle a ?
- 2) Dans la classe il y a combien de tableau(x)?
- 3) Lundi, mardi, mercredi, jeudi. Ça fait combien de jours ?
- 4) Quel nombre vient juste après 2 ?
- 5) J'ai 0 bic maman me donne 0 bic. J'ai en tout combien de bic ?

Dessin

Tu as vu chez ton ami une jolie orange bien mûre. Tu demandes à maman de t'en acheter. Dessine cette belle orange que tu as vue.

COMPOSITION N°5

Copie

Observe et lis silencieusement le texte suivant :

Atati a mal à la tête. le petit bébé tête. papa a une tomate.

Consigne : Reproduis sans faute ce texte sur ton cahier et en formant bien les lettres. 10pts

JE SAIS ECRIRE LES MOTS (DICTEE)

Atati est à l'école. Il est poli. Il a un bic

Consigne : Ecris correctement tous les mots de la dictée pour avoir une bonne note.

Dessin

Pour la tête de Noël, maman t'a acheté un joli jouet. Dessine-le en utilisant bien les couleurs.

Critère de notation

Jouet bien dessiné : 7pts

Couleurs bien choisies : 3pts

Calcul mental

- 1) Trace une ligne fermée et écris « a » dedans.
- 2) Le maître ou la maîtresse donne trois coups sur la table et demande de d'écrire le nombre de coups entendus.
- 3) Ecris le nombre le plus grand entre les nombres 3, 5, et 2
- 4) Ecris le nombre qui vient juste après 5.
- 5) Combien de capsules dois-je ajouter à 3 capsules pour avoir 5 ?

Langage oral :

C'est la composition mensuelle. Le maître ou la maîtresse te pose des questions en langage.

Consigne : réponds oralement aux questions pour avoir une bonne note :

- ❖ Salue ton maître le matin
- ❖ Salue ta maîtresse le soir
- ❖ Présentes-toi à ton ami
- ❖ Demande la permission de sortir
- ❖ Quel âge as-tu ?

LECTURE

C'est la composition mensuelle. Le maître ou la maîtresse te propose le texte suivant à lire :

« Ina a une banane mûre. Baba a une tomate. Béti a un Bic. Banaba est à l'école ».

Consigne : Lit le texte à haute voix pour avoir une bonne note.

NB : le texte doit être copié au tableau en script ou en cursive

Critère de notation

- 1) Prononciation correcte : 4pts
- 2) Lecture sans hésitation : 2pts
- 3) Lecture de tous les mots : 4pts

COMPOSITION N°6

EXERCICES ECRITS DE CALCUL

Nom de l'enfant

SSI-1 : Je sais retrouver le devant et le derrière




Consigne :

- ❖ Entoure ce qui est derrière le chien
- ❖ Fais une croix sur ce qui est devant le chien

SSI-2 : Je sais retrouver la gauche et la droite

Observe les animaux




Consigne :

- ❖ Barre d'un trait l'animal qui est à gauche du chat
- ❖ Fais un rond sur l'animal qui est à droite du chat.

SSI-3 : Je sais compter

Observe les boules



Consigne : entoure les boules par tas de 4 :

COPIE

Observe la suite constituée par les lettres, les syllabes et les mots.

Reproduis cette suite sur la ligne qui est en bas

a i o t ti ta to titi toto
tata

JE SAIS ECRIRE LES MOTS (DICTEE)

i o a t ta ti toto tata
titi

DESSIN

Pour ton anniversaire, papa t'a acheté une jolie voiturette.
Dessine-la en utilisant bien les couleurs.

Critère de notation

- ❖ Voiture bien dessinée : 7pts
- ❖ Couleurs bien choisies : 3pts

CALCUL MENTAL

- 1) Ecris le nombre le plus grand entre 2 et 3. 2pts
- 2) Trace une ligne fermée. 2pts
- 3) Tapez trois coups sur la table et demander d'écrire le nombre de coups entendus. 2pts
- 4) Quel est le nombre qui vient juste avant 3. 2pts
- 5) Combien de cahiers dois-je ajouter à un cahier pour en avoir 3 ? 2pts

LANGAGE ORAL

C'est la composition du premier trimestre. La maîtresse te pose des questions en langage.

Consigne : Réponds oralement aux questions pour avoir une bonne note :

- ❖ Comment t'appelles-tu ?
- ❖ Tu es en quelle classe ?
- ❖ Quel âge as-tu ?
- ❖ Combien de frère(s) as-tu ?
- ❖ Combien de sœur(s) as-tu ?

Notation : 2pts par question

Les critères de notation :

- Pertinence de la production
(réponse à toutes les questions)

LECTURE

C'est la composition du premier trimestre. Le maître ou la maîtresse te propose la suite suivante composée de lettres, de syllabes et de mots :

a i o t to ti ta toto tata
toti

Consigne : lis-la bien à haute voix pour avoir une bonne note.

Critères de notation :

- Prononciation correcte : 4pts
- Lecture sans hésitation: 2pts
- Lecture de tous les sons, syllabes et mots : 4pts

DEUXIEME TRIMESTRE

EVALUATION JANVIER 2023

JE SAIS ECRIRE LES MOTS (DICTEE)

Ba, pa, baba, une patate, une petite, tata, batata a une pipe.

J'APPRENDS A ECRIRE (COPIE)

Un tapis, bibi est petite, apati a une patate. Le petit baba a une pipe.

EXERCICES ECRITS DE CALCUL

1. Dessine une ligne fermée et écris « 7 » dedans.
2. Recopie les nombres suivants et encadre le plus grand :
7 5 8 3 6

3. Range les nombres suivants du plus grand au plus petit :

6 2 7 5 1


4. Pose et effectue : $4 + 3 = ?$
5. Complète avec le signe qui convient : $< ; = ; >$
 $6 . 4 + 2 ; 7 . 5$

CALCUL MENTAL

1. Montre quatre stylos et demande d'écrire le nombre correspondant.
2. Quel est le nombre qui vient juste après 7 ?
3. Quel est le nombre qui vient juste avant 8 ?
4. Entre 8, 4 et 7, quel est le plus petit nombre ?
5. J'ai cinq bananes. Papa m'ajoute une autre banane. Combien de bananes ai-je maintenant ?


JE SAIS RESOUDRE UN PROBLEME (PROBLEME)

Pour décorer sa chambre, ton camarade ananou a fabriqué une guirlande avec des objets de formes différentes alignés comme suit :




Tu veux connaître la forme la plus utilisée et la moins utilisée. Colorie en rouge la forme la plus utilisée et en vert la forme la moins utilisée.

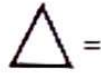
Ecris devant chaque forme le nombre de fois qu'on la retrouve dans la guirlande.



=



=



=

EDUCATION ARTISTIQUE ET CULTURELLE (DESSIN)

SUJET :

Tu as vu dans ton livre une grosse et jolie papaye mûre, tu veux que maman te l'achète. Dessine cette grosse papaye et montre le dessin à maman afin qu'elle te l'achète

EVALUATION MARS 2023

JE SAIS ECRIRE LES MOTS (DICTEE)

Amina est sur la moto de pitala. Mamadi a bu de la limonade.

COPIE

Abidé admire babadi. Il est sur la moto de son ami désiré. Maman a une belle robe

EXERCICES ECRITS DE CALCUL

1. complète

a) $5+3 = ..$

b) $7+.... = 10$

2. Remplace le point par le nombre qui convient pour avoir 10.

$5 + 5 = 10$

$6 + . = 10$

$4 + . = 10$

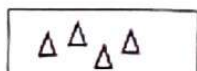
$8 + . = 10$

$3 + . = 10$

3. Range du plus petit au plus grand les nombres suivants :

10 - 6 - 0 - 5 - 3 - 9


4. Complète pour avoir 10 triangles à l'intérieur du cadre.




1: Ecris sur chaque étiquette le nombre total d'objets dans le cadre :









CALCUL MENTAL

- 1) Quel est le nombre qui vient juste après 9 ?
- 2) Dessine cinq bâtonnets.
- 3) Fofana a 6 billes. Son ami lui ajoute 2 autres billes. Combien de billes a-t-il maintenant ?
- 4) Quel est le plus grand nombre entre 7, 3 et 9 ?
- 5) Quatre unités et quatre unités font combien d'unités ?

PROBLEME

Observe le quadrillage et lis les codes suivants : (1,d) ; (2,c) (3,b) et (4,a)

	1	2	3	4
a	☆			
b				
c				
d				i



*no
no*

- a) Colorie en jaune les cases correspondant aux codes donnés.
- b) Donne le code :
 - de la classe où se trouve l'étoile
 - de la case où est écrit « i »



DESSIN

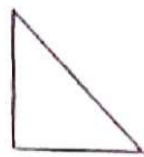
Tu as vu dans ton livre une grosse et jolie banane, tu veux que maman te l'achète. Dessine cette grosse banane et montre le dessin à maman afin qu'elle te l'achète.

COMPOSITION N°1

EXERCICES ECRITS DE CALCUL


1/Tu veux montrer à Yao que tu connais les formes

Consigne de travail : colorie en jaune les objets qui ont la même forme

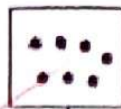


2/Je connais bien les nombres et je sais les écrire

Consigne : écris dans les cases d'en bas le nombre d'objets qui se trouvent dans les cases d'en haut.



4



7

3/Complète le tableau pour écrire les nombres dans l'ordre

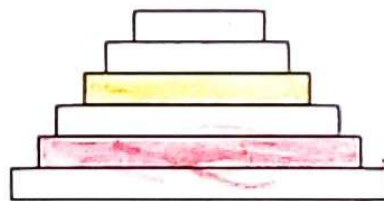


4/Papa veut décorer pour la fête les escaliers de votre maison avec des couleurs.

Consigne :

Colorie :

- En jaune la quatrième marche du bas vers le haut et
- En rouge la cinquième marche du haut vers le bas.



5/Ecris sur chaque point le nombre qui convient : $5 < . < 7 < .$

JE SAIS ECIRE LES MOTS

En classe le maître te demande d'écrire les lettres et les mots suivants

Consigne : Ecoute et écris bien :

t, p, pi, te, tata, pâté, papa a une daba

Accordez un point pour chaque lettre et mot bien écrit ; ne pas tenir compte de l'accent circonflexe sur le « à » de « pâté ».

CACUL MENTAL

Ta maman te demande de lui donner mentalement les réponses aux questions suivantes.

Consignes : trouve mentalement et écris les réponses correctes.

1/Dans ton sac, tu as 5 bâtonnets et 2 crayons. Ecris le plus grand nombre entre 5 et 2.

2/Maman a 3 livres dans la main gauche et 2 livres dans la main droite. Combien de livres maman a en tout ?

3/Papa trouve dans ton sac 4 cailloux. Combien de cailloux tu vas ajouter pour avoir 5 cailloux ?

4/Ecris le nombre qui vient juste après 3.

5/Ta sœur compte de 0 à 10. Ecris le nombre qu'elle compte avant 10?

DESSIN

Montre à papa que tu sais dessiner une mangue

Travail à faire : Dessine une mangue mûre sur ta feuille

COPIE

Montre à ta sœur que tu sais écrire comme elle.

Consigne : recopie lisiblement le texte suivant sans faire de fautes.

Ata joue avec nina. Nina gagne deux billes.

PROBLEME

Maman achète des boubous, lala est allée au marché avec maman. La petite lala n'arrive pas à calculer le nombre de boubous achetés.

Consignes : aide lala à calculer le nombre de boubous achetés.

Maman a d'abord acheté 4 boubous chez tante Anna et

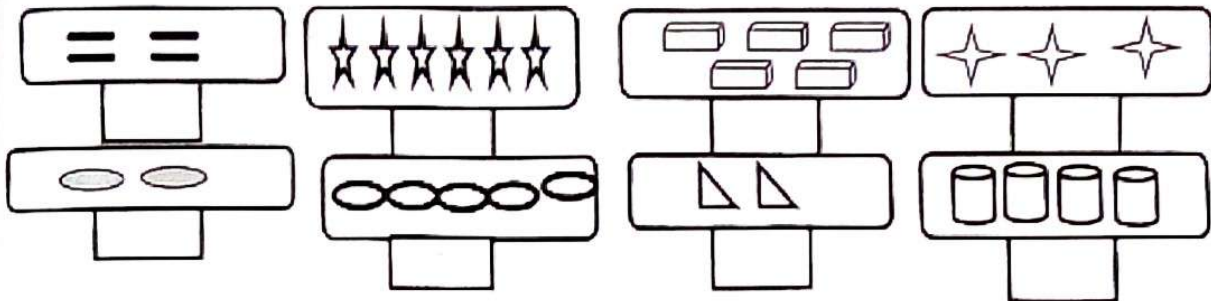
2 boubous chez son ami Tata

Maman a acheté en tout ...boubous

COMPOSITION N°2


Mathématiques

Situation problème 1 : toi et tes camarades, vous décidez d'envoyer votre classe avec les dessins suivants : observe-les.



Consigne : compte les objets qui sont encadrés et écris dans chaque case le nombre d'objets correspondant. 3pts

Situation problème 2 : Un matin, tu observes la position de ton camarade qui monte le drapeau togolais.



Consigne : relie chaque image à sa position correspondante sur l'axe des temps.

Situation problème 3 : Votre école remporte la coupe interscolaire. La direction de l'école offre au meilleur joueur un collier de jouets ballons en plastique de différentes tailles. Observe le collier :



Consigne : Ecris dans les cases les numéros des ballons du plus grand au plus petit.

COPIE

Observe et lis silencieusement le texte suivant :

Apati a mal à la tête. Le petit bébé tête. Pana a une tomate

Consigne : reproduis en cursive et sans faute ce texte sur ton cahier et en formant bien les lettres.

JE SAIS ECRIRE LES MOTS (DICTEE)

Atati est à l'école. Il est poli. Il a un bic

Consigne : Ecris sans faute tous les mots de la dictée pour avoir la meilleure note.

DESSIN

Pour la fête de Noël, maman t'a acheté un joli jouet. Dessine-le en utilisant les couleurs

Critères de notation

- Jouet dessiné 7pts
- Couleurs bien choisies 3pts

Consigne : relie chaque image à sa position correspondante sur l'axe des temps.

Situation problème 3 : Votre école remporte la coupe interscolaire. La direction de l'école offre au meilleur joueur un collier de jouets ballons en plastique de différentes tailles. Observe le collier :



Consigne : Ecris dans les cases les numéros des ballons du plus grand au plus petit.

COPIE

Observe et lis silencieusement le texte suivant :

Apati a mal à la tête. Le petit bébé tête. Pana a une tomate

Consigne : reproduis en cursive et sans faute ce texte sur ton cahier et en formant bien les lettres.

JE SAIS ECRIRE LES MOTS (DICTEE)

Atati est à l'école. Il est poli. Il a un bic

Consigne : Ecris sans faute tous les mots de la dictée pour avoir la meilleure note.

DESSIN

Pour la fête de Noël, maman t'a acheté un joli jouet. Dessine-le en utilisant les couleurs

Critères de notation

- Jouet dessiné 7pts
- Couleurs bien choisies 3pts

CALCUL MENTAL

- 1) Trace une ligne fermée et écris « a » dedans
- 2) Le maître ou la maîtresse donne trois coups sur la table et demande d'écrire le nombre de coups entendus
- 3) Ecris le nombre le plus grand entre les nombres 4,6 et 1
- 4) Ecris le nombre qui vient juste après 6
- 5) Combien de capsules dois-je ajouter à 2 capsules pour en avoir 5 ?

LANGAGE ORAL

C'est la composition mensuelle. Le maître ou la maîtresse te pose des questions en langage

Consigne : réponds oralement aux questions pour avoir une bonne note :

- Salue ton maître le matin
- Salue ta maîtresse le soir
- Présentes-toi à ton ami
- Demande la permission de sortir
- Quel âge as-tu ?

LECTURE

C'est la compositions mensuelle. Le maître ou la maîtresse te propose le texte suivant à lire :

Ina a une banane mûre. Baba a une tomate. Bêti a un bic. Bataba est à l'école

Consigne : lit bien le texte à haute voix pour avoir une bonne note

NB : le texte doit être copié au tableau en script ou en cursive

Critère de notation

- 1) Prononciation correcte : 4pts
- 2) Lecture sans hésitation : 2pts
- 3) Lecture de tous les mots : 4pts

COMPOSITION N°3

CHAMP LANGUE ET COMMUNICATION

En classe, ton maître a écrit les phrases suivantes au tableau
« Le bébé tête. Le petit a un œuf » observe les bien et reproduis-les correctement en cursive sur ta feuille.

JE SAIS ECRIRE LES MOTS (DICTEE)

Maman veut s'assurer que tu maîtrises l'orthographe des sons étudiés en classe avec ton maître. Elle te soumet pour cela à une dictée. Ecoute et écris correctement ces sons sur ta feuille.

« do-la télé-la tête – papi »

CHAMP ARTISTIQUE

Dessin :

Tu désires un joli gobelet pour boire pendant le pique-nique. Dessine-le

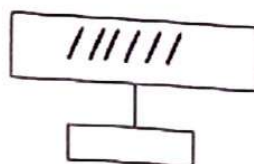
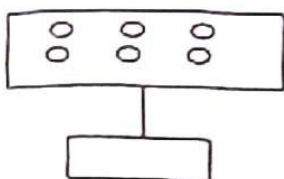


CALCUL MENTAL

- 1) Papa a une poule. Ton frère du jardin d'enfants te demande de lui écrire le nombre de pattes de cette poule. Compte et écris-lui ce nombre sur ta copie
- 2) Ton maître de demande d'aider ton camarade à retrouver la bonne réponse au problème suivant
« Entre les nombres 7 et 2 lequel est plus grands » écris-le
- 3) Tu as 3 billes, au jeu, tu gagnes 2 billes. De retour à la maison, ta sœur te dit d'écrire en chiffre le nombre de billes que tu as en tout. Ecris-ce nombre.
- 4) Le maître montre une chaise. Il te demande de lui écrire le nombre de pieds de la chaise. Compte puis écris ce nombre sur ta copie
- 5) Papa élève des lapins à la campagne. Un serpent les menace. Papa décide de construire une clôture pour protéger ces animaux dessine la clôture

EXERCICES ECRITS DE CALCUL

1) Le maître te présente les collections d'objets suivants. Il veut que tu l'aides à les compter. Compte et écris dans la case vide le nombre d'objets de chaque collection :



2) Le maître veut s'assurer que tu sais écrire les nombres en lettres. Il te soumet l'écriture des nombres en chiffre. Observe-les puis écris en lettres ces nombres.

1 =

4 =

5 =

3) Observe les cases puis complète dans l'ordre de comptage avec les nombres qui manquent

3			6	
---	--	--	---	--

4) Ta sœur a du mal à repérer à droite et à gauche. Reproduis les dessins ci-dessous et aide-la à retrouver ces deux (2) positions

Tu écris 9 à droite

Tu traceras 3 bâtonnets à gauche



COMPOSITION N°4

JE SAIS ECRIRE LES MOTS (DICTEE)

Ton maître veut vérifier si tu maîtrises l'orthographe des lettres et sons étudiés en classe. Pour cela il te soumet la dictée suivante : d o ba to le papa moto

Consigne : Ecris correctement les lettres et mots de la dictée.

COPIE

Lis silencieusement et écris sans faute le texte suivant :
ni eu mu la bi papa tape napo à midi

DESSIN

Pendant les congés, tu as fait un voyage au nord et tu as vu des cases rondes. Dessine une des cases ronde que tu as vues pour montrer à papa qui n'a pas fait le déplacement.

PROBLEME

Ali a 6 bics.
il achète encore 3 bics
Il a en tout • bics

Critères de notation :

Le signe d'addition = 3pts

Bonne réponse = 7pts

CALCUL MENTAL

1) Quel nombre vient juste après 7

2) Lundi, mardi, mercredi, jeudi, vendredi, samedi : ça fait combien de jours ?

3) La maîtresse tape 6 fois dans ses mains. Chaque élève compte et écrit la réponse

4) Combien de bras as-tu ?

5) Le maître lève sa main gauche. Elle a combien de doigts ?

CALCUL ECRIT

1) Complète en mettant sur le point le nombre qui manque

3 4 5 6 7 8
27

GROUPE LE SAUVEUR

Agrément N°37/MCT/BUTODRA /2022 Tél : 96115112 / 90878762

Notre mission c'est de servir ! Togolais viens, bâtissons la cité !

2) Parmi les nombres suivants relève :

a) Le plus petit = 2

b) Le plus grand = 8

5 ; 8 ; 4 ; 2 ; 6

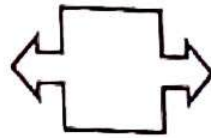
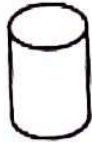
3) Compare les nombres en mettant les signes : > = <

5 > 2

4 = 4

2 < 5

4) Parmi les dessins suivants, reproduis celui qui a la forme d'un triangle puis colorie-le en bleu



COMPOSITION N°5

JE SAIS ECRIRE LES MOTS (DICTEE)

Yacoubou veut s'assurer que tu maîtrises l'orthographe des sons étudiés en classe. Il te soumet la dictée suivante :

o-t-s-e-papa-maman-bila-afi. Écoute attentivement et écris correctement les mots de la dictée.

COPIE

Foli te présente le texte suivant : « fofana est sur un joli vélo. Il est fier ». Il te demande de le recopier. Recopie-le sur ta feuille sans faute.

LANGAGE

1) Bila veut former une bonne phrase avec les mots mais il éprouve des difficultés : malade-ama-est. Aide-la à ordonner ces mots pour avoir une phrase correcte

2) Aliou te présente le message suivant « napoestpetit » et te demande de séparer les mots pour avoir la phrase correcte sur ta copie. Fais-le.

LECTURE

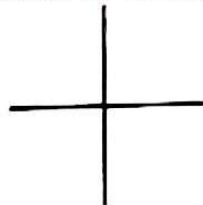
- 1) Voici des mots : forêt-tête-folie-ama-bafilo-amivi-fer-finie. Copie sur ta feuille, les mots contenant le son (f)
- 2) Ton maître te présente les étiquettes-mots suivants : âne-tapo-banane-lune-dame-napo. Il te demande de reproduire ces mots sur ta feuille puis d'entourer "n" dans ces mots

CALCUL MENTAL

- 1) La maîtresse te présente les 5 doigts de sa main droite et elle ajoute 2 doigts de la main gauche. Elle te demande d'écrire le nombre de doigts montrés.
- 2) Papa veut s'assurer que tu maîtrises l'écriture des nombre en lettres. Il te demande d'écrire en lettres le nombre cinq. Fais-le.
- 3) Ton maître te demande d'aider ton camarade à trouver la bonne réponse « entre les nombre 7-9-2 lequel est le plus petit. Ecris-le
- 4) Bila élève des pintades. Un chien les menace. Papa décide de construire une clôture pour protéger ses volailles. Dessine la clôture
- 5) une poule a deux pattes. Dans la sauce de maman on trouve quatre pattes. Combien de poule on a tué ?

EXERCICES ECRITS DE CALCUL

- 1) Yao a du mal à représenter « en haut à droite » et « en bas à gauche
- Reproduis le dessin ci-dessous et aide-le à retrouver les des deux positions



Tu écriras 5 en haut à droite et tu traceras 2 bâtonnets en bas à gauche du dessin

- 2) Tu prends part à un jeu de mathématiques. Le directeur te présente 3 opérations dans les tableaux et te demande de d'effectuer ces opérations

$5 + 2$

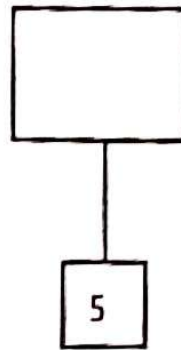
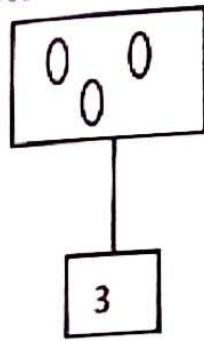
$4 + 5$

$3 + 2$

Effectue ces opérations et puis écris dans chaque case vide la réponse correspondante

3) Papa te présente les nombres suivants : 6 4 2 3 et te demande de l'aider à écrire en ordre et du plus petit au plus grand. Aide papa à le faire

4) Ton ami a des difficultés en mathématiques. Aide-le à dessiner dans chaque case le nombre de bâtonnets correspondants à chaque étiquette.



PROBLEME

De retour du champ, papa a ramené 3 oranges et 2 bananes dans un même panier. Il veut connaître le nombre de fruits ramenés.

a) Ecris sur ta feuille l'opération puis donne-lui le nombre total de fruits


- Critères de notation
- Opération bien écrite : 3pts
- Le signe convenable ; 2pts
- La bonne réponse : 5pts

Dessin

Tu veux offrir une mangue mûre à ton camarade
Dessine cette mangue sur ta feuille

Critères de notation :

- Mangue bien dessiné: 6pts
- Couleur bien choisie : 4pts



COMPOSITION N°6

COPIE

« Le petit garçon est sur une moto avec son père, maman vend des taros »
Observe les phrases ci-dessus puis reproduis-les en cursive sur ta feuille.

JE SAIS ECRIRE LES MOTS (DICTEE)


Papa veut s'assurer que tu maîtrises l'orthographe des sons étudiés en classe. Il te soumet la dictée suivante

« afi va à l'école. Sara a mal à la jambe »

Ecoute attentivement puis écris correctement ces sons sur ta feuille

DESSIN

Papa ramène du marché des poissons. Il te demande de dessiner le poisson que tu aimes sur ta feuille. Fais-le



LANGAGE

1) Napo veut former une phrase avec les étiquettes mots mais il éprouve des difficultés :

la-route-ali-joue-sur. Aide-le à ordonner ces mots pour avoir une phrase correcte

2) Maman te présente le message suivant :

« nakaunepoule » et te demande de séparer les mots puis de les recopier sur ta feuille

3) Choisis le mot juste pour chaque phrase

banane-tête-vélo

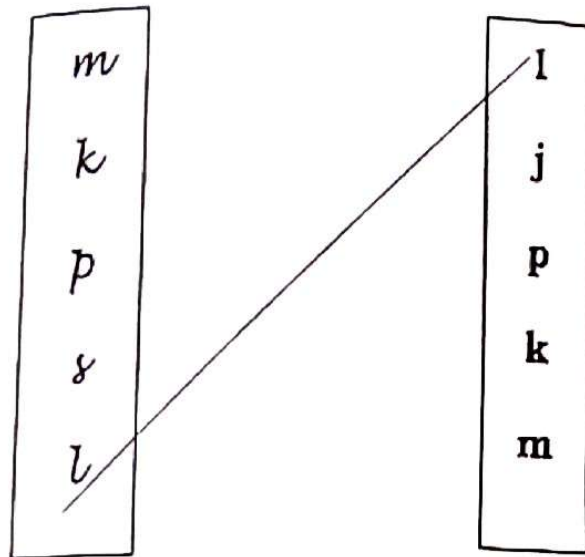
- ❖ Afi va à.....
- ❖ Naka mange une
- ❖ Abalo a mal à la

LECTURE

1) Papa veut s'assurer que tu maîtrises l'orthographe des lettres en script et en cursive. Il te présente des lettres

a) en cursives et

b) en scripts puis t'ordonne de relier chaque lettre à sa correspondante. Fais-le.



2) Voici des mots

Jambe-chant-ama-enfant-douti-tambour-afi-dans

❖ Recopie les mots qui contiennent le son [ā]

❖ Entoure le son [ā] dans ces mots

CALCUL MENTAL

Papa veut vérifier certaines compétences acquises en mathématiques. Il te soumet 5 questions. Réfléchis puis donne-lui la réponse

1) Quel est le nombre qui vient juste après 9 ?

2) Écris 10 en lettres

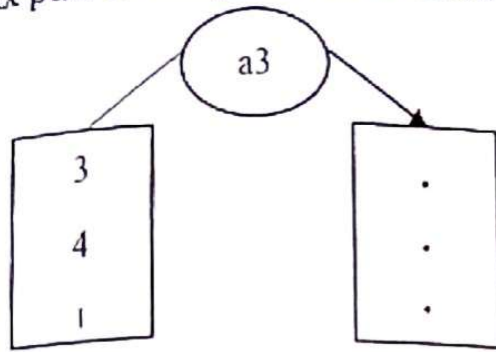
3) Le mouton possède combien de pattes ?

4) Ali tue 2 poules combien de pattes aura-t-il ?

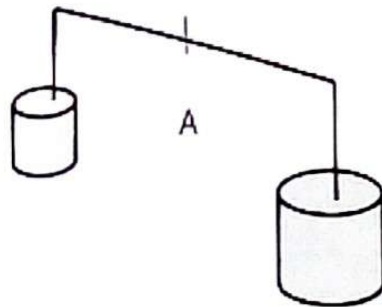
5) Voici les nombres 6 et 8. Écris le plus petit nombre

EXERCICES ECRITS DE CALCUL

1) Papa te présente deux tableaux. Il te demande d'observer les tableaux puis de compléter : le tableau d'arrivée



- 2) Compare les nombres suivants en utilisant : $<$ $=$ $>$
 $4 . 6$ / $7 . 7$ / $8 . 3$
- 3) Colorie l'objet qui pèse (l'objet le plus lourd)



4) Calcule
 $4 + 3 =$

$$5 + 1 =$$

PROBLEME

Fatou a 7 billes, au jeu, elle gagne 2 billes
Combien de billes Fatou a en tout ?

TROISIEME TRIMESTRE

COMPOSITION N° 1 FRANCAIS

J'apprends à lire :

Au cours de la récréation, tu as ramassé une feuille de papier sur laquelle il est écrit :

« il est midi, le bébé est sur le lit. Il a bu un peu de lait »

Consigne : Le maître te désigne pour lire ce texte à haute voix à tes camarades. Lis-le et réponds aux questions suivantes :

1- quelle heure est-il ?

2- Où se trouve le bébé

Critères minimaux

- Pertinence des réponses (respect des consignes)
- Cohérence de la lecture des images et de l'identification des mots
- Correction de la langue (respect de la syntaxe)

Grille de correction

Consignes	Critères		
	Pertinence de la production	Cohérence de la production	Correction de la langue
Lire	L'élève a lu une phrase 1pts	L'élève a lu distinctement le tiers des mots 1pts	L'élève a le point si : - la ponctuation est correcte ; 2pts
	L'élève a lu deux phrases 2pts	L'élève a lu distinctement les deux tiers des mots 1pts	-la ponctuation est correcte ; 2pts -la ponctuation est respectée. 2pts
	L'élève a lu trois phrases 3pts	L'élève a lu distinctement la totalité des mots	
Total	3pts	3pts	4pts

FRANCAIS

J'apprends à parler :

1- Situation problème

Deux enfants discutent d'un match de football. Chacun donne et justifie son avis sur les joueurs.

Consignes : tu es l'un des enfants. Choisis un/une camarade et discutez. Chacun fait au moins quatre phrases.
Les critères minimaux.

- Pertinence de la ponctuation (respect de toutes les consignes)
- Cohérence des idées (production des phrases ou récit ayant du sens)
- Correction de la langue (respect de la syntaxe)

2- Situation problème

Tu as bien travaillé en classe et papa veut t'offrir un cadeau. Il t'emmène dans un marché (supermarché, magasin, boutique, etc) et te demande de choisir entre un jouet, un vélo et un habit.
Consigne : Fais ton choix et dis pourquoi. Dis-le en quatre phrases au moins

Grilles de correction

Consignes	Critères		
	Pertinence de la production	Cohérence du récit	Correction de la langue
Donne ton avis	L'élève a le point s'il a donné son avis. 2pts	L'élève a le point si l'avis est conforme à la situation. 2pts	L'élève a le point si : - La syntaxe est correcte. 2pts
Justifie son avis	L'élève a le point s'il a justifié son avis. 1pt	L'élève a le point si la justification est conforme au contexte. 1pt	- La prononciation est correcte 2pts
TOTAL	3 pts	3 pts	4 pts

Je sais écrire (copie)

Voici un texte :

Le petit ama porte une jolie robe bleue. Elle va à l'école.

Consigne : Recopie correctement ce texte pour montrer à ton maître que tu sais écrire pour passer au CP2.

JE SAIS ECRIRE LES MOTS (DICTEE)

Le vélo, un ballon, ina va à l'école de la ville, un joli bébé.
Ecoute attentivement et écris les mots de la dictée sans faire de faute.

DESSIN

C'est le moment des mangues. Papa veut l'acheter une jolie et grosse mangue. Il te demande de lui montrer celle que tu veux.

Critère de notation :

Mangue bien dessiné = 7pts

Couleur bien choisie = 3pts

COMPOSITION N°2

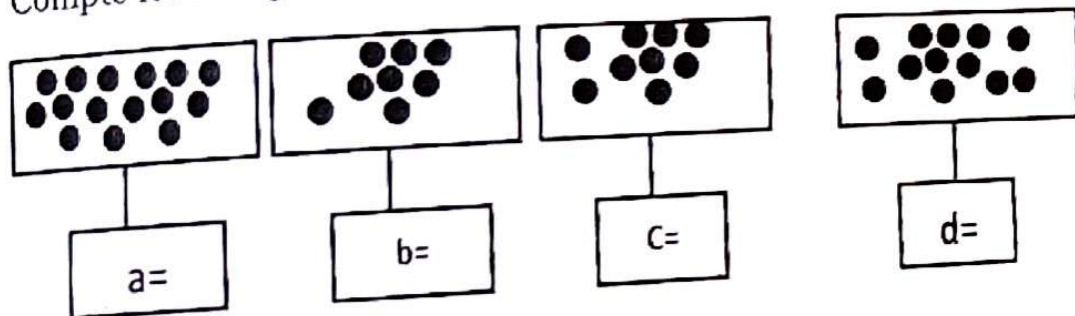
MATHEMATIQUES

I-CB1 : je sais compter

C'est la saison des mangues. Tes frères sont allés cueillir des mangues.

Voici les tas de mangues que tes frères ont faits. Tu veux connaître le plus grand tas et le plus petit tas.

Compte les mangues dans chaque tas et écris le nombre



Consigne : écris les lettres du plus grand tas et du plus petit tas

1-Le plus grand tas est

2-Le plus petit tas est.....

II-CB2 : je sais situer

Ton père a installé une étagère dans ta chambre. Tu as placé des objets et jouets dans les rayons de l'étagère comme l'indique le schéma ci-dessous

4	Ballon				
3		Chapeau		Poupée	
2					
1		Voiturette			cartable
	a	b	c	d	e

Le code de la voiturette est (b, 1)

Ton ami est venu jouer avec toi et travailler. Tu lui demandes d'aller prendre le ballon et le cartable

Voiturette	Ballon	Cartable
(b, 1)		

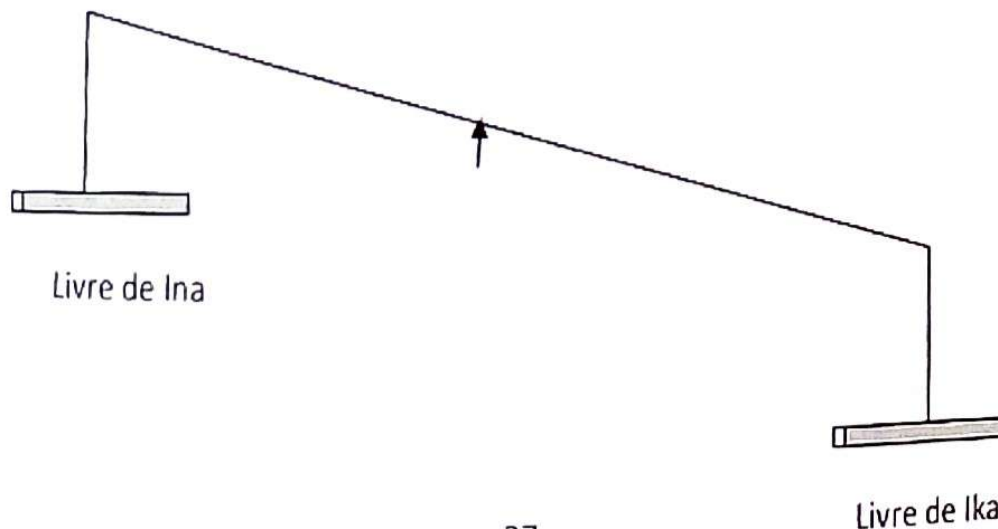
Consigne : écris dans le tableau le code de chacun des objets

Critères

- 1-L'élève utilise les données et aboutit à la réponse.
- 2-Toutes les réponses sont justes.
- 3-L'élève respecte la consigne

III-CB3 : je sais comparer

Ika et Ina s'amuse à savoir lequel de leur livre est le plus lourd
Observe bien les schémas ci-dessous



Selon toi, quel est le plus lourd ? le livre le plus léger ?
LECTURE

Situation problème

C'est la fin de l'année. Avec le maître, tu as appris à lire. A la maison papa te donne un cahier contenant les lettres, les sons, les mots et les phrases suivantes :

Consigne : Lis-les

1)u, l, ou, v, tété, est, amivi va à l'école

2)b-i-t-ê-au-d-ina joue au ludo

3)m-b-s-n-f-la fête, la salade, une banane. Salima est parti.

4)a, o, p, an, k, g. un garçon, le kaki, du mil, naka va à vélo

Critères

1)prononciation correcte 3pts

2)la lecture sans hésitation 2pts

3)respect de la ponctuation 2pts

4)lecture de tous les sons, mots et phrases. 3pts

JE SAIS ECRIRE LES MOTS (DICTEE)

le, ma, un, ou, tu, ina, joue, afi est malade.

NB : une faute enlève un point

CALCUL MENTAL

1)Ecris le plus grand nombre entre 6 et 9. 2pts

2)Quel est le nombre qui vient juste après 7 ? 2pts

3)Une main comporte 5 doigts. Combien de doigts comptent deux mains. 2pts

4)Le maître a 6 cahiers dans sa main droite et 4 cahiers dans sa main gauche. Combien de cahiers a-t-il en tout ? 2pts

5)Ina a 7 mangues. Elle en mange 2. Ina a maintenant combien de mangues ? 2pts

COPIE

C'est la fête. napo a bu de la limonade. Il est content.

Consigne : recopie cet texte sans erreur pour avoir la meilleure note.

DESSIN

Tu veux offrir une grosse et belle orange à papa. Dessine-la en utilisant bien les couleurs.

NB : Orange bien dessinée vaut au plus 7pts
Couleur bien choisie vaut au plus 3pts

LANGAGE

SITUATION PROBLEME

SP1

Pendant la récréation, un de tes camarades t'insulte. Tu le signales au maître de semaine qui vous convoque pour vous écouter. Dis ce qui s'est passé.

Le maître demande au fautif de présenter des excuses et de promettre ne plus recommencer.

Choisis un/une camarade pour jouer la scène chacun fait au moins quatre phrases.

SP2

Tu es admis à l'examen de fin d'année. Pour t'encourager, ton oncle veut t'offrir un cadeau. Il te conduit au marché ou dans une boutique et te demande de choisir entre un habit, un vélo et des chaussures.

Fais ton choix et dis pourquoi. Fais au moins quatre phrases.

CRITERES

SP1

-L'enfant dit ce qui s'est passé (3pts)

-L'enfant présente ses excuses. (3pts)

-L'enfant promet de ne plus recommencer (4pts)

SP2 :

-L'enfant fait son choix. (3pts)

-L'enfant dit pourquoi (3pts)

-L'enfant fait 4 phrases au plus (4pts)

EXAMEN DE PASSAGE (DRE KARA)
JE SAIS ECRIRE LES MOTS (DICTEE)

Le maître veut s'assurer que tu maîtrise l'horographe des mots, lettres et sons. Il te soumet la dictée suivante.

s, ou, v, fa, le sac, la robe est sale.

Ecoute attentivement et écris le texte de la dictée sans faute

COPIE

Lis attentivement le texte suivant et recopie-le sans erreur pour avoir une bonne note.

La, dou, amivi, fati, napo va à l'école. Il marche vite

CALCUL MENTAL

1) Papa a 8 biscuits à partager entre ses deux enfants. Combien de biscuits chacun aura ?

2) Combien faut-il ajouter à 6 pour avoir 9 ?

3) Salifou a 5 bâtons de craie. Il donne 2 bâtons de craie à son ami. Combien de bâtons de craie lui reste-t-il ?

4) Quel nombre vient juste avant 10


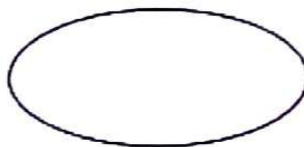
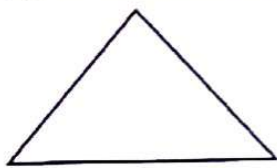
5) A la chasse, tu tues d'abord 3 souris puis 4 souris après. Combien de souris as-tu tuées en tout ?

CALCUL ECRIT

1) Ton ami écrit les nombres de 0 à 10. Il oublie certains. Complète-les (2pts)

0 1 . 3 . . 6 . 8 9 10

2) Observe les dessins et reproduis seulement le triangle (2pts)




3) Calcule :

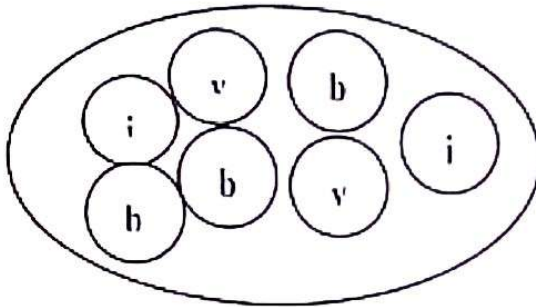
$$3+3=$$

$$4+3=$$

4) Lors d'un jeu concours, tu te présentes et veux bien gagner. Voici le jeu : observe ce dessin et écris 5 dans la ligne fermée et 9 dehors



5) Kodjo a un ensemble de jouets de couleurs différentes. Il veut savoir le nombre de jouets par couleur. Il te demande de l'aider à compléter le tableau ci-dessous. Aide-le



v	
b	
j	2

PROBLEME

Ali a 6 mangues
 Afi lui donne encore 2 mangues
 Ali a en tout . mangues

DESSIN

Maman est revenue du marché avec un grand panier plein d'oranges bien mûres. Elle te demande d'en dessiner une sur ton cahier avant qu'elle ne t'en donne. Fais le dessin.

COMPOSITION N°3

JE SAIS ECRIRE LES MOTS (DICTEE)

La-pi-to. Daba-vélo. Papa a une petite moto.
 Ecoute attentivement et écris le texte de la dictée sans faute.

COPIE

Le petit chat de bala est dans la cour
 1 ; 2 ; 3 ; 4 ; 5
 Recopie correctement le texte et les nombres pour avoir une bonne note.

CALCUL MENTAL

- 1) Voici deux nombres 9 et 11. Ecris le plus grand.
- 2) Montrer les cinq bâtonnets et demander d'écrire le nombre correspondant.
- 3) Tu as 6 bonbons. Tu sucres deux bonbons. Il te reste combien de bonbons ?
- 4) Ecris le nombre qui vient juste après 6
- 5) Tu as 2 bananes. Maman te donne encore 3 bananes. Tu as maintenant combien de bananes ?

DESSIN

Maman revient du marché avec un panier rempli de papayes bien mûres. Elle te demande de dessiner une d'entre elles avant que tu ne la reçoives. Dessine une papaye bien mûre.

PROBLEME

Maman revient du marché et elle te dit : quand j'allais au marché, j'avais 5 colliers. Au marché, j'ai acheté 3 colliers. Maman te demande de l'aider à trouver combien de colliers elle a en tout. Aide-la.

Maman a en tout colliers

CALCUL ECRIT

1) Lis et choisis ce qui est juste : 4 pts

23 = vingt-trois

30 = trente

45 = cinquante-quatre

60 = soixante

16 = seize

19 = dix-huit

2) Tu as deux amis. Ali et moussa

Ali est plus grand que moussa

Mets le signe qui convient sur le point (= ; < ; >)

Ali • Moussa

3) Calcule :

$$13 + 15$$

$$15 + \dots = 19$$

COMPOSITION N°4

JE SAIS ECRIRE LES MOTS (DICTEE)

Ton papa veut savoir si tu sais bien écrire.

Consigne : écoute et écris sans faute :

• lu-pi-dé-fou. Ina va à moto avec papa.

NB : un mot ou une syllabe mal écrit (e) enlève un point.

Exercices écrits de mathématiques

1) Colorie les lignes fermées (2pts)

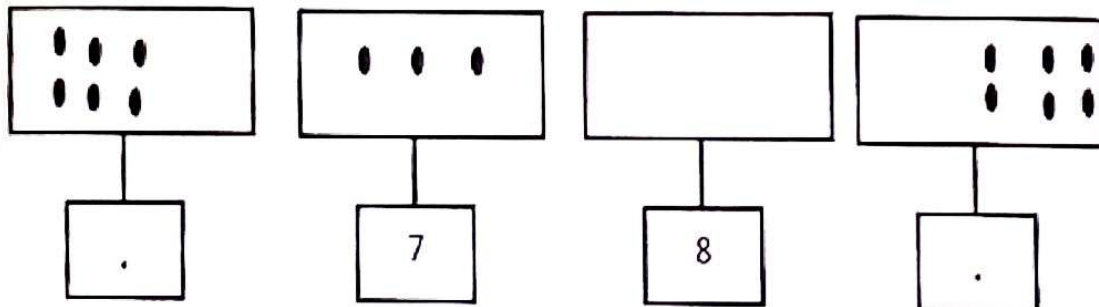


2) Ton ami a des difficultés à ranger les nombres suivants du plus petit au plus grand

5-7-2-8-3-0-4-9

Consigne : aide-le à les ranger (2pts)

3) Observe bien les étiquettes suivantes : il y a des dessins et des nombres qui manquent :

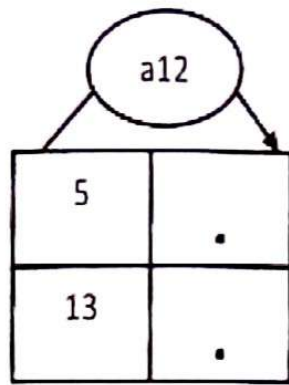


4) Un paquet de crayons de couleurs compte 12 crayons.

Consigne : écris le nombre total de crayons dans le tableau (2pts)

d	u

5) Complète le tableau suivant (2pts)



CALCUL MENTAL

Le maître pour donner des cadeaux à ses élèves, leur fait des jeux de calcul mental. Fais bien ces calculs pour mériter ces cadeaux

- 1) Le maître montre ses deux mains et dit : voici mes deux mains. Elles comptent combien de doigts ?
- 2) Quel nombre vient juste avant 9 ?
- 3) Douiti a 10 oranges. Combien de dizaine d'oranges a-t-il en tout ?
- 4) Ecris le nombre compris entre 5 et 7
- 5) Tu as 4 bonbons, ali t'ajoute 3 bonbons. Combien de bonbons as-tu en tout ?

NB: 2pts par réponse juste.

COPIE

Ta mère reçoit un message sur son portable. Elle le lit. Elle te demande de lui recopier ce message sur une feuille. Voici le message :

« ina porte une belle robe. Elle va à la fête avec papa. »

Recopie le message sans faire de faute

PROBLEME

Séna revient de la cueillette de papayes. Il a dans son sac 8 papayes mûres et 4 papayes vertes. Séna a des difficultés pour calculer le nombre total de papayes cueillies.

Séna a	8 papayes mûres
Il a	<u>. 4 papayes vertes</u>
Séna a en tout	.. papayes

NB : le signe + (5pts) la bonne réponse (5pts)

DESSIN Tu passes au CP2. Ta maman veut t'acheter un nouveau sac d'écolier pour l'année prochaine.

Consigne : dessine le sac que tu aimerais avoir.

COMPOSITION N°5

JE SAIS ECRIRE LES MOTS (DICTEE)

Fait bien la dictée suivante pour avoir une bonne note et monter en classe de CP2

Ta, ra, sa, une moto, la lune. Ama est malade

COPIE

René va à l'école. Il porte un sac au dos.

NB : un mot mal écrit enlève un point

CALCUL MENTAL

- 1) Le maître donne 3 coups sur la table puis 2 coups et demande d'écrire le nombre total de coups entendus
- 2) Ecris le nombre qui vient juste avant 10.
- 3) Dessine une ligne fermée et écris « a » dehors
- 4) Fatou ramasse 4 mangues le matin et 2 mangues le soir. Combien de mangues a-t-elle ramassées ?
- 5) Abalo a 18 billes ; il perd 8 billes . il reste combien de billes ?

DESSIN


Au championnat interscolaire, tu as vu ballon qui t'a beaucoup plu. Tu souhaites que papa te l'achète. Dessine ce ballon pour montrer à papa.

CALCUL ECRIT

- 1) Trace une ligne fermée écris « a » dedans et « i » dehors
- 2) Mets le signe qui convient (> ; < ; =)

3 . 5 ; 6 . 1

3) Complète

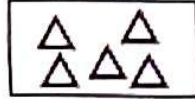


U dans la case en haut à droite
L dans la case en bas à gauche
E dans la case en haut à gauche
M dans la case en bas à droite

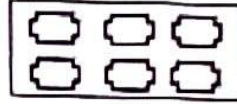
4) Relie par un trait chaque étiquette nombre à l'étiquette quantité correspondante



6



4



8



9

5) Calcule

$3 + 5 = \quad ;$

$5 + 4 =$

Napo a	7 mangues
Maman lui donne	<u>3 mangues</u>
Napo a en toutmangues

COMPOSITION N°6

JE SAIS ECRIRE LES MOTS (DICTEE)

Ali porte un joli boubou. Il va à la fête

NB : une faute enlève un point

DESSIN

Maman est revenue du marché avec un grand panier plein d'oranges bien mûres. Elle te demande d'en dessiner une sur ton cahier avant qu'elle ne t'en donne. Fais le dessin

COPIE

Fati va à l'école avec son petit frère sama

Consigne :

Recopie ce texte sans erreur afin d'avoir une bonne note.

CALCUL MENTAL


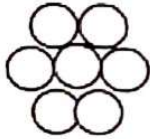
- 1) Afi a 4 mangues. Maman lui donne encore 2 mangues. Combien de mangues a-t-elle en tout ?
- 2) Le maître présente le cinq (5) doigts de sa main et demande aux élèves d'écrire le nombre de doigts qu'ils voient.
- 3) Tu as 7 bonbons. Tu donne 2 bonbons à ton ami. Combien de bonbons te reste-t-il ?
- 4) J'ai une dizaine de cahiers. J'ai en tout combien de cahiers
- 5) Ecris le nombre qui vient juste après 8

DESSIN

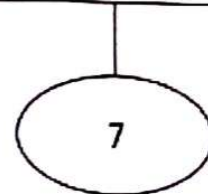
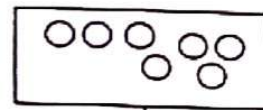
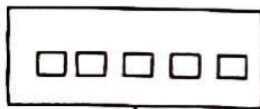
Dans la cuisine de ton ami tu as vu un canari qui t'a beaucoup plu. Tu désires que ta maman en achète aussi. Dessine ce canari et montre le à maman.

CALCUL ECRIT

- 1) Entoure le tas où il y a beaucoup de ronds



- 2) Complète



- 3) Complète en mettant le signe qui convient : > ; < ; =

$$5 \quad . \quad 9$$

$$2+2 \quad . \quad 3$$

- 4) Complète pour avoir 9 :

	9
.	+ 5
3	+ .

5) Dessine une ligne fermée. Ecris 2 dedans et « a » dehors

PROBLEME

Amana a	6 oranges
Maman lui donne encore	5 oranges
Amana a en tout	<u>. Oranges</u>

EXAMEN DE PASSAGE (UFEPLAT)

JE SAIS ECRIRE LES MOTS (DICTEE)

une route, la lune, une poule, Assi porte un joli boubou. Il va à la fête.

Calcul écrit

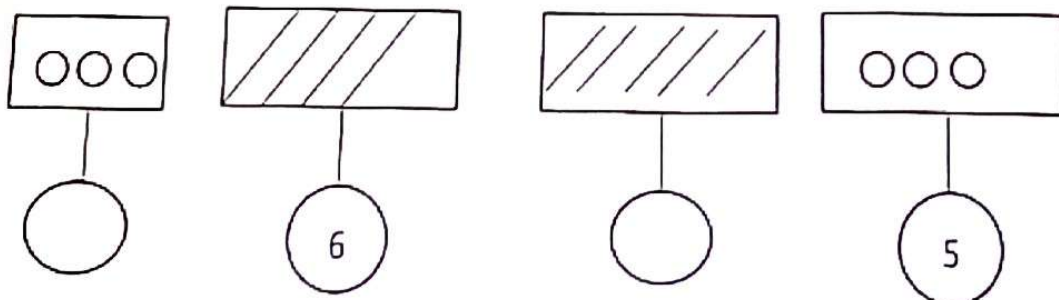
1) complète :

0, 1, ., 3, 4, ., ., 7, 8, ., 10

2) écris en lettre : 3, 1

écris en chiffre : deux, cinq.

3) complète :



4) Trace une ligne fermée, dessine 2 ronds dedans et 1 rond dehors.

5) Effectue : $3+2$; $2+1$

CALCUL MENTAL :

1) J'ai 3 billes, mon frère me donne encore 3 billes. J'ai en tout combien de billes ?

- 2) Montre 5 ardoises aux élèves et demande d'écrire le nombre.
3) Laré a cueilli 7 mangues ; il en mange 4. Combien de mangues lui reste-t-il ?
4) Entre 8 et 6, écris le plus grand nombre.
5) Mon père a 4 garçons et 2 filles. Combien d'enfants mon père a en tout ?

PROBLEME

aï a 6 bâtonnets
sa sœur lui ajoute 4 bâtonnets
aï a en tout • bâtonnets

DESSIN

Tu as vu une jolie télé chez Napo, tu veux que papa achète la même télé pour la famille. Dessine cette télé et montre-la à papa.

ANNEXE