

DRE-M EPREUVES ORALES CP1 AU CP2

JE SAIS PARLER

- 1) On demande à connaître ton nom. On te pose la question suivante : "Comment t'appelles-tu ?"
 - 2) Ton ami ne connaît pas le nom de ton père et il te pose la question "Comment s'appelle ton ?"
 - 3) Ton oncle veut savoir quelle classe tu fais en te posant cette question : " Tu es en quelle classe ?"
-

J'APPRENDS A LIRE

Montre à ton grand frère qui est au lycée que tu sais lire.

« maman vend des taros. rené est au repos. le rat a mangé le taro.

Consigne

Lis à haute voix cette phrase et réponds à la question : "Que vend maman ?"

Critères de notation

- L'élève a lu correctement les trois phrases. (7 pts)
- L'élève a lu deux phrases (5 pts)
- L'élève a lu quelques mots (2 pts)
- L'élève a lu une phrase (3 pts)

Il répond à la question : " Que vend maman ?"(3pts)

CHANT

Demande à l'élève de chanter une chanson apprise à l'école.

Critère de notation

- o Maîtrise du texte (6 pts)
 - o Respect du rythme (2 pts)
 - o Respect de la danse (2 pts)
-

DRE-M EPREUVES ORALES CP1 AU CP2

J'APPRENDS A DIRE

Récite-nous une belle récitation apprise en classe de ton choix.

Critères de notation

- o Maîtrise du texte (4 pts)
- o Expressivité orale (4 pts)
- o Expressivité gestuelle (2 pts)

DRE-M EXAMEN DE PASSAGE DU CP1 AU CP2 2023-2024

Calcul mental

- 1) Papa a 4 bonbons à partager entre ses deux enfants. Combien de bonbons chacun aura ?
- 2) J'ai 5 billes. Au cours du jeu je gagne encore 3 billes
Combien de billes ai-je en tout ?
- 3) Quel est le nombre qui vient juste après 9 ?
- 4) Maman me donne 7 bonbons pendant la récréation j'ai mangé 2 bonbons. Combien de bonbons me reste-il ?
- 5) Ecris le plus grand nombre parmi les nombres suivant 6 et 9

DRE-M EXAMEN DE PASSAGE DU CP1 AU CP2 2023-2024

J'apprends à écrire

moto, ina va à l'école, elle a un joli sac

Une faute enlève un point

DRE-M EXAMEN DE PASSAGE DU CP1 AU CP2 2023-2024

JE SAIS ECRIRE LES MOTS

papa, douti, ama a un vélo, ina va à l'école.

NB : Une faute enlève 1point.

DRE-M EXAMEN DE PASSAGE DU CP1 AU CP2 2023-2024

Art plastique

Tu passes au CP2. Ton père très content veut t'acheter un nouveau joli sac d'écolier pour l'année prochaine.
Dessine le joli sac neuf que tu aimerais avoir.

DRE-M EXAMEN DE PASSAGE DU CP1 AU CP2 2023-2024

NOM et PRENOMS :

EXERCICE ECRIT DE MATHEMATIQUES

- 1) Observe les cases et complète dans l'ordre du comptage 2pts


0		2		4		6		8	9	10
---	--	---	--	---	--	---	--	---	---	----

- 2) Colorie les cases suivantes avec les codes 2pts

(a, 2) (b, 3)

d				
c				
b				
a				
	1	2	3	4

- 3) maman ramène du marché des oranges que voici 2pts



Regroupe-les par dizaines puis complet le tableau

d	u

- 4) Complète en mettant le signe qui convient : >, <, = 2pts

$$5 \quad . \quad 9$$

$$2 + 2 \quad . \quad 3$$

- 5) Pose et calcule 2pts

$$3 + 5 = \quad ;$$

$$7 + 2 =$$

DRE-M EXAMEN DE PASSAGE DU CP1 AU CP2 2023-2024

PROBLEME

Napo a 6 mangues

Maman lui donne encore . 4 mangues

Napo a en tout . mangues

Maman te demande d'aider Napo à calculer le nombre de mangues qu'il a.


NB : le signe (+)équivaut à 3pts et la réponse 7pts

DRE-M EXAMEN DE PASSAGE DU CP1 AU CP2

ENGLISH

Answer the following questions:

1. What is your name? *z*
2. How old are you? *~*
3. Sing a song in English *~*
4. Show me:
 - a- your eyes *1*
 - b- your mouth *1*
5. Say the name of the fruits in the pictures:



1



1

DRE-M EXAMENS DE PASSAGE CP2 AU CE1 2023-2024

EPREUVES ORALES

JE SAIS PARLER

Dis en quelques phrases ce que tu fais pour réussir à ton examen de fin d'année pour passer du CP2 au CE1

Critères de notation

- Pertinence de la production (respect des consignes : point par élément de réponse) 4pts
- Cohérence de la langue (Les réponses sont conformes) 4pts
- Correction de la langue (les prononciations et la syntaxe sont correctes) 2pts

DRE-M EXAMENS DE PASSAGE CP2 AU CE1 2023-2024

EPREUVES ORALES

JE SAIS LIRE

Ton père veut savoir si tu as appris à bien lire cette année à l'école. Lis le texte suivant pour lui montrer que tu sais bien lire puis réponds aux questions :

Texte : Une belle maison

Ika habite une jolie maison. elle appartient à sa cousine. cette maison est entourée de rosiers. des pots de fleurs sont disposés sur le mur de la terrasse. dans le salon, se trouve un grand poste téléviseur.

Critères de notation :

- L'élève a lu correctement les quatre phrases (4pts)
- L'élève a réussi à lire trois phrases (3pts)
- L'élève a juste réussi à lire quelques mots (0,5 pt par mot ; 2pts au maximum pour tout le texte)

Question

A qui appartient la maison où habite Ika ? (1pt)

DRE-M EXAMENS DE PASSAGE CP2 au CE1 2022-2023

EPREUVES ORALES

JE SAIS DIRE

L'élève récite au choix un texte de *j'apprends à dire* étudié en classe.

Critères de notation :

- Maîtrise du texte (4 pts)
- Expressivité orale (4 pts)
- Expressivité gestuelle (2 pts)

DRE-M EXAMENS DE PASSAGE CP2 au CE1

EPREUVES ORALES

EDUCATION MUSICALE

L'élève exécute au choix un chant du répertoire de la classe.

NB : Le chant du terroir est encouragé

Critères de notation :

- Maîtrise du texte (4 pts)
- Expressivité orale (4 pts)
- Expressivité gestuelle (2 pts)

DRE-M EXAMEN DE PASSAGE DU CP2 AU CE1


ENGLISH

Answer the following questions:

1. What is your teacher's name?
2. Greet the teacher in the afternoon
3. Complete the sentence: When i eat, i use a
4. Show me:
a- your feet
b- your hair
c- your toes
5. Say the name of the classroom objects in the pictures:



shutterstock.com - 603798831



VectorStock

VectorStock.com/1602277

DRE-M EXAMEN DE PASSAGE DU CP2 AU CE1 2023-2024

JE SAIS ECRIRE LES MOTS (Dictée)

Ton amie veut savoir si tu sais bien écrire les mots. Elle te demande d'écrire ce texte, écoute bien et écris ce texte.
La mère de Afo porte un casque et une jolie robe. Elle va en promenade à moto au bord du lac.

DRE-M EXAMEN DE PASSAGE DU CP2 AU CE1 2023-2024

PROBLÈME

Maman t'envoie avec une pièce de 100f. Avec cet argent, tu achètes 50f de tomates et 25f de piment. Combien as-tu dépensé ? Combien ramènes-tu à maman ?

Consigne : travaille ici et trouve les réponses demandées.

Solutions

J'ai dépensé..... =

J'ai dans ma poche..... =

Résultats

Opérations

Critères de notation :

Chaque opération égale à 5points dont 2points pour l'opération bien posée et 3 points pour la réponse juste.

DRE-M EXAMEN DE PASSAGE DU CP2 AU CE1 2023-2024

CALCUL MENTAL

- 1- Combien de billes faut-il ajouter à 4 billes pour avoir une dizaine de billes ?
- 2- Un libraire a vendu 15 livres le matin et 10 le soir. Combien de livres a-t-il vendu en tout ?
- 3- Tété a 11 ans, son frère a le double de son âge. Quel est l'âge de son frère ?
- 4- Dans une classe de CP2, il y a 35 élèves. Aujourd'hui, 5 sont absents. Combien d'élèves sont présents ?
- 5- Tu possèdes une pièce de 10f, maman te donne encore une pièce de 50f. Quelle somme possèdes-tu en tout ?

DRE-M EXAMEN DE PASSAGE DU CP2 AU CE1 2023-2024

JE SAIS ECRIRE (copie)

Prouve à ton père que tu t'appliques bien en classe en recopiant le texte suivant :

C'est la fête au village. Les villageois ont tué un gros taureau. Ils se servent de couteaux pour découper l'animal en morceaux.

NB : Copier le texte en cursive sur une portée au tableau.

Respect du corps des lettres 5 points.

Écriture sur la ligne et sans faute 5 points

DRE-M EXAMEN DE PASSAGE DU CP2 AU CE1 2023-2024

ÉDUCATION ARTISTIQUE (DESSIN)

Ton papa a promis t'acheter un gros ballon. Dessine ce ballon.

CALCUL ÉCRIT

Nom et prénoms.....Numéro de table.....

- 1- Après la leçon sur les nombres, ton maître veut savoir si tu maîtrises l'écriture des nombres en chiffres et en lettres. Prouve à ton maître que tu sais écrire les nombres en chiffres et en lettres, écris donc :
- a- En lettres : 80 (1pt)
- b- En chiffres : quatre-vingt-dix-neuf (1pt)

- 2- Voici les points obtenus par les cinq premiers élèves d'une classe à la suite d'une composition. ($\frac{1}{2}$ pt x 4)

élèves	mensan	tété	afi	koko	adjélé
notes	49	70	60	69	58
rangs		1 ^{er}			

Écris les rangs des autres élèves dans les cases restantes.

- 3- Le maître vous a appris à comparer les nombres en utilisant les signes $<$, $>$ et $=$ ($\frac{1}{2}$ pt x 4)
 Pour être sûr que vous avez compris la leçon, il vous demande d'écrire les nombres en utilisant les signes qui conviennent :

28 . 28 54 . 45 ; 23 . 21+2 ; 14 . 41

- 4- Ton grand frère veut vérifier si tu peux poser et effectuer les opérations.
 Prouve-lui en posant et en effectuant les opérations suivantes : (1pt x2)

43 - 32 ; 56 + 25

- 5- Après avoir observé le quadrillage ci-dessous, ton maître te demande de dessiner un bâtonnet dans la case (2 ; c) puis un rond dans la case (5 ; b). Dessine le bâtonnet et le rond. (1pt x 2)

d					
c					
b					
a					
	1	2	3	4	5

DRE-M EXAMEN DE PASSAGE DU CE1 AU CE2 (2023-2024)

Je sais écrire les mots (dictée)

Laré est un enfant poli. Chaque jour, il va à l'école à l'heure. Il salue le maître et balaie la classe. Avant de partir à midi, il dit au revoir à ses camarades.

Questions

- 1-) Recopie le GNS de la première phrase de la dictée. (2pts)
- 2-) Il y a combien de phrases dans la dictée. (2pts)
- 3) Où va Laré chaque jour ? (2pts)
- 4) Laré est un enfant poli. Vrai ou faux ? (2pts)
- 5) « Laré est un enfant poli ». Ecris cette phrase au futur simple de l'indicatif. (2pts)

DRE-M EXAMEN DE PASSAGE DU CE1 AU CE2 (2023-2024)

CALCUL MENTAL

- 1) Anani a 24 ans. Abdou en a la moitié. Quel est l'âge d'Abdou ? (2pts)
- 2) Combien de pièces de 25F y a-t-il dans 100F ? (2pts)
- 3) Dans une classe, il y a 30 filles et 20 garçons. Quel est le nombre d'élèves dans cette classe ? (2pts)
- 4) Maman a 500F. Elle dépense 200F. Combien lui reste-t-il ? (2pts)
- 5) Quel est le nombre qui vient juste après 99 ? (2pts)

DRE-M EXAMEN DE PASSAGE DU CE1 AU CE2 (2023-2024)

EDUCATION SOCIALE

- 1) Complète : Mon école s'appelle, elle se trouve dans la préfecture de.....
- 2) Choisis la bonne réponse : la devise du Togo est :
 - a) Discipline-Travail-Réussite
 - b) Travail-Liberté-Patrie
 - c) Victoire-Succès-Travail
- 3) Ton petit frère te demande de lui donner le nom de notre pays, c'est le.....
- 4) Ta mère voit sur ton cahier « CE1 » et te demande ce que cela veut dire. Définis CE1
- 5) Tu es en voiture avec ton père, le feu rouge s'allume. Que doit faire le chauffeur

DRE-M EXAMEN DE PASSAGE DU CE1 AU CE2 (2023-2024)

JE PRODUIS UN TEXTE

- 1)- Ta petite sœur a fait tomber les étiquettes mots de l'étagère. Aide là à reconstituer ces étiquettes pour avoir une phrase correcte : Les assiettes - je - chaque - lave - matin
- 2)- Démontre à papa que tu peux transformer en phrase interrogative la phrase suivante : René est malade
- 3)- Construis des phrases avec les expressions suivantes pour prouver à ton maître que tu les maîtrises : à côté de, pendant
- 4)- Complète
 - a) Cette année je suis au
 - b) l'année prochaine je serai au
- 5)- complète la phrase suivante pour dire à ton camarade de banc ce que tu fais chaque matin avant de venir à l'école :
- Chaque matin je

DRE-M EXAMEN DE PASSAGE DU CE1 AU CE2 (2023-2024)

EXERCICES ECRITS DE CALCUL

- 1)- Ton petit frère a des difficultés à reconnaître la place des nombres. Il te demande de l'aider à ranger les nombres suivant du plus petit au plus grand :

126 - 96 - 200 - 88 - 130


- 2)- Aide ton camarade de classe à écrire :

a- sept cent douze en chiffre

b- 1000 en lettre

- 3)- Ton école a un jardin de forme rectangulaire de 206 m de longueur sur 124 m de largeur. Le jardinier veut planter du teck sur le demi-périmètre. Aide-le à calculer ce demi périmètre.

- 4)- Prouve à maman que tu connais les figures géométriques en reproduisant la figure qui a 3 cotés puis écris son nom :



- 5)- Certains de tes camarades ont des difficultés à poser et à effectuer les opérations suivantes. Aide-les :

a) $145+72$; b) 43×2

DRE-M EXAMEN DE PASSAGE DU CE1 AU CE2 (2023-2024)

PROBLEME

Afi va au marché avec un billet de 1000F. Elle achète du riz pour 500F et des tomates pour 250F.

Consignes :

Calcule sa dépense totale.

Combien lui reste t-il ?

DRE-M EXAMEN DE PASSAGE DU CE1 AU CE2 (2023-2024)

SCIENCES ET TECHNOLOGIE

1) Voici une liste de maladies : le choléra, le paludisme, le tétanos, la teigne, la rougeole, la méningite. Ton maître te demande de relever : (2pts)

a- une maladie parasitaire

b- une maladie microbienne

2-) Dans ton village, beaucoup de personne tombent malade du paludisme.

Complète la phrase suivante pour dire ce que tu fais pour éviter cette maladie :

Pour éviter le paludisme, je dors sous une (2pts)

3) Un samedi, tu as accompagné ta mère dans son jardin potager. Cite deux plantes cultivées dans ce jardin (1pt)

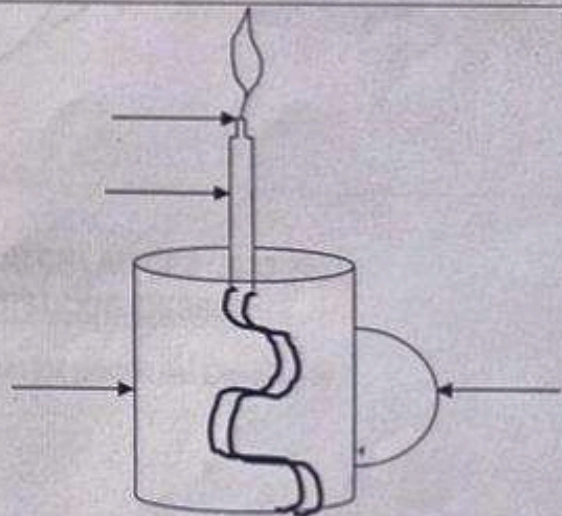
4) Voici la liste de quelques fruits : avocat, mangue, orange, goyave.

Classe-les dans le tableau suivant. (2pts)

Les fruits à pépins	Les fruits à noyau

6) a- Reproduis et complète le schéma que voici (2pts) :

b- Quel est le nom de ce schéma ? (1pt)



DRE-M EXAMEN DE PASSAGE DU CE1 AU CE2 (2023-2024)
SCIENCES HUMAINES

1- Pour montrer à ton maître que tu connais bien ta leçon sur le peuplement du Togo, complète la phrase suivante : (1pt x 2)

..... et..... sont les peuples venus de l'Est.

2- Complète la phrase suivante : le Togo a eu son indépendance le..... (2pts)

3- Choisis la bonne réponse : (2pts)

a) Gustav Nachtigal a inventé l'imprimerie.

b) Jean Gutenberg a inventé l'imprimerie.

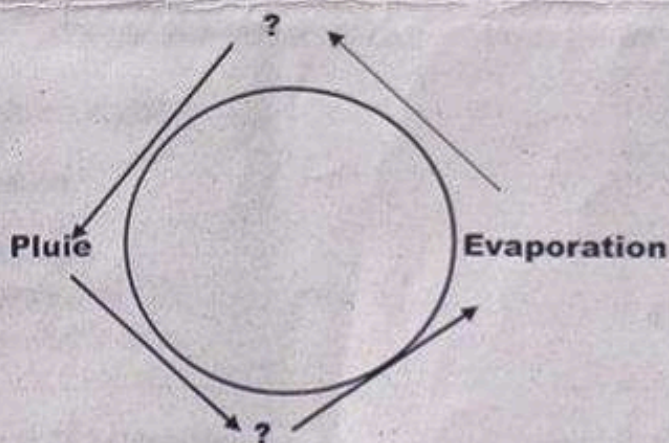
4- Relie par une flèche (2pts)

Girouette ● ● quantité de pluie tombée

Thermomètre ● ● Direction du vent

Pluviomètre ● ● température d'un corps

5- Complète le schéma du cycle de l'eau en mettant les flèches. (2pts)



DRE-M EXAMEN DE PASSAGE DU CE1 AU CE2 (2023-2024)
EDUCATION ARTISTIQUE (DESSIN)

C'est la saison des pluies. Ton père veut t'acheter un joli parapluie. Dessine-le.

NB: Dessin: 7pts.

Couleurs : 3pts

DRE-M EXAMEN DE PASSAGE DU CE2 AU CM1 (2023-2024)

JE SAIS ÉCRIRE LES MOTS

DICTÉE : La maison de mon père

Mon père habite le village avec toute sa famille. Il cultive la terre. Il vit dans une maison qui n'est pas comme celle de mon oncle en ville. Elle se compose de six cases rondes.

QUESTIONS

- 1- a) Combien de cases comprend la maison de mon père ? (1pt)
b) Quel travail fait mon père ? (1pt)
- 2- Trouve un mot de même famille que cultive et emploi-le dans une phrase. (2pts)
- 3- **Mon père habite le village.** Transforme cette phrase en phrase interrogative. (2pts)
- 4- Ecris la dernière phrase de la dictée au futur simple. (2pts)
- 5- Relève dans la dictée un GN singulier et un GN pluriel. (2pts)

NB : Une faute enlève ½ point

DRE-M EXAMEN DE PASSAGE DU CE2 AU CM1 (2023-2024)

CALCUL MENTAL

1. Un magasin de forme carré a 10 m de côté. Trouve son périmètre.
2. Une classe de CE2 compte 35 garçons et 21 filles. Quel est l'effectif de cette classe ?
3. Pour la fête de fin d'année, Essénam achète une robe à 4500 F et donne un billet de 5000 F. Combien doit-on lui rendre ?
4. Pour son anniversaire, Koffi distribue 25 bonbons à chacun de ses 4 amis. Combien de bonbon a-t-il donné en tout ?
- 1- Sabine a 15 ans. Sa mère en a le triple. Trouve l'âge de la mère de sabine.

NB : chaque N° = 2 pts

DRE-M EXAMEN DE PASSAGE DU CE2 AU CM1 (2023-2024)

ÉDUCATION SOCIALE

- 1- Tu as étudié cette année en classe les droits et devoirs d'un enfant. Cite :
 - a) deux droits de l'enfant ; (1pt)
 - b) deux devoirs de l'enfant envers les parents. (1pt)
- 2- Ton papa a vu dans ton cahier d'éducation sociale le titre « protection de l'environnement » (2pts)
Cite deux activités que tu dois faire pour maintenir l'environnement propre.
- 3- Quel est le titre de l'hymne national du Togo ? (2pts)
- 4- Il existe plusieurs fêtes traditionnelles au Togo. Cites-en deux. (2pts)
- 5- Un cycliste est devant un feu tricolore et le feu rouge s'allume. Que doit-il faire ? (2pts)

DRE-M EXAMEN DE PASSAGE DU CE2 AU CM1 (2023-2024)

JE PRODUIS UN TEXTE

1. Tu veux savoir si ta maman est revenue de son voyage. Pose la question à ta sœur en employant bien l'expression suivante « Est-ce que » 2pts
2. Démontre à ton grand frère du collège que tu sais bien employer « on et ont » en complétant les phrases suivantes : 2pts
 - Nina et Tété Joué au ballon.
 - Ce soir, est allé au marché.
3. Ton camarade fait une phrase affirmative et te demande de la transformer en phrase négative. Transforme alors en phrase négative la phrase de ton camarade qui suit : « Ika aime l'avocat » 2pts
4. Ton maître te demande de présenter ta famille à tes camarades. Présente la famille en répondant aux questions suivantes :
 - Quels sont les membres de ta famille ? 1pt
 - Tu as combien de frères et sœurs ? 0,5pt
 - Que faites-vous à la maison ? 0,5pt
5. Bientôt les vacances ! où comptes-tu les passer et chez qui ? Que penses-tu faire pendant cette période ? 2pts

DRE-M EXAMEN DE PASSAGE DU CE2 AU CM1 (2023-2024)

EXERCICES ÉCRITS DE CALCUL

- 1- a) Ecris en lettres : 4678 (2pts)
b) Ecris en chiffres : Mille sept cent vingt (2pts)
- 2- Le ministère des loisirs a organisé des soirées récréatives dans 5 localités. Le nombre de spectateurs mobilisés dans chacune des soirées est le suivant : 1120 ; 1650 ; 1900 ; 1545 ; 1300. Range ces nombres du plus grand au plus petit. (4pts)
- 3- Ton maître veut savoir si tu sais calculer le périmètre et le côté du carré. Pour cela, il te donne le tableau suivant. Complète-le. (4pts)

Côté du carré	10 m	.
Périmètre du carré	.	48

- 4- Complète :
 - a) 28 dm = . cm (2pts)
 - b) 7 m = . mm (2pts)
- 5- Sur un quadrillage, place les points suivants : A (5 ; 3) B (8 ; 2) C (3 ; 2).
 - a- Joins ces points dans l'ordre ABC. (2pts)
 - b- Quelle figure obtiens-tu ? (2pts)

DRE-M EXAMEN DE PASSAGE DU CE2 AU CM1 (2023-2024)

PROBLEME

La mairie de ta commune a construit un bâtiment pour le jardin d'enfants sur un domaine qui a 40m de longueur et 10 m de largeur. Pour peindre le bâtiment, les parents d'élèves ont acheté le sceau de peinture à 9500F et payé 3500F au peintre.

1- Combien les parents d'élèves ont-ils dépensé pour peindre le bâtiment ? 4pts

Les parents d'élèves te demandent de les aider à trouver le périmètre du domaine afin de le clôturer pour protéger les enfants

2- Calcule le périmètre du domaine pour les aider. 6pts

DRE-M EXAMEN DE PASSAGE DU CE2 AU CM1 (2023-2024)

SCIENCES ET TECHNOLOGIE

1) La saison des pluies est marquée par la multiplication des moustiques qui nous transmettent une maladie.

a) De quelle maladie s'agit-il ? (1pt)

b) Que doit-on faire pour l'éviter ? (1pt)

2) La pompe de votre localité est tombée en panne depuis une semaine. Tout le village est obligé d'aller chercher de l'eau à la rivière. Propose deux moyens pour rendre cette eau potable avant son utilisation. (2pts)

3) En classe, vous avez étudié les combustibles. Classe les éléments suivants dans le tableau ci-dessous : le pétrole, le gaz butane, le charbon de bois, l'essence. (1,5pts)

Combustible solide	Combustible liquide	Combustible gazeux

4) Complète la phrase suivante :

En cas de fracture, il faut immobiliser la partie blessée avec deset conduire la victime à/au..... (2pts)

5) Fais le schéma de la coupe d'un œuf avec ses différentes parties. (2,5pts)

DRE-M EXAMEN DE PASSAGE DU CE2 AU CM1 (2023-2024)

SCIENCES HUMAINES

- 1- Complète : Mon école se trouve dans la région..... Son chef-lieu est..... (2pts)
- 2- Ton camarade de classe te demande de l'aider à relier par une flèche chaque roi à son peuple. Aide-le à le faire. (2pts)

Kotokro

Folly Bèbé

Na Biéma Bonsafo

Agokoli

Les Ewé

Les Tchokossi

Les Guin

Les Kotokoli

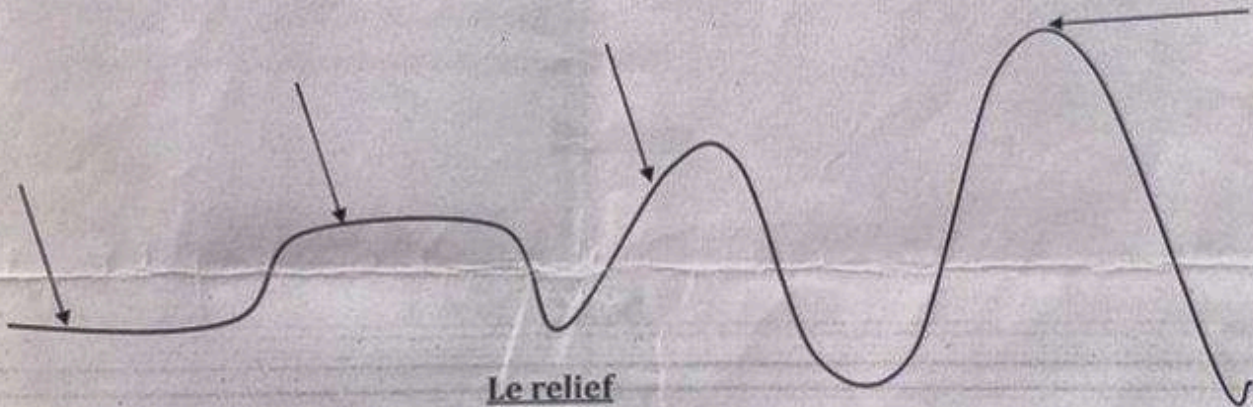
- 3- Complète la phrase suivante :

La terre tourne sur elle-même en C'est la (2pts)

- 4- Dans la liste suivante ; la girouette, la boussole, le pluviomètre et le thermomètre ;

- a) Relève l'instrument qui sert à mesurer la température.
- b) Relève l'instrument qui sert à indiquer la direction du vent. (2pts)

- 5- Complète le schéma ci-dessous : (2pts)



DRE-M EXAMEN DE PASSAGE DU CE2 AU CM1 (2023-2024)

EDUCATION ARTISTIQUE

Ton papa utilise des outils pour travailler dans son champ. Dessine un de ces outils et donne son nom.

ETUDE DE TEXTE : Le berger menteur

Moussa, un berger qui gardait son troupeau de moutons décida de jouer un tour aux autres bergers qui eux aussi, gardaient leurs moutons non loin de là. La panthère ! La panthère ! Cria-t-il de toutes ses forces. Les bergers accoururent armés de lances. Mais, ils ne virent pas de panthère. Moussa, en riant, leur dit : « elle s'est enfuie ! La panthère s'est enfuie ! ». Il répéta plusieurs fois cette mise en scène mais quelques jours plus tard une vraie panthère sortit de la forêt et se jeta sur ses moutons. Moussa se mit à crier de nouveau mais personne ne vint. Et la panthère tua plusieurs moutons et emporta un.

QUESTIONS**I/ J'utilise des mots nouveaux**

- 1) Trouve un homonyme de « fois » et utilise-le dans une phrase (2pts)
- 2) « Les bergers accoururent ». Réécris cette phrase en remplaçant « accoururent » par un verbe qui dit la même chose (1pt)
- 3) Choisis la bonne réponse : un berger c'est : (1pt)
 - a) Celui qui enseigne
 - b) Celui qui travaille au champ
 - c) *Celui qui conduit un troupeau d'animaux*
- 4) Trouve le contraire de : « plus tard » et emploie-le dans une phrase. (2pts)

II/ Je manipule les phrases

- 1) « Quelques jours plus tard, une vraie panthère sortit de la forêt ». Réécris cette phrase de deux manières différentes. (2pts)
- 2) « Il répéta plusieurs fois cette mise en scène ». Réécris cette phrase en remplaçant le GN(COD) par un pronom personnel qui convient. (2pts)
- 3) « La panthère tua plusieurs moutons ». Recopie cette phrase en mettant le verbe au présent, au futur simple et au passé composé de l'indicatif. (3pts)
- 4) Relève dans le texte une phrase exclamative. (1pt)

III/ Je comprends le texte

- 1) Pourquoi personne n'est venue quand Moussa crie une seconde fois ? (2pts)
- 2) Quels sont les personnages du texte ? (2pts)
- 3) Quelle leçon de morale tires-tu de ce récit ? (2pts)

JE SAIS ECRIRE LES MOTS : La tornade

fait beau. Le soleil brille. La chaleur devient peu à peu lourde. A l'horizon, un gros nuage noir apparaît. Des roulements de tonnerre se font entendre. C'est la tornade qui arrive. Les hommes et les animaux cherchent des abris.

Questions

1) Choisis la bonne réponse (2pts)

« Les animaux cherchent des abris » veut dire :

-Les animaux se rassemblent.

-Les animaux cherchent une cachette.

-Les animaux broutent l'herbe.

2) Trouve le contraire de « lourde ». (2pts)

3) Réécris d'une autre manière la phrase suivante : « A l'horizon, un gros nuage noir apparaît ». (2pts)

4) Donne la structure de la dernière phrase du texte. (2pts)

5) « La tornade arrive ». Ecris cette phrase à l'imparfait et au passé composé de l'indicatif. (2pts)

DRE-M EXAMEN DE PASSAGE DU CM1 AU CM2 2023-2024

CALCUL MENTAL

1) Un commerçant achète 11 boutons à 75F l'un. Combien va-t-il dépenser ?

2) J'ai quitté la maison à 6h 35min. J'arrive à l'école à 7h 00min. Quelle est la durée de mon parcours ?

3) Kodzo a 1500F mais il veut acheter une montre qui coûte 3500F. Combien son père doit lui ajouter pour qu'il puisse acheter cette montre ?

4) Maman veut échanger un billet de 2000F contre des pièces de 100F. Combien de pièces de 100F lui donnera-t-on ?

5) Une classe de CM1 compte 39 filles et 16 garçons. Quel est l'effectif de cette classe ?

NB : chaque numéro = 2pts

EDUCATION SOCIALE

1. Ton frère veut savoir si tu apprends tes leçons d'éducation sociale en te demandant de citer les éléments qui constituent un Etat. Cite-les (2pts)
2. Reproduis ce tableau puis complète en marquant l'organe de l'ONU qui prend en compte chaque domaine : (2pts)

Domaine	Organe de l'ONU
La santé	
Les élèves	
Les réfugiés	
La faim	

3. Un matin tu as constaté que le drapeau est hissé à mi hauteur.
- a) Dans ce cas que dit-on ? (1pt)
- b) Pourquoi le fait-on ? (1pt)
4. Apprécie les comportements suivants par bon ou mauvais en mettant une croix dans les cases correspondantes (2,5pts)

Comportement	Bon	Mauvais
Allumer des feux de brousses		
Planter des arbres		
Aider ses parents		
Refuser d'apprendre ses leçons		
Bien chanter l'hymne national		

5. Les véhicules suivants sont arrivés à un passage à niveau ; une ambulance actionnant une sirène, un camion de transport commun et un train.
- Classe-les selon l'ordre de priorité. (1,5pts)

DRE-M EXAMEN DE PASSAGE DU CM1 AU CM2 2023-2024

PROBLEME

Pour la construction d'une boutique à ta mère le maçon a fait à ton père un devis de :

- 800 paquets de ciment à 4000 F le paquet, (2pts)
- 2 camions de sable à 35000 F le voyage, (2pts)
- 40 barres de fer de huit à 1400F l'unité, (2pts)
- 25 brouettes de gravier à 2000F la brouette, (2pts)

La main-d'œuvre s'élève à 75000F.

Par des calculs que tu as bien maîtrisés en classe avec ton maître, dis à ton père le montant total qu'il doit débloquer pour ce travail d'élévation des murs. (2pts)

DRE-M EXAMENS DE PASSAGE DU CM1 AU CM2 2023-2024

EXERCICES DE CALCUL ECRIT CM1 AU CM2

- 1)- Papa gagne 58900F par mois. Après les différentes dépenses du mois, il a pu économiser 12500F.
Quel est le montant de ses dépenses dans le mois ? (4pts)
- 2)- Ecris : (4pts)
 - a) - en lettres : 865500 ;
 - b) - en chiffres : Vingt-cinq mille quatre cent deux.
- 3)- Un train est formé de 7 wagons de 12m de longueur et d'une locomotive de 14m tous espacés de 90cm.
Quelle est la longueur totale de ce train ? (4pts)
- 4)- Reproduis le quadrillage en respectant les carreaux de ta feuille. Marque les points :
(5,11) ; (1,8) ; (2,8) ; (2,2) ; (8,2) ; (8,8) ; (9,8). Joins ces points par des segments et dans l'ordre.
Quel dessin obtiens-tu ? (4pts)
- 5)- Convertis en semaines : 14 jours ; 357 jours ; 70 jours ; 85 jours (4pts)

DRE-M EXAMEN DE PASSAGE DU CM1 AU CM2 2023-2024

SCIENCES HUMAINES (HISTOIRE & GEOGRAPHIE)

- 5) 1) Cite deux produits vivriers et deux produits industriels cultivés au Togo. (2pts)
- 6) 2) Quel est le fleuve du Togo qui se jette dans la mer ? Donne sa longueur. (2pts)
- 7) 3) Dans l'histoire du Togo, donne la date des événements suivants :
 - a- la signature du traité de protectorat. (1pt)
 - b- l'autonomie du Togo (1pt)
- 8) 4) Relie par une flèche chaque royaume à son roi : (2pts)

Royaume des Ewé .	. Na Biéma
Royaume des Tchokossi . .	. Folly Bébé
	. Agokoli
- 5) 5) Sur une carte du Togo, place :
 - les deux grands vents qui balaient le Togo. (1pt)
 - le plus haut sommet. (1pt)

DRE-M EXAMEN DE PASSAGE DU CM1 AU CM2 2023-2024

REDACTION

C'est le week-end. Dis ce que tu fais avant la reprise des cours le lundi.

EXAMEN DE PASSAGE DU CM1 AU CM2 2023-2024

SCIENCES ET TECHNOLOGIES

- 6- Dans la chambre de ta grand-mère il y a beaucoup de moustiques. (2pts)
- a) Dis-lui la maladie qu'elle risque d'attraper.
 - b) Montre-lui ce qu'elle doit faire pour éviter cette maladie.
- 7- Ton maître te demande répondre par vrai ou faux aux affirmations suivantes : (2pts)
- a) Le cœur est l'organe principal de la respiration.
 - b) Les reins sont les organes épurateurs du sang.
 - c) Un homme adulte a 32 dents.
 - d) Une eau non potable peut transmettre le paludisme.
- 8- On te demande de relever parmi les outils suivants ceux qui sont des outils-leviers : la montre, la brouette, le thermomètre, les ciseaux. (1pt)
- 9- Ton petit frère du CE2 veut savoir à quoi servent les instruments suivants : le thermomètre, la girouette, l'anémomètre et la balance. (2pts)
- 10- Fais le croquis annoté de l'appareil respiratoire de l'homme. (3pts)