

TD N° 2 : LE MONDE BIPOLAIRE, AFFRONTEMENT ENTRE L'EST ET L'OUEST

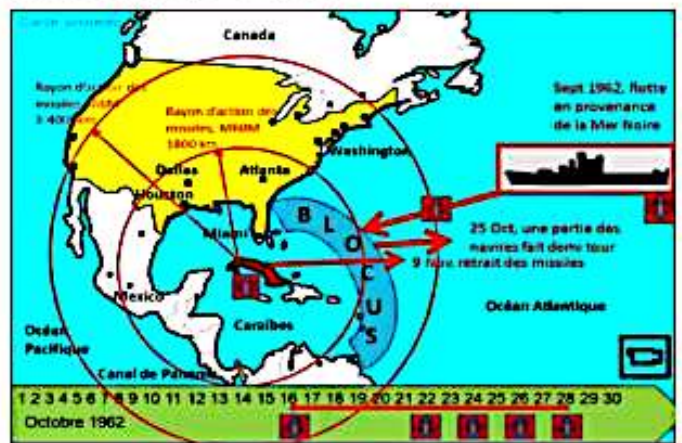
- Définis la guerre froide.
- Quelles sont les causes de la guerre froide ?
- Qu'est-ce que la doctrine Truman ? Qu'est-ce que le plan Marshall ?
- Quel est le but du plan Marshall ? Quelles sont les conséquences économiques et politiques du plan Marshall ?
- Quelle fut la riposte soviétique du plan Marshall ?
- Quant parle-t-on de soviétisation de l'Europe ?
- On considère le tableau synoptique ci-contre. Complète-le.
- Quel est le nom donné à la ligne de démarcation entre l'Est et l'Ouest ?
- Quand et comment est apparu cette ligne ?
- Suivant les régimes politiques, comment appelait-on les pays de l'Est et les pays de l'Ouest ?
- Parmi les pays de l'Est, deux Etats n'avaient pas totalement adhéré au stalinisme. Lesquels ?

Blocs	Bloc occidental	Bloc soviétique
Organisation politique		
Organisation économique		
Organisation militaire		

- Caractérisez les deux modes de vies opposés sur le plan économique et politique.
- Pourquoi l'URSS et ses satellites ont refusé le plan Marshall ?
- Quelles sont les conséquences du refus du plan Marshall par les soviétiques ?
- Qu'est-ce que le rideau de fer ? De qui est cette expression ?
- En quoi consiste le blocus de Berlin ? Qu'est-ce que le pont aérien ?
- Quelle différence y a-t-il entre pont aérien et couloir aérien ?
- Donne le titre de cette première carte et propose une légende pour la rendre lisible.
- En quoi la guerre de Corée est une belle illustration de la guerre froide ?
- Au lendemain de la guerre de Corée on observe une baisse de tension dans les relations internationales. Comment désigne-t-on cette période ?
- Définit la coexistence pacifique. Précises ses causes et ses manifestations. Pourquoi parle-t-on des limites du dégel ?
- Qu'est-ce que la détente ? Donner les causes de la détente.
- Elle a permis d'avoir des consensus entre les deux superpuissances. Enumérez-en quelques-unes.
- Proposez un titre au document 1 ci-contre et situez-le dans son contexte historique général et précis.



- Donne un titre à cette deuxième carte. Fais la légende afin de faciliter sa lecture et analyse-la.
- Quel est l'enjeu principal de la crise de Suez ? Comment cette crise de Suez fut-elle résolue ?
- Lors de la résolution de cette crise, les USA ont adopté le même point de vue que l'URSS, contre ses alliés Français, Anglais et Israéliens, pour la première fois au cours de la guerre froide. Expliquez cela.
- Pourquoi appelle-t-on la crise de Cuba, crise de fusées ?
- Quelle attitude adopte le président des USA, Kennedy, suite à la découverte à Cuba des rampes de missiles ?
- Après avoir défini la détente, présentes ses facteurs et ses différentes facettes.
- Après l'attaque de la Corée du nord, l'URSS a boycotté la réunion extraordinaire du conseil de sécurité à cet effet. Comment expliques-tu cette position ?



- Le monde bipolaire a pris fin en quelle année ? relève les éléments qui caractérisent la fin de la bipolarisation du monde.
- Analyse les causes économiques de l'effondrement du bloc de l'Est.
- Explique en quoi la perestroïka et la glasnost ont fragilisé le système soviétique.
- Montre que la chute du mur de Berlin symbolise la fin de la bipolarité.
- Explique le processus de dislocation de l'URSS.
- Analyse les caractéristiques du monde unipolaire dominé par les États-Unis.
- Analyse le rôle de la dissuasion nucléaire dans le règlement de la crise.
- Pourquoi peut-on dire que la crise de Cuba a fait prendre conscience du danger nucléaire mondial ?

TD N ° 4 : LES FACTEURS DE LA DECOLONISATION DE L'AFRIQUE

1. Que renfermes les concepts suivants : nationalisme, panafricanisme, colonisation, décolonisation ?
2. Enumère les facteurs internes et externes de la décolonisation en Afrique.
3. Explique pourquoi ont dit que la colonisation porte en elle-même les germes de sa destruction.
4. Quand parle-t-on de la contradiction de la colonisation ?
5. Relève les causes économiques, politiques, sociales et culturelles de la décolonisation.
6. Présente la position des deux grands face à la colonisation. Comment expliques-tu leur position ?
7. Cite les partis politiques, les organisations syndicales et les associations d'étudiants ayant lutté pour l'autodétermination en Afrique.
8. Cite les grandes conférences qui ont été organisées par les panafricanistes.
9. Quelle a été l'influence des grandes conférences dans la lutte d'indépendance en Afrique ?
10. La conférence de Bandung : contexte, enjeux, lieux, décisions importantes et impact sur la décolonisation en Afrique.
11. Accra est citée comme une référence dans le processus d'autodétermination en Afrique à cause des conférences qu'elle a abritées pendant la lutte d'indépendance. Situe le cadre temporel des conférences d'Accra et précise leur apport à la lutte d'autodétermination en Afrique.
12. Quelle a été la contribution des églises chrétiennes à la lutte d'indépendance ?
13. Quelle a été la contribution de l'islam à la lutte d'indépendance ?
14. Comment expliques-tu la position anticolonialiste des deux superpuissances USA et URSS ?
15. Enumère les principaux mouvements politiques qui ont animé les luttes d'indépendance.
16. En Afrique plusieurs partis politiques ont contribué à cette lutte. Cite quelques-uns.
17. Présente les syndicats et les groupes étudiants qui ont animé la vie politique en Afrique pendant les luttes d'indépendance.
18. Quels sont les rôles des mouvements nationalistes et les conséquences des luttes d'émancipation ?
19. Présente brièvement les différents acteurs de la lutte d'autodétermination.
20. Quelles sont les principales raisons économiques qui ont poussé à la décolonisation en Afrique ?
21. Comment la Seconde Guerre mondiale a-t-elle influencé le processus de décolonisation en Afrique ?
22. Quel rôle les nationalistes africains ont-ils joué dans la lutte pour l'indépendance ?
23. Comment l'émergence de l'ONU a-t-elle contribué à la décolonisation en Afrique ?
24. En quoi l'exemple de l'indépendance de l'Inde a-t-il influencé les mouvements de décolonisation en Afrique ?
25. Quel rôle les revendications des peuples africains ont-elles joué dans la décolonisation ?
26. Pourquoi les puissances coloniales européennes ont-elles commencé à céder face aux demandes d'indépendance des colonies africaines ?
27. Quel rôle la guerre froide a-t-elle joué dans le processus de décolonisation en Afrique ?
28. Quels étaient les impacts du mouvement panafricain sur la décolonisation de l'Afrique ?
29. Comment les changements politiques en Europe ont-ils contribué à la décolonisation en Afrique ?
30. Quelle différence existe-t-il entre les acteurs institutionnels et les acteurs non institutionnels ?
31. Précise le rôle de chacun des deux acteurs.
32. Présente les conséquences des luttes d'émancipation en Afrique.
33. Relie par des flèches les éléments de la colonne A à ceux de la colonne B.

A
La perte de prestige des Européens
Les pressions sur les puissances coloniales
UGTAN
Egalité et justice

B
ONU
Acteur institutionnel
Conséquence des luttes anticoloniales
Eglise, Islam

34. Relève les lettres inscrites dans les pointillés et écrit les mots ou groupe de mots qui correspondent devant elles.
La décolonisation en ...a... est le résultat d'un ensemble complexe de ...b..., dont les luttes des nationalistes africains, les changements géopolitiques mondiaux, la pression ...c.... et les difficultés économiques des puissances coloniales. Chaque cause a contribué à mettre fin à l'ère coloniale, entraînant la ...d.... de nouveaux États africains indépendants. Le système colonial, basé sure.... et la domination, a provoqué des contradictions internes dans les empiresf.... L'injustice, la discrimination raciale et le non-respect des ...g.. ont alimenté lah.... des peuples colonisés et ont poussé de plus en plus de personnes à revendiqueri....
35. Analyse les différentes formes de lutte utilisées par les mouvements nationalistes africains.
36. Explique pourquoi certaines luttes ont été violentes tandis que d'autres ont été pacifiques.
37. Montre le rôle spécifique des femmes dans les luttes anticoloniales africaines.
38. Analyse les conséquences politiques de la décolonisation de l'Afrique.
39. Explique comment la décolonisation a conduit à l'émergence du Tiers Monde.
40. Montre que les superpuissances ont soutenu la décolonisation par intérêt plus que par conviction.
41. Explique en quoi l'islam a constitué un facteur de mobilisation contre la domination coloniale.
42. Montre que l'anticolonialisme de l'URSS est à la fois idéologique, politique et économique.

TD N° 5 : LA DECOLONISATION AU TOGO

1. Situe la naissance de la vie politique au Togo.
2. A quand remonte la naissance du nationalisme togolais ?
3. Explique la stratégie mise en place par la France pour étouffer ce nationalisme togolais, considéré comme précoce.
4. A la naissance de la vie politique au Togo, les partis politiques ont été créés suivant deux obédiences. Citez les différents partis politiques nationalistes qui ont animé la vie politique au Togo de 1946 aux indépendances ainsi que deux de leurs leaders. Quelle était la pomme de discorde entre les partis progressistes et partis nationalistes ?
5. A côté de ces deux catégories, il y avait un parti charnière. Donne sa définition et son objectif après l'avoir identifié.
6. Quel a été le rôle de ces partis politiques à la lutte d'indépendance.
7. Qui étaient les puissances coloniales qui ont occupé le Togo et à quelle période ?
8. Qui sont les figures clés du mouvement nationaliste togolais ?
9. Quelles relations ont existé entre le Togo indépendant et la France après l'indépendance ?
10. Qui sont les principaux acteurs de la lutte d'indépendance au Togo ?
11. Les partis politiques du Togo qui ont contribué à l'indépendance sont classés en deux catégories. Lesquelles ?
12. Du CAF au CUT, enjeux et conséquences.
13. Nomme le premier Premier Ministre du Togo et le premier Président de l'Assemblée représentative du Togo. Donne le nom de leurs partis politiques d'appartenance.
14. On considère carte ci-contre. Propose-en un titre et analyse-la. Quelle est la notion que véhicule cette carte ? Nomme le parti politique porteur de cette notion.
15. Explique pourquoi on dit que le Togo n'a pas été une colonie de la France
16. Le Togo sous administration coloniale a connu deux statuts. Explique cette situation clairement.
17. Quel a été le rôle de l'église dans la lutte d'indépendance au Togo ?
18. Après avoir citer quelques organes de presses qui ont contribué à la décolonisation au Togo, précise leur rôle brièvement.
19. Les syndicats aussi ont joué un rôle important. Précise-le.
20. Montre la place de la femme dans la lutte d'indépendance au Togo ?
21. Quel est le rôle joué par l'ONU dans la lutte d'autodétermination au Togo ?
22. Expliquer pourquoi l'ONU est intervenu au Togo durant les luttes d'indépendance.
23. Quelles sont les réformes engagées par la France en Afrique et au Togo dans le processus d'autodétermination.
24. Quelles sont les retombées des réformes de la conférence de Brazzaville au Togo ?
25. Quelles sont les retombées des réformes de l'union française au Togo ? Quelles sont les retombées des réformes de la loi cadre au Togo ? De quand à quand le Togo été une RAT ?
26. Qu'est-ce que la loi Gaston déferé ? donne son contenu
27. Quels étaient les enjeux des élections du 27 avril 1958 ?
28. On considère les drapeaux suivants : situe-les chacun dans son contexte historique général et précis.
29. Le Togo a été un territoire sous mandat de la SDN administré par la France de 1920 à 1946 puis territoire sous tutelle de l'ONU administré toujours par la France de 1946 à 1960. Ce statut donnait des obligations à la France, puissance mandataire et tutélaire. Cites-en deux. Ce statut offrait également au Togolais quelques avantages. Cites-en deux.
30. Pourquoi les nationalistes ont décidé de boycotter les élections au Togo entre 1951 et 1958 ?
31. Pourquoi ont-ils décidé de mettre fin à ce boycott et ont pris part aux élections du 27 avril 1958.
32. Quels étaient les enjeux des élections 27 avril 1958 ?
33. Décris le processus d'organisation des élections du 27 avril 1958. Qui sont les vainqueurs de cette élection ?
34. Après la Victoire des nationalistes aux élections du 27 Avril 1958, plus rien ne s'opposait politiquement à la proclamation de l'indépendance. Pourtant Olympio s'est donné deux ans supplémentaires. Pensez-vous que S. Olympio par ce supplément de deux ans pour la proclamation de l'indépendance avait donné raison « à tous ceux qui soutenaient que l'accession à l'indépendance est une œuvre de patience, de dialogue et de préparation ? »
35. Dans la lutte pour l'indépendance au Togo, l'ONU a joué un rôle déterminant : donner deux actions menées par cet organisme.
36. Considéré comme le prote flambeau de la lutte d'indépendance, Sylvanus Olympio a été l'objet de menées subversives orchestrées par l'administration française. Cite deux situations qui le prouvent.
37. Après la proclamation de l'indépendance, Sylvanus Olympio devient président sans être élu par voix électorale. Comment l'expliques-tu ?



TD N° 1 : L'ORGANISATION DES NATIONS UNIES (ONU) : NAISSANCE, FONCTIONNEMENT, BILAN ET PERSPECTIVES

1. Décrivez le contexte de la naissance de l'ONU.
2. Quels sont les objectifs de l'ONU ? Quels sont les principes de l'ONU ?
3. Quels sont les organes qui composent la structure de l'ONU ?
4. On considère les documents ci-après. Commentez chacun d'entre eux en précisant : le titre, la définition de son sigle, le siège, le sens que véhicule son contenu, la mission.



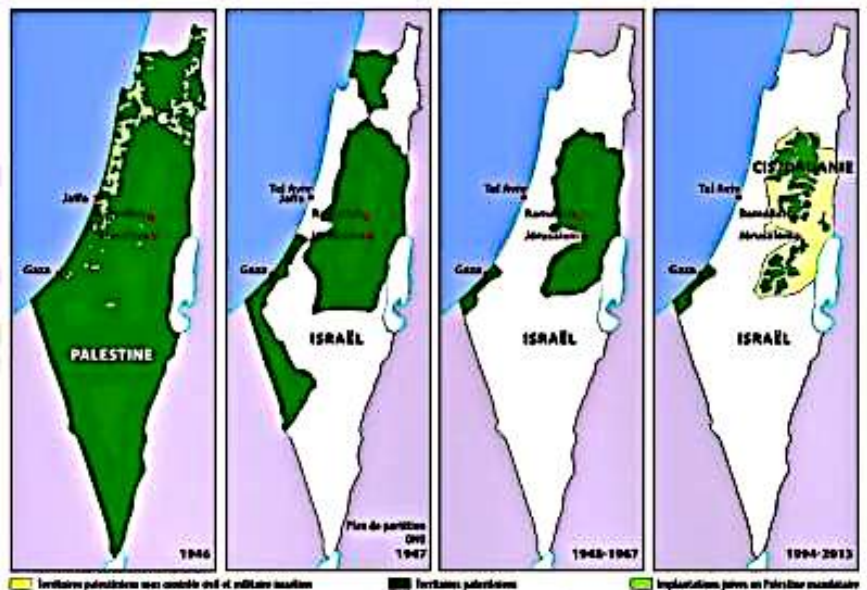
5. Explique pourquoi l'échec de la SDN a influencé la structure et le fonctionnement de l'ONU.
6. Montre en quoi la Seconde Guerre mondiale a rendu indispensable la création d'une nouvelle organisation internationale.
7. Analyse l'importance de la Charte de l'Atlantique dans la genèse de l'ONU.
8. Pourquoi peut-on dire que la conférence de San Francisco marque véritablement la naissance juridique de l'ONU ?
9. Explique le lien entre le droit des peuples à disposer d'eux-mêmes et la politique de décolonisation soutenue par l'ONU.
10. Analyse les objectifs de l'ONU et montre en quoi ils sont complémentaires.
11. Explique pourquoi les principes de souveraineté et de non-ingérence peuvent parfois limiter l'action de l'ONU.
12. Montre que le Conseil de sécurité est à la fois l'organe le plus puissant et le plus critiqué de l'ONU.
13. En quoi le droit de veto peut-il être considéré comme un facteur de blocage du maintien de la paix mondiale ?
14. Explique pourquoi le Conseil de tutelle est devenu un organe obsolète.
15. Présente le fonctionnement général de l'ONU en mettant en évidence le rôle de ses organes principaux.
16. À l'aide d'exemples précis, montre que l'ONU a contribué à la résolution de certains conflits internationaux.
17. Analyse les causes structurelles des limites de l'ONU.
18. Explique le rôle des institutions spécialisées dans l'amélioration des conditions de vie des populations.
19. Montre en quoi l'action de l'ONU dans le domaine environnemental est à la fois nécessaire et insuffisante.
20. Explique la différence entre paix négative et paix positive.
21. Montre que la non-violence est un outil efficace de prévention des conflits.
22. Analyse la phrase : « La paix n'est pas un mot, mais un comportement » à la lumière des valeurs promues par l'ONU.
23. Propose des actions concrètes que les jeunes peuvent mener pour promouvoir la culture de la paix dans leur milieu.
24. Explique pourquoi la promotion des droits de l'homme est indispensable à une paix durable.
25. Pourquoi l'Afrique revendique-t-elle un siège permanent au Conseil de sécurité ?
26. En quoi les conflits contemporains (terrorisme, cybercriminalité, changement climatique) constituent-ils de nouveaux défis pour l'ONU ?
27. Propose des réformes réalistes pour améliorer l'efficacité de l'ONU.
28. Selon toi, l'Assemblée générale devrait-elle avoir plus de pouvoir que le Conseil de sécurité ? Justifie.
29. De quelle manière la prépondérance des grandes puissances est-elle assurée ? explique cette prépondérance.
30. A partir quatre exemples datant de ces dix dernières années dites ce que font les Nations-Unies pour décourager les candidats à la menace de la paix et à la violation des droits humanitaires.
31. Après avoir défini le désarmement, dites si le rôle de l'ONU dans ce domaine est efficace ?
32. Dressez le bilan de l'action de l'ONU depuis sa création dans le domaine de sa mission essentielle.
33. Comment justifiez-vous les dysfonctionnements que connaît l'ONU ?
34. Malgré la présence de l'ONU, l'insécurité prévaut toujours en ce XXIe siècle. Après avoir montré les échecs de l'ONU en Afrique, vous direz ce qui empêche cette organisation d'accomplir pleinement ses tâches.
35. A l'aide de quelques exemples, montrer que le rôle de l'ONU est paralysé par les intérêts des grandes puissances.
36. Les pays africains réclament leur place au sein du conseil de sécurité de l'ONU avec droit de veto. Quels arguments avancent-ils ? Pour un bon fonctionnement de l'ONU, que proposes-tu ?
37. Que penses-tu de ce passage : « L'ONU n'est pas créée pour amener le monde au paradis, mais pour le sauver de l'enfer ».

TD N ° 3 : LE MONDE DE 1991 A NOS JOURS

- Après avoir pris le pouvoir en union soviétique, Mikael Gorbatchev avait entrepris une grande réforme de l'Union. Quel nom donne-t-on à cette politique de réforme ? Quels sont les conséquences engendrées par cette réforme ?
- Décris la situation économique de l'URSS qui à amener Gorbatchev à faire des réformes.
- Dans un paragraphe constitué d'événements précis et datés, montrez que les relations américano-soviétiques de 1947-1975 sont en dents de scies.
- Définis les termes suivants : Pérestroïka, Glasnost, Solidamosc.
- Comment s'est manifestée la domination des USA après son triomphe sur les soviétiques ?
- Donne les éléments caractéristiques de l'hégémonie américaine sur le monde après la dislocation du bloc soviétique.
- D'où les USA tirent leur surnom de « gendarme du monde » ?
- Les USA sont-ils toujours les « gendarmes du monde » ? justifie la réponse.
- Donne le contenu du discours de la Baule. Qui en était l'auteur ? pourquoi la considère-t-on comme une aide conditionnée ? Explique l'impact de ce discours sur le processus de démocratisation en Afrique.
- Montrer que les conséquences de cette dislocation du bloc de l'Est ont touché l'Afrique.
- Explique comment le processus de démocratisations s'est opéré en Afrique.
- En Afrique, l'organisation des conférences nationales a été un canal pour l'instauration de la démocratie. Donne le rôle joué par ces conférences dans le processus de démocratisation en Afrique.
- L'espoir suscité par l'avènement de la démocratie a vite laissé la place à un désespoir. Enumère les éléments qui matérialisent ce désespoir. Comment l'expliques-tu ?
- Situe le cadre temporel de l'organisation de la conférence nationale souveraine du Togo et du Bénin
- La région du golfe persique est minée par une pléiade de crises. Enumère-les ?

- Le conflit israélo-palestinien. Un conflit religieux ? territorial ? économique ? stratégique ?
- Quels sont les enjeux du problème Kurde ?
- Quels sont les pays touchés par le problème kurde ? Qu'entend-on par Kurdistan ?
- Qui sont les principaux belligérants du conflit israélo-palestinien ?
- On considère la carte ci-contre. Donne son titre et situe-la dans son contexte historique général et précis.
- Fais une analyse et un commentaire sur l'évolution du conflit israélo-palestinien.
- Quels sont les facteurs et/ou causes qui font perdurer cette crise ?
- Quelles sont les causes les conséquences de la guerre israélo-palestinienne ? que proposes-tu pour mettre fin à ce conflit ?

ÉVOLUTION DE LA PALESTINE DEPUIS 1946



- Depuis le 24 février 2022, la Russie a envahi l'un des anciens pays du bloc soviétique. De quel pays s'agit-il ? Donne deux conséquences économiques et politiques de cette guerre. Quel lien fais-tu entre cette guerre et les relations russo-américaines ?
- A l'aide de quelques exemples, montre que l'hégémonie américaine est contestée.
- Le printemps arabe : Définition, causes, manifestation et conséquences.
- Définis le concept « extrémisme violent » et donne les facteurs qui le favorisent.
- Décris les caractéristiques de la multipolarité actuelle du monde et donne les pays émergents qui l'incarnent.
- Relie par des flèches les éléments de la colonne A à ceux de la colonne B.

A
Exode massif des palestiniens
CNS du Togo
Montée en puissance de la Russie
Hégémonie américaine

B
Réveil de la guerre froide
Domination du capitalisme
Du 8 juillet au 28 août 1991
Problème territorial

TD N° 12 : ETUDE D'UN PAYS EMERGENT_L'AFRIQUE DU SUD

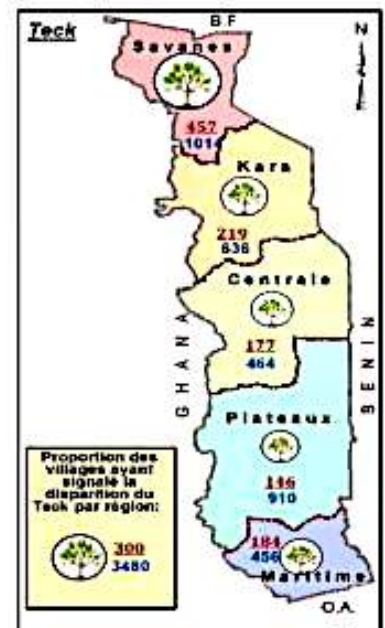
1. Où se situe l'Afrique du Sud sur le continent africain ? (Indique la région).
2. Quelle est la superficie de l'Afrique du Sud ? Comment se classe-t-elle en termes de taille parmi les pays africains ?
3. Cite les pays limitrophes de l'Afrique du Sud au nord et à l'est.
4. Quels océans bordent l'Afrique du Sud à l'ouest et au sud-est ?
5. Quelle est la capitale administrative de l'Afrique du Sud ?
6. Quelle était l'estimation de la population sud-africaine en 2024 ? Comment est caractérisée cette population sur le plan racial ?
7. Combien de langues officielles sont reconnues en Afrique du Sud ? Cite quelques exemples de langues germaniques et bantoues parlées.
8. Quel rang économique occupe l'Afrique du Sud en Afrique et dans le monde en 2024 ?
9. À quels groupes économiques importants l'Afrique du Sud appartient-elle ?
10. Quelle est la monnaie officielle de l'Afrique du Sud ?
11. De manière générale, quels sont les principaux domaines qui ont contribué à l'émergence économique de l'Afrique du Sud ?
12. Quel système politique a précédé le système démocratique actuel en Afrique du Sud ?
13. Quelle année a marqué l'adoption de la nouvelle constitution sud-africaine ?
14. Décris la stabilité de la démocratie en Afrique du Sud.
15. Quelle est l'importance d'avoir des institutions fortes, stables et respectées pour le développement d'un pays ?
16. Qu'est-ce que la démocratisation du régime a impliqué en Afrique du Sud ?
17. Explique le principe de participation citoyenne en Afrique du Sud. Quel événement en est une illustration ?
18. Comment le pouvoir politique est-il organisé au niveau territorial en Afrique du Sud ?
19. Comment se positionne l'Afrique du Sud en matière d'intégration des infrastructures sur le continent africain ?
20. Donne des chiffres clés illustrant l'importance du réseau ferroviaire et routier en Afrique du Sud, en comparaison avec le reste du continent et du monde.
21. Combien d'aéroports compte le pays ?
22. Cite quelques-uns des principaux ports maritimes commerciaux d'Afrique du Sud.
23. Cite le nom de la stratégie économique mise en place pour réduire le déficit budgétaire et encourager l'investissement privé. Quels étaient ses objectifs principaux ?
24. Quel est le nom du plan visant à accélérer la croissance économique et à lutter contre la pauvreté et le chômage en Afrique du Sud ?
25. Comment l'Afrique du Sud a-t-elle favorisé le développement social pour soutenir son émergence économique ?
26. Quel rôle l'investissement public dans l'enseignement supérieur a-t-il joué ?
27. Cite des exemples d'infrastructures sociales dans lesquelles l'Afrique du Sud a investi. Quel est le but de ces investissements ?
28. Qu'est-ce que la réforme agraire ? Quels sont ses trois principaux aspects ? Quel fut son objectif principal ?
29. Seul pays africain membre du G20 et des BRICS, quelle position cela confère-t-il à l'Afrique du Sud sur le continent ?
30. Dans quels domaines économiques l'Afrique du Sud se positionne-t-elle comme le premier du continent, selon le tableau ?
31. Donne des exemples concrets de la production agricole et de l'exploitation minière qui placent l'Afrique du Sud au premier rang africain.
32. Quelle est la position de l'Afrique du Sud en termes d'importations et d'exportations au sein de l'Union Africaine ?
33. Comment se situe l'Afrique du Sud dans le domaine de l'éducation supérieure en Afrique ? Cite des indicateurs clés.
34. Mentionne des exemples de pôles d'innovation présents en Afrique du Sud.
35. Malgré sa position de première puissance économique africaine, quels sont les défis ou les limites que rencontre le modèle d'émergence de l'Afrique du Sud ?
36. Cite des exemples de réformes qui n'ont pas complètement atteint leurs objectifs en termes de réduction des inégalités.
37. Quel est le taux de chômage en Afrique du Sud en 2023 et 2024 ? Comment ce taux affecte-t-il différemment les groupes raciaux ?
38. Quel est le niveau de pauvreté en Afrique du Sud en 2023 ? Quel groupe de population est le plus touché ?
39. Quels autres problèmes persistent en Afrique du Sud malgré son développement économique ?
40. Comment a évolué la part de l'industrie manufacturière dans l'économie sud-africaine entre 1990 et 2023 ? Qu'est-ce que cela peut indiquer ?
41. Comment la répartition des richesses nationales est-elle caractérisée en Afrique du Sud ? Quelles en sont les conséquences ?
42. Quelles sont les deux formes de dépendance économique mentionnées comme limites au modèle sud-africain ?
43. Expliquez le rôle des universités et pôles d'innovation dans le rayonnement du pays.
44. Montrez que l'Afrique du Sud est une puissance régionale incontournable.

TD N° 7 : DES POTENTIALITES AUX PROBLEMES DU DEVELOPPEMENT DE L'ECONOMIE TOGOLAISE

1. Quels sont les différents éléments du milieu naturel que vous avez étudié au cours ?
2. Monte l'utilité de l'hydrographie, le relief, le climat, la végétation pour l'économie du Togo.
3. Caractérise les différents types de climat au Togo et montrer leur importance sur l'agriculture.
4. Qu'est-ce qu'un microclimat ? cite les zones de microclimat au Togo.
5. Qu'entes-tu par dividende démographique ? comment peut-elle contribuer au développement économique du pays ?
6. Le Togo compte beaucoup sur son secteur industriel pour amorcer son décollage économique. Enumère les ressources énergétiques, minières, halieutiques dont dispose le pays pour ce secteur.
7. La population togolaise est en nette croissance et est extrêmement jeune. Est-elle un atout ou un inconvénient ? A quel type de pyramide, correspond la population togolaise ? Après avoir schématisé cette pyramide, fais-en un commentaire.
8. Montre que cette population possède des avantages sur le plan agricole, commerciale, socio-culturel et artisanal.
9. Après avoir décrit l'organisation du secteur commercial au Togo relève ses insuffisances.
10. Cite deux sites touristiques célèbres au Togo et indique les préfectures dans lesquelles on les retrouve.
11. Causes et conséquences des anomalies pluviométriques du Bas-Togo.
12. On considère le Doc 1. Trace la courbe en mettant les années en abscisse et le nombre de touristes en ordonnée. Prendre pour échelle 1cm pour 50 000 touristes.
13. Commente la courbe obtenue et le tableau en insistant sur les causes qui expliquent la chute de l'activité touristique entre 1990 et 1997.
14. Précise la place du tourisme dans l'économie togolaise.
15. Après avoir dégagé le problème qu'évoque le doc 2, commentez-le.
16. Quelles sont selon vous, les causes de ce fléau ?
17. Donnez les conséquences qui peuvent en découler et proposer en quelques approches de solutions.
18. Malgré l'énormité de ses potentialités, le Togo peine toujours à faire décoller son économie. Identifie-les nommément.
19. Identifie les autres problèmes environnementaux qui freinent l'essor de l'économie togolaise.
20. La pollution environnementale et la dégradation du des terres
21. Explique en quoi les problèmes institutionnels et de bonne gouvernance constituent un frein au développement économique du Togo.
22. Problèmes énergétiques sont fréquents au Togo. Explique comme ils se posent concrètement.
23. « La route du développement passe par la route ». Montre avec quelques exemples que ce passage n'est pas encore traduit dans la réalité au Togo.
24. L'économie togolaise est proie à l'énorme difficulté sur le plan financier. Dit en quels termes ces problèmes se posent.
25. La Banque togolaise pour le Développement (BTD) et la Banque togolaise pour le commerce et l'industrie (BTCl) sont des structures bancaires du Togo qui ont été privatisées. Explique les causes et les conséquences d'une telle situation.
26. Quels sont les contraintes techniques qui freinent le développement de l'agriculture et l'industrie togolaise ?
27. Quel lien fais-tu entre l'essor économique et les problèmes socio-culturels ?
28. L'économie togolaise est commercialement limitée. Explique cette situation.
29. Certaines analystes estiment que l'industrie togolaise à l'instar de celle de tous les pays africains es « financièrement bloquée, technologiquement dépendante et commercialement limitée ».
30. Relève les problèmes qui font obstacles à l'essor dans le domaine du tourisme, des TIC et de l'éducation-formation.
31. Montrez en quoi la diversité du relief togolais constitue à la fois un atout et une contrainte pour le développement économique.
32. Expliquez pourquoi on peut affirmer que les sols togolais sont un facteur de diversification agricole.
33. Analysez l'influence du climat togolais sur l'organisation spatiale des activités économiques.
34. Montrez comment la végétation joue un rôle à la fois écologique, économique et social au Togo.
35. Justifiez l'affirmation selon laquelle l'hydrographie togolaise est insuffisamment exploitée.
36. Évaluez l'importance des ressources halieutiques dans la sécurité alimentaire du pays.
37. Expliquez pourquoi la dépendance énergétique du Togo constitue un frein au développement.

Doc 1 : Evolution du tourisme au Togo

Année	Nbre de touristes	Recettes
1980	91 920	3 924 900 000
1985	135 730	6 500 000 000
1990	132 000	6 000 000 000
1993	32 000	1 000 000 000
1997	100 000	1 000 000 000
2009	2260	3. 000 000 000

Doc 2 : répartition des villages ayant signalé la disparition du

TD N° 6 : L'EVOLUTION DU TOGO DE 1960 A 2005

1. Montre que la période de 1958 à 1960 a été une étape décisive dans l'affirmation de l'Etat nation togolaise
2. Qui a proclamé solennellement l'indépendance du Togo ?
3. Décris les principales caractéristiques du régime de Sylvanus Olympio.
4. Comment le régime de Sylvanus Olympio a-t-il répondu aux défis économiques et sociaux du Togo après l'indépendance ?
5. Quelles réformes politiques et économiques a-t-il mises en place ?
6. Quelle a été la cause et l'impact du coup d'État de janvier 1963 qui a renversé Sylvanus Olympio ?
7. Qui est Eyadéma Gnassingbé ? Eyadéma Gnassingbé est arrivé au pouvoir le 14 avril 1967 après avoir mis fin aux fonctions de son prédécesseur Kleber Dadjo. Que lui reprochait-il ?
8. En quoi l'armée a-t-elle influencé la politique intérieure du Togo, particulièrement après le coup d'État de 1963 ? Comment Gnassingbé Eyadéma a-t-il accédé au pouvoir en 1967, et quelles ont été les premières actions de son régime ?
9. Quels ont été les principaux défis politiques, sociaux et économiques rencontrés par le Togo sous le régime de Gnassingbé Eyadéma ?
10. Compare le coup d'Etat du 13 janvier 1963 à celui du 13 janvier 1967.
11. L'une des préoccupations majeures du régime Eyadéma était la question de la réconciliation nationale. Enumérer, les différentes initiatives qu'il a mises sur pied afin de résoudre cette question.
12. Quelles réformes politiques ont été proposées dans les années 1990 pour introduire plus de démocratie et de liberté politique au Togo ?
13. Après avoir présenté brièvement Kleber Dadjo, dites pourquoi la politique de réconciliation des Togolais qu'il était censé conduire n'a pas abouti.
14. Le 5 octobre 1990, pour la première fois depuis sa prise de pouvoir, le régime (paisible et stable) d'Eyadéma faisait face à un soulèvement populaire. Citer deux causes (politiques, économiques et sociales) de la perte de popularité d'Eyadéma auprès des Togolais. Quelles étaient les principales préoccupations des contestataires ?
15. Cite trois facteurs exogènes ayant stimulé la révolte populaire du 5 octobre 1990.
16. Quelles sont les retombées des contestations populaires du 5 octobre 1990 ?
17. La Conférence Nationale Souveraine (CNS) au Togo : causes, acteurs et portée.
18. Pourquoi certains estiment-ils que la Conférence nationale souveraine fut un raté ?
19. Depuis son indépendance, les Togolais ont toujours fait face aux défis d'union et de réconciliation nationale. Relève les différents cadres (institutions) mis sur pieds pour la réconciliation des Togolais.
20. Donne les raisons qui expliquent l'échec de la réconciliation nationale du régime Nicolas Grunitzky ?
21. Qui est Nicolas Grunitzky ? En quoi ont consisté les contradictions du bicéphalisme politique au Togo sous Nicolas Grunitzky ?
22. Identifie les principaux partis politiques qui ont animé la vie politique du Togo entre 1960 et 2005.
23. Entre 1960 et 2005, le Togo a connu différentes Républiques. Identifie-les et précise le cadre temporel de chacune.
24. Définis les termes suivants : CRRHT HCRROUN, CVJR, CRN, CNS, JUVENTO, PUT, CDPA, RPT, régime monopartite, régime multipartite, régime à parti unique, le bicéphalisme politique.
25. Quelle a été l'importance de l'Accord de Lomé (1998) dans la gestion de la crise politique ?
26. Qui est le premier ministre de la transition ? quelle est la mission qu'on lui a confiée. A-t-il atteint sa mission ? justifie-toi.
27. Qu'est-ce qu'une nation ? énumère les fondements d'une nation. Le Togo est-il une nation ? si oui justifie la réponse. Si non quels sont les défis auxquels il doit faire face afin de devenir une nation.
28. Complète les Tableaux ci-après.

Différentes constitutions	Date d'adoption par référendum	Date de promulgation par décret	Date de fin, et cause de la fin de chaque république
Constitution de la 1 ^{ère} République			
Constitution de la 2 ^{ème} République			
Constitution de la 3 ^{ème} République			
Constitution de la 4 ^{ème} République			

Parti politique	Definitions	Date de création	Acteurs majeurs
CUT			
PTP			
MPT			
UCPN			
RPT			
UFC			
CAR			
UTD			
CFN			

TD N° 11 : UN MODELE DE DEVELOPPEMENT ECONOMIQUE LA COREE DU SUD

1. Où se situe géographiquement la Corée du Sud ? Quels sont ses pays et mers limitrophes ?
2. Quelle est la superficie de la Corée du Sud ? Quelle est sa capitale ?
3. Quel rang mondial la Corée du Sud occupe-t-elle en termes de développement économique en 2024 ? Que cela signifie-t-il ?
4. **II. Les Fondements de la Puissance Économique :**
5. Quelle est la base de la nouvelle constitution adoptée en 1988 en Corée du Sud ?
6. Comment les pouvoirs sont-ils organisés au sein du gouvernement sud-coréen ?
7. Qu'est-ce que cela implique d'avoir des institutions républicaines stables et fortes pour un pays ?
8. Quel changement politique majeur la Corée du Sud a-t-elle connu en 1988 ?
9. Quelle est la durée du mandat présidentiel en Corée du Sud ? Est-il renouvelable ?
10. Décrivez brièvement le système politique actuel de la Corée du Sud.
11. Qu'est-ce que la "croissance verte" adoptée par la Corée du Sud ? Pourquoi est-ce important ?
12. Quelle est la loi anti-corruption mentionnée dans le texte ? Quand a-t-elle été adoptée ?
13. Quand la Corée du Sud a-t-elle rétabli ses relations diplomatiques avec le Japon ? Pourquoi cela a-t-il pu être important pour son développement ?
14. Quel rôle les États-Unis ont-ils joué dans le développement de la Corée du Sud depuis la Guerre Froide ?
15. Comment sont les infrastructures en Corée du Sud ? Qui participe à leur financement et exploitation ?
16. Cite un exemple concret d'infrastructure importante construite en Corée du Sud. Quand a-t-elle été construite ?
17. Décrivez brièvement les trois phases de la réforme économique menée par la Corée du Sud.
18. Cite quelques exemples de puissants groupes industriels sud-coréens mentionnés dans le texte.
19. Qu'est-ce que le libre-échange ou le libre marché ? Comment cela a-t-il pu bénéficier à la Corée du Sud ?
20. Quelle importance la Corée du Sud accorde-t-elle aux nouvelles technologies ?
21. Prenant l'exemple de la Corée du Sud, montre comment un vaste marché de consommation de produits locaux peut-il être un atout économique ?
22. Quelle est la politique monétaire mise en place par la Corée du Sud pour favoriser son développement ?
23. Quel rôle l'éducation et la formation de haut niveau ont-elles joué dans le développement de la Corée du Sud ?
24. Quelles sont les caractéristiques de l'investissement de l'État dans l'éducation ?
25. Décrivez le "sens aigu des obligations" dans la culture sud-coréenne. Comment cela peut-il influencer la société ?
26. Quel est le taux de chômage en Corée du Sud en 2023 ? Qu'est-ce que cela indique sur son économie ?
27. Quelle est l'influence du modèle culturel axé sur la tradition confucéenne ?
28. Comment le Japon a-t-il pu servir de modèle économique pour la Corée du Sud ?
29. Quel est le classement mondial de la Corée du Sud en termes de performance éducative ?
30. Quel pourcentage des jeunes ont suivi une formation supérieure ? Quel est son taux d'alphabétisation ?
31. Comment les technologies numériques sont-elles intégrées dans le système éducatif sud-coréen ?
32. Quel est le rang de la Corée du Sud en tant qu'exportateur et importateur mondial ? Qu'est-ce que cela signifie ?
33. Quel est le rang de la Corée du Sud dans l'industrie mondiale ?
34. Cite des exemples d'industries dans lesquelles la Corée du Sud est un leader mondial. Quelles entreprises sont particulièrement importantes dans ces secteurs ?
35. Qu'est-ce que la fabrication avancée et la robotique industrielle ? Quel était le rang de la Corée du Sud dans l'agriculture mondiale ?
36. Comment la Corée du Sud utilise-t-elle la technologie dans son agriculture ? Donne des exemples.
37. Décrivez le réseau autoroutier sud-coréen. Qu'est-ce que le KTX ? Quelle est sa vitesse maximale ?
38. Dans quel domaine de la construction maritime la Corée du Sud est-elle un leader mondial ? Cites-en des entreprises importantes.
39. Ces dernières années, la Corée du Sud fait face à un recul des exportations ? À quoi est-il attribué ?
40. Quel est le montant de la dette publique de la Corée du Sud en 2021 et en 2024 ? Qu'est-ce que cela peut impliquer ?
41. Pourquoi dit-on que l'économie sud-coréenne est dépendante des exportations ? Quel pourcentage du PIB représentent-elles ? Pourquoi cela peut-il être une fragilité ?
42. Quel est le problème lié au vieillissement de la population en Corée du Sud ? Quelles en sont les conséquences sur la population active ?
43. Expliquez les trois phases de la réforme économique sud-coréenne.
44. Montrez pourquoi la stratégie d'industrialisation orientée vers l'exportation a été décisive.
45. Analysez le rôle des chabrols (Samsung, LG, Hyundai, SK) dans l'économie sud-coréenne.
46. Expliquez l'importance de la décentralisation industrielle dans le développement régional.
47. Montrez comment la politique monétaire axée sur l'épargne nationale a soutenu l'investissement.

TD N° 8 : LES REFORMES DANS L'ECONOMIE TOGOLAISE

43. Question de comparaison : Quelle est la principale différence entre les objectifs du PNIASA et du PNIASAN ?
44. Question d'application : Si un agriculteur togolais souhaitait obtenir du matériel agricole (engrais, semences, pulvérisateurs), vers quel projet mentionné dans le texte pourrait-il se tourner en priorité et pourquoi ?
45. Question d'évaluation : Selon les informations fournies, quel projet agricole semble avoir eu l'impact le plus significatif sur la réduction de la pauvreté rurale et justifiez votre réponse.
46. Question de synthèse : En vous basant sur les différents projets agricoles présentés, identifiez deux axes majeurs des efforts du Togo pour développer son secteur agricole.
47. **II- Réformes dans l'Industrie**
48. Question de restitution simple : Qu'est-ce que la Plateforme Industrielle d'Adétikopé (PIA) et quel est son principal objectif ?
49. Question d'analyse : Comment l'Initiative pour la Transparence dans les Industries Extractives (ITIE-Togo) contribue-t-elle à améliorer la gouvernance au Togo ?
50. Question d'application : Une entreprise étrangère souhaite investir au Togo. Quels sont deux résultats des réformes relatives à l'amélioration du climat des affaires qui pourraient l'inciter à choisir le Togo ?
51. Question d'évaluation : L'industrialisation est présentée comme un effort de modernisation au Togo. Selon les informations fournies, pensez-vous que les réformes actuelles sont suffisantes pour transformer le Togo en un pays industrialisé ? Justifiez votre réponse.
52. Question de synthèse : Identifiez deux domaines clés dans lesquels des réformes ont été entreprises pour moderniser le secteur industriel togolais.
53. Quel est le rôle principal de la SEGUCE au Togo ?
54. Question d'analyse : Comment la Charte des Très Petites et Moyennes Entreprises (TPME) contribue-t-elle au développement économique et social du Togo ?
55. Question d'application : Un jeune entrepreneur togolais avec un projet innovant pourrait-il obtenir un financement auprès de l'ANADEB ?
56. Question d'évaluation : Les résultats de la SEGUCE mettent en avant une amélioration de la transparence. En quoi cela est-il bénéfique pour les entreprises commerciales ?
57. Question de restitution simple : Citez deux objectifs de la Stratégie nationale de redynamisation du tourisme au Togo.
58. Question d'analyse : Comment la plateforme « Togo Tourisme » peut-elle contribuer au développement du tourisme dans le pays ?
59. Question d'application : Un touriste souhaitant découvrir des sites historiques au Togo pourrait être intéressé par quelles destinations mentionnées dans le texte ?
60. Question d'évaluation : Pensez-vous que la mise en place d'une base de données touristiques (DATAtourisme) est une réforme pertinente pour le secteur ? Expliquez pourquoi.
61. Question de restitution simple : Donnez un exemple d'infrastructure de transport qui a été développée au Togo grâce aux réformes dans ce secteur.
62. Question d'analyse : Quel est le rôle de l'Autorité de Régulation des Communications Électroniques et des Postes (ARCEP) au Togo ? Donnez un exemple concret de son action.
63. Question d'application : Comment le déploiement de la fibre optique peut-il impacter positivement la vie des populations togolaises, notamment en zones rurales ?
64. Question d'évaluation : L'amélioration du réseau de transport et des télécommunications est essentielle au développement. Selon le texte, quels sont les principaux défis qui pourraient encore exister dans ces secteurs au Togo ?
65. Question de restitution simple : Quel est le rôle du Secrétariat permanent pour le suivi des politiques de réformes et des programmes financiers (SP-PRPF) ?
66. Question d'analyse : En quoi l'évaluation du système de gestion des finances publiques selon la méthodologie PEFA est-elle importante pour le Togo ?
67. Question d'application : Un jeune agriculteur ayant une petite exploitation pourrait-il bénéficier du Mécanisme incitatif de financement agricole fondé sur le partage des risques (MIFA) ? Justifiez votre réponse.
68. Question de restitution simple : Quel est l'objectif principal de l'adoption du Dispositif de Passerelles dans le secteur de la formation au Togo ?
69. Question d'analyse : En quoi les Instituts de Formation en Alternance pour le Développement (IFAD) sont-ils adaptés aux besoins du marché du travail togolais ?
70. Question d'application : Une personne souhaitant se former dans le domaine de la soudure pourrait s'adresser à quelle institution mentionnée dans le texte ?
71. Question de restitution simple : Citez une initiative mise en place au Togo pour promouvoir la mobilité verte.
72. Question d'analyse : Pourquoi la réhabilitation des zones sujettes à la déforestation est-elle importante pour le Togo ?
73. Question d'application : Quel est l'objectif principal du Plan National pour la Réduction de la Pollution de l'Air ?

TD N° 8 : LES REFORMES DANS L'ECONOMIE TOGOLAISE

1. Quelle politique agricole togolaise avait pour objectif principal l'autosuffisance alimentaire et a été lancée en 1977 ?
2. a) La Nouvelle stratégie de développement rural
3. b) La Déclaration de politique de développement agricole (DPDA)
4. c) La politique de la révolution verte
5. d) Le Plan Stratégique de Transformation de l'Agriculture au Togo (PSTAT)
6. Lequel des projets agricoles suivants a permis une augmentation du taux d'autosuffisance céréalière de 101,26% à 112,33% ?
7. a) Le PADAT
8. b) Le PNIASA
9. c) Le PASA
10. d) Le PNIASAN
11. Quel projet industriel a transformé des matières premières agricoles locales comme le coton et le soja, et a conduit à la création de centaines d'emplois directs et indirects ?
12. a) La Chambre de Commerce et d'Industrie (CCIT)
13. b) L'Initiative pour la Transparence dans les Industries Extractives (ITIE-Togo)
14. c) La Plateforme Industrielle d'Adetikopé (PIA)
15. d) Les réformes relatives à l'amélioration du climat des affaires
16. Quel est l'objectif principal de la SEGUCE (Société d'Exploitation du Guichet Unique pour le Commerce Extérieur) au Togo ?
17. a) Soutenir et promouvoir le développement des Très Petites et Moyennes Entreprises (TPME).
18. b) Lutter contre la pauvreté à travers le financement de projets innovants.
19. c) Faciliter, dématérialiser et sécuriser les opérations d'importation et d'exportation au port.
20. d) Transformer le secteur touristique en un moteur de croissance économique.
21. Lequel des projets de transport suivants est un corridor routier d'une longueur de 746 km ?
22. a) La route Lomé- Savèe Kondji
23. b) La route communautaire CU19 de l'UEMOA
24. c) Le Corridor Lomé-Sinkassé
25. d) Les routes de contournement de Bafilo
26. Citez trois des principales politiques agricoles initiées au Togo depuis 1977.
27. Quels sont les trois principaux résultats du Programme National d'Investissement Alimentaire et de Sécurité Alimentaire et Nutritionnelle (PNIASAN) ?
28. Expliquez comment l'Initiative pour la Transparence dans les Industries Extractives (ITIE-Togo) a contribué à la bonne gouvernance au Togo.
29. Quel est le rôle de la Charte des Très Petites et Moyennes Entreprises (TPME) et quels sont deux de ses résultats concrets ?
30. Nommez deux des Instituts de Formation en Alternance pour le Développement (IFAD) et leurs domaines de spécialisation respectifs.
31. Analysez l'impact cumulé des différents projets agricoles (PNIASA, PNIASAN, PADAT, PASA, PPAAO-Togo, PDPR-K, PBVM, ZAAP) sur l'atteinte de l'autosuffisance alimentaire et l'amélioration des conditions de vie des agriculteurs au Togo.
32. Discutez des réformes entreprises par le Togo pour améliorer le climat des affaires et attirer les investissements. Quels sont les indicateurs de succès mentionnés dans la leçon ?
33. Décrivez les principales réformes mises en place dans le secteur du commerce au Togo. Comment ces réformes ont-elles visé à faciliter les échanges et à soutenir les entreprises locales ?
34. Évaluez les efforts du Togo en matière de promotion du tourisme, en vous basant sur la Stratégie nationale de redynamisation du tourisme et les plateformes numériques mentionnées. Quels sont les sites touristiques populaires mis en avant ?
35. Expliquez l'importance de l'ARCEP (Autorité de Régulation des Communications Électroniques et des Postes) et du CERT.tg (Centre national d'alerte et de réaction aux menaces informatiques) dans le développement et la sécurisation des télécommunications au Togo.
36. La Politique de la révolution verte a été lancée en 1986. (Faux, 1977)
37. Le PNIASA a permis une réduction de la pauvreté rurale de 55% à 27%. (Faux, c'est le PNIASAN)
38. La PIA se concentre sur la transformation des matières premières agricoles locales comme le coton et le soja. (Vrai)
39. L'ANADEB vise principalement à renforcer les compétences des jeunes et des femmes pour favoriser l'entrepreneuriat. (Vrai)
40. Le programme P36 (Programme de Mobilité Verte) encourage l'utilisation de véhicules à carburant fossile. (Faux, il encourage l'utilisation de véhicules électriques)
41. Citez au moins trois politiques agricoles différentes qui ont été lancées au Togo dans le cadre des réformes du secteur agricole.
42. Question d'analyse : Quel était l'objectif principal du Programme National d'Investissement et de Sécurité Alimentaire (PNIASA) et quels sont deux résultats concrets qui ont été atteints grâce à ce programme ?

TD N° 9 : DES MECANISME AUX CONSEQUENCES ET CONTESTATION DE LA MONDIALISATION

- Donner la définition de concepts : mondialisation, globalisation, OMC, marché mondial, village planétaire.
- Explique comment est né ce concept de « mondialisation ».
- Identifie les facteurs qui ont favorisé la naissance de la mondialisation.
- La révolution industrielle née au milieu du 18^e siècle en Grande Bretagne est à l'origine de nombreuses innovations technologiques. Montre comment celles-ci ont contribué à la naissance de la mondialisation.
- Explique comment la révolution du numérique qui a réduit le monde en un village planétaire.
- Quel nom donne-t-on à ceux qui font bouger la mondialisation ?
- Les acteurs de la mondialisation peuvent être scindés deux catégories distinctes. Identifie-les.
- Relève les différents acteurs politiques et économiques de la mondialisation.
- Dans quelle catégorie classe-t-on les acteurs suivants : ONU, OMC, OMS, UA, UEMOA, CEDEAO, ONG, Togo, USA, Pepsi Cola.
- Comment fonctionne la mondialisation ? quels sont les mécanismes e fonctionnement de la mondialisation ?
- La mondialisation accentue-t-elle les **inégalités entre les pays** ? Justifiez.
- Montrez que la mondialisation profite davantage à certains espaces qu'à d'autres.
- Analysez les limites de l'intégration de l'Afrique dans la mondialisation.
- Expliquez pourquoi certains pays restent des **réservoirs de matières premières**.
- Discutez l'affirmation suivante : « La mondialisation est un facteur de dépendance pour les pays du Sud. »
- L'un des mécanismes du fonctionnement de la mondialisation sont les échanges commerciaux. Explique comment ceux-ci y contribuent.
- Explique-en quoi la mobilité des personnes contribue au fonctionnement de la mondialisation.
- Analyse le rôle des mouvements des flux de capitaux, des informations et des services dans le fonctionnement de la mondialisation.
- Relève les principales zones d'échange de la mondialisation dans le monde.
- Identifie les foyers moteurs de la mondialisation dans le monde.
- En dehors de anciens foyers de la mondialisation, il existe de nouveaux foyers. Cite-les.
- Les pays émergents participent-ils à la mondialisation ? de quelle manière ?
- Entre la société d'avant la mondialisation et celle d'après, quelle différence fais-tu ?
- A l'aide des exemples concrets, montre que la mondialisation produit des effets néfastes.
- La mondialisation est-elle une bonne ou mauvaise chose pour le monde entier ?
- Décris les conséquences de la mondialisation sur le plan économique, politique, socioculturel et environnemental.
- La mondialisation a-t-elle des conséquences ? présente-les.
- La mondialisation n'est pas appréciée partout dans le monde. Il y en a qui la détestent. Identifie-les et donne les raisons qui expliquent leur position.
- Définis les mots ou concepts ci-après : antimondialisation, antimondialiste, altermondialiste, résistance culturelle.
- Enumère les mouvement antimondialistes, altermondialiste et de mouvement de résistance culturelle à la mondialisation que tu connais.
- Que pense les antimondialistes de la mondialisation ?
- Quelle est la position des altermondialistes face à la mondialisation
- Observe les images ci-contre et place les chacune dans son contexte historique général et précis.
- Relève les messages que chacune d'elle véhicule.
- Identifie les acteurs de chacune des images.
- Présente le monde selon la vision des antimondialistes.
- Décris le monde des altermondialistes.
- Quel mon monde promeuvent les mouvements de résistance culture à la mondialisation ?
- Relève les principes du commerce mondiale imposés par l'OMC
- Qu'entend-on par « nationalisme économique » ; « protectionnisme » ? qui sont ceux qui soutiennent cette idée ?



Document 1

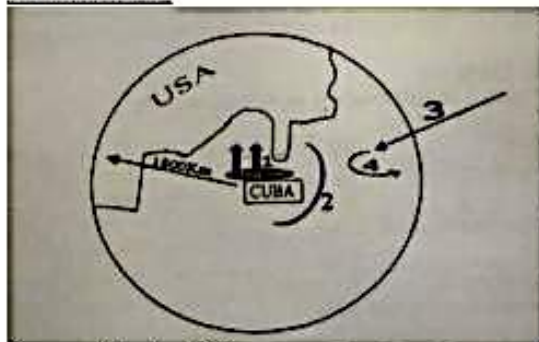
- 1- Donne un titre au document 1 ci-dessus puis situe l'évènement dans le temps.
- 2- Te basant sur tes connaissances du cours, fais une analyse du document 1.

Document 2 : Commerce extérieur des USA en milliards de dollars US

Années	1960	1970	1980	1990	2000	2010
Export	27	59,7	288	552,1	1093,2	1611
Import	22	55,8	293,8	629,7	1475,5	1887,06

Source : www.Perspective monde 2011

- 1- A l'aide des données du document 2, construit sur un même graphe, l'évolution des exportations et des importations des USA entre 1960 et 2010. (4pts)
- 2- a- Analysez le graphe obtenu
b- Détermine l'état de la balance commerciale entre 1980-2010
c- A partir de ton cours explique la situation de la balance commerciale durant cette période.
- 3/ Identifie les raisons qui expliquent la force du marché intérieur américain.

Document 3 :

Source : Atlas des USA

- 1- Proposez un titre au document 3
- 2- Habillez-le à partir des chiffres qui y sont inscrits.

Document 4 : Statistiques du tourisme au Togo

Années	Nbr de touristes	Nbr d'emplois	Recettes
1980	91920	2.569	3.924.900.000
1985	135730	3.000	6.500.000.000
1990	132000	3.000	6.000.000.000
1993	32000	2.000	1.000.000.000
1997	100000	2.500	1.000.000.000
2009	226000	2.000	3.000.000.000

Source : Ministère du tourisme du Togo

- 1- D'après le tableau ci-dessus :

- a- Trace la courbe en mettant les années en abscisse et le nombre de touristes en ordonnées. Prendre pour échelle 1cm pour 50.000 touristes. (1,5pt)
- b- Commente la courbe obtenue en insistant sur les causes qui expliquent la chute de l'activité touristique entre 1990 et 1997. (1,5pt)

Document 5 : évolution de la consommation énergétique que Togo (en % de la consommation totale)

Années	1999	2002	2006	2008
Biomasse	71	75	76	71
Produits pétroliers	26	21,5	20,5	29
Electricité	3,5	3	4	3

Source : Direction de l'énergie, 2007-2010

Document 6 : Les types d'énergies utilisées par les ménages urbains et ruraux en 2006

Energie	Electricité	Gaz	Pétrole	Charbons	Bois	Autre
Urbain	0,3	2,5	1,2	50,2	14,3	1,5
Rural	0	0,1	0,1	17	76,4	6,4

Sources : DGSCN, 2006

- 1- Commente les tableaux 1 et 2
- 2- Représente à l'aide d'un histogramme et dans le même repère l'utilisation du bois et du charbon de bois en milieu rural et en milieu urbain et colorie en bleu le type d'énergie utilisé en milieu urbain.
- 3- Dans un paragraphe succinct de quinze lignes au plus, déduis les conséquences de ce mode de consommation d'énergie sur l'environnement et son impact sur le secteur agricole.

Bonus:

- 1- Choisis deux (2) facteurs naturels et explique en quoi ils constituent des atouts pour la céréaliculture au Togo.
- 2- L'agriculture occupe plus de 60% de la population active togolaise, mais les rendements sont encore faibles. Quels sont les efforts entrepris par les pouvoirs publics en vue de moderniser ce secteur ?
- 3- A travers deux (2) exemples, prouve que le secteur agricole et celui industriel sont réciproquement complémentaires.

TD N° 10 : LE TOGO DANS LA MONDIALISATION

1. Grâce à son port, un hub logistique majeur en Afrique de l'Ouest, le Togo participe activement aux échanges internationaux dans le cadre de la mondialisation. qu'entend-on par hub logistique ?
2. Dans l'espace sous-régional ouest-africain, indique la place du Togo dans les échanges commerciaux.
3. Quel est le rôle du Togo dans la mondialisation ?
4. Montre comment le Togo s'est-il intégré dans l'économie mondiale ?
5. Relève les produits d'exportation du Togo dans le cadre de la mondialisation.
6. Relève les produits d'exportation du Togo dans en Afrique de l'Ouest.
7. Indique les principaux partenaires économiques du Togo
8. Identifie les zones du monde sont les plus concernées par les échanges commerciaux avec le Togo
9. Indique la place occupe le port autonome de Lomé dans le commerce international
10. Quelles sont les principales exportations et importations du Togo ?
11. Quelles entreprises multinationales sont implantées au Togo ?
12. Comment les investissements étrangers influencent-ils l'économie togolaise ?
13. Quels sont les avantages pour le Togo d'attirer les IDE (Investissements Directs Étrangers) ?
14. Comment le Togo protège-t-il ses industries locales face à la concurrence mondiale ?
15. Quel est l'impact de la mondialisation sur l'emploi au Togo ?
16. Comment la formation professionnelle est-elle adaptée aux exigences du marché mondial ?
17. En quoi les réformes économiques togolaises facilitent-elles l'intégration à la mondialisation ?
18. Quels sont les effets de la mondialisation sur la culture togolaise, l'économie, la société et l'environnement ?
19. Quelle est la place du Togo dans l'économie numérique mondiale ?
20. Quels sont les impacts environnementaux de la mondialisation au Togo ?
21. Comment le Togo gère-t-il les défis liés à la pollution et à la déforestation dans un contexte global ?
22. Quels sont les effets de la mondialisation sur les inégalités sociales au Togo ?
23. Comment le Togo participe-t-il aux grandes organisations internationales (OMC, ONU, CEDEAO) ?
24. Comment le Togo participe-t-il aux grandes organisations sous-régionales (UEMOA, CEDEAO, AES, UA) ?
25. Quelles politiques le gouvernement togolais a-t-il mises en place pour s'adapter à la mondialisation ?
26. Quels sont les défis du Togo face aux grandes puissances économiques dans le contexte mondial ?
27. Togo dans l'UEMOA : poids, investissement et résultat.
28. Enumère les pays du reste du monde qui échangent avec le Togo
29. Explique pourquoi la balance commerciale du Togo est toujours déficitaire dans le cadre de ses échanges avec l'UE.
30. Quel est le partenaire privilégié du Togo
31. L'AGOA est-elle vraiment une opportunité pour le Togo ?
32. Les produits chinois ont envahi le Togo entier. Que fait le Togo pour profiter du vaste marché chinois avec sa population estimée à environ 1,5 milliards.
33. Montre que le Japon, les USA, la Chine, l'UE jouent un rôle déterminant dans échangeant avec le Togo.
34. Soient les deux images ci-contre. Place-les dans leur contexte historique général et précis.
35. Indique le fait qu'évoque chacune d'elle et explique-les.
36. Le Togo est-il un bon élève de la mondialisation ?
37. Cite les problèmes du Togo liés à la mondialisation au Togo sur les plan économique, sociale, culturel et politique.
38. Relève les dix premiers produits d'exportation du Togo avec le reste du monde.
39. Décris la nature des échanges entre le Togo et ses voisins immédiats (le Ghana et le Bénin).

